

一、單一選擇題：54%（每題 2 分）

1. () 世界陸地傳統上分為七大洲，世界各國多以國家所在之大陸分區；西亞與北非在傳統的分區上雖然屬於不同的大陸，但常因為相同的宗教文化與種族被分在同一地理區。請問：西亞和北非主要是哪一種宗教文化與種族為主？ (A) 猶太教／猶太人 (B) 伊斯蘭教／阿拉伯人 (C) 印度教／印度人 (D) 基督教／日耳曼人。

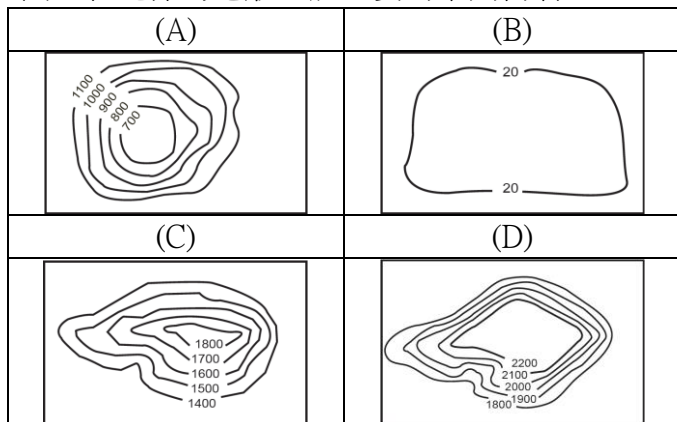
2. () 附圖為世界四大文明古國的位置。這四大文明古國的發展都有重要的河川流經。請問：下列文明古國與河川的配對何者錯誤？ (A) 甲：黃河 (B) 乙：恆河 (C) 丙：剛果河 (D) 丁：尼羅河。



3. () 附圖為西亞傳統駱駝商隊的漫畫示意圖。請問：圖中的漫畫是要表達西亞哪一項重要的地理特性？ (A) 位於歐亞非三洲的交會區 (B) 熱帶栽培業盛行 (C) 石油礦產帶動新興產業 (D) 氣候乾燥炎熱。



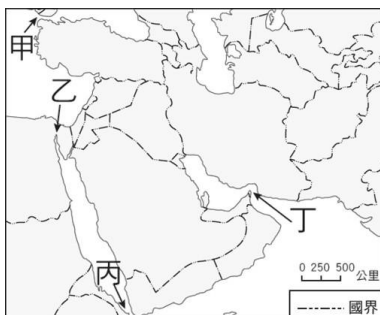
4. () 西亞和北非的地形主體主要為下列何者？



5. () 西亞位於板塊的交界帶，近年來也發生過多起七級以上的地震，造成嚴重的災害與損失。附圖為西亞地圖，請問：哪兩個地區目前仍處於地殼的不穩定帶，是地震頻繁的發生地區？ (A) 甲乙 (B) 乙丙 (C) 甲丁 (D) 丙丁。



6. () 附圖為西亞簡圖，圖中甲～丁為重要的海峽運河要道。2026 年因為伊朗發展核武與長程飛彈，美國與以色列認為研判外交路徑不足以解決問題，於 2 月 28 日對伊朗發動軍事攻擊，隨後伊朗以封鎖荷莫茲海峽反制。請問：荷莫茲海峽於下列何處？ (A) 甲 (B) 乙 (C) 丙 (D) 丁。



7. () 西亞的肥沃月彎大致包含美索不達米亞平原、約旦河流經的巴勒斯坦陷落地帶至埃及東北部，因形狀像一彎新月而得名（如圖中甲區），此處氣候乾燥，卻因鄰近豐富的灌溉水源，而成為古文明的重要發源地。請問：這個得天獨厚的甲區主要在哪个國家境內？ (A) 土耳其 (B) 伊拉克 (C) 阿富汗 (D) 葉門。



8. () 附圖為西亞及北非簡圖，圖中甲區右側▲為歐亞界山，請問：該歐亞界山為下列何者？ (A) 中央山脈 (B) 喜馬拉雅山 (C) 高加索山 (D) 烏拉爾山。



9. () 氣候的特徵往往左右了居民的食衣住行：西亞與北非的房屋大多為平頂、厚牆、小窗；服飾不論男女多著長袍。請問：影響此處氣候的主要原因為何？ (A) 副熱帶高壓籠罩 (B) 距海遙遠水氣無法到達 (C) 位於背風側少雨 (D) 季風隨季節改變風向。



10. () 附圖是西亞地區常見的通風塔。通風塔分成兩部分：上方四面鏤空的建築，可讓外面的風導引進入通風塔中，利用室內外溫差的特性，將氣流循環到室內。室內建有水池，熱風吹入屋內水池上方，之後再吹往室內各處，即使室內沒有空調也舒適。請問：通風塔的主要功能為下列何者？ (A) 綠能發電 (B) 減少沙塵 (C) 通風降溫 (D) 降低濕度。



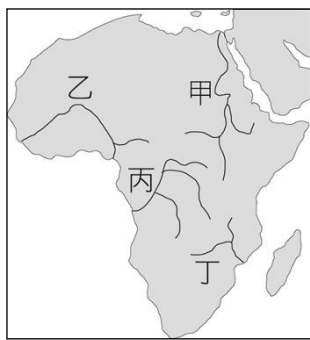
11. () 下列有關西亞與北非地區發展綠洲農業土地利用的特色，何者錯誤？ (A) 成層分布，增加作物產量 (B) 適合發展熱帶栽培業 (C) 綠洲農業屬於集約農業 (D) 主要種植稻米、小麥、果樹與椰棗。



12. () 2020 年 8 月位於西亞的黎巴嫩首都貝魯特發生大爆炸，主要是因為港口存放了大量的化學物品，造成嚴重的傷亡與財物損失。請問：大爆炸發生的月份，其氣候特色為下列何者？ (A) 高溫多雨 (B) 涼爽少雨 (C) 低溫降雪 (D) 炎熱乾燥。



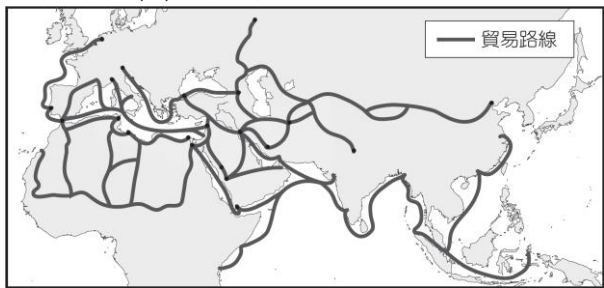
13. () 這條河川的上游為熱帶莽原氣候，每年夏天的雨水為這條河川帶來豐沛的水量。早期因河水氾濫，可為下游帶來充足的水量與肥沃的土壤，使得沿河居民都不需要施肥就能有很好的作物收成。然而隨著人口的增加，農業用地與灌溉水源的需求也逐日增加，後來亞斯文高壩的建築，解決了用水的問題，卻也因此河川不再氾濫，也無法為下游補充新土，居民需自行施肥。請問：上述河川為何者？ (A)甲：尼羅河 (B)乙：尼日河 (C)丙：剛果河 (D)丁：三比西河。



14. () 長榮海運租用的巨型貨櫃輪「長賜輪」於 2021 年 3 月 23~29 日在蘇伊士運河打橫擱淺，造成航道雙向封閉多日，交通癱瘓使得許多貨輪動彈不得，造成國際經濟重大損失（因此新聞出現「大排長榮」的標題）。請問：此運河主要縮短哪兩大海域的距離？ (A)印度洋、大西洋 (B)太平洋、北極海 (C)大西洋、南冰洋 (D)印度洋、太平洋。

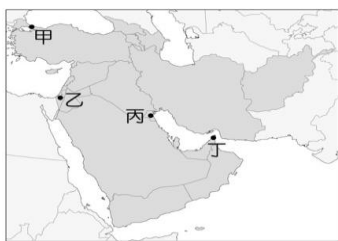


15. () 柯南和少年偵探隊到馬來西亞的樂高樂園 (1°N, 103°E) 遊玩，發現飯店房間的天花板有個大大的箭頭，經詢問得知是聖地麥加 (21°N, 39°E) 的方向，便於指引信徒祈禱。請問：依經緯度判斷，樂園房間天花板的箭頭應指向哪個方向？ (A)東南方 (B)東北方 (C)西南方 (D)西北方。
16. () 西元八~十三世紀，阿拉伯人四處征戰、貿易，除了商隊遍及歐亞非三大洲之外，亦將伊斯蘭教傳播到各地。阿拉伯人的國際貿易路線長達數千公里遠，如圖所示。請問：阿拉伯人的貿易範圍未到達下列哪一個海域？ (A)大西洋 (B)太平洋 (C)北極海 (D)印度洋。

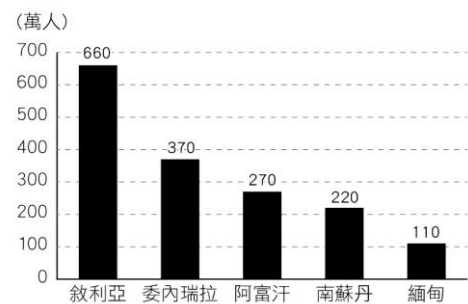


17. () 庫德族 (The Kurds) 主要散居兩河流域上游，在四個國家等國交界山區活動的民族，庫德族有超過 2,000 萬以上的人口，故希望能夠爭取獨立。但此區石油資源豐富，這四個庫德族居住的國家為了自身利益，並不樂見庫德族合併獨立並分走他們的領土與資源，故庫德族獨立之路仍遙遙無期。請問：庫德族分布的國家不包含下列哪國？ (A)土耳其 (B)伊拉克 (C)科威特 (D)敘利亞。

18. () 耶路撒冷為猶太教、基督教與伊斯蘭教三大宗教的聖地，每年吸引許多信徒前來朝聖；以色列與巴勒斯坦也都宣稱耶路撒冷是他們的首都，為此爭論不休。請問：耶路撒冷應於附圖中何處？ (A)甲 (B)乙 (C)丙 (D)丁。



19. () 附圖是全球難民數量統計圖，其中難民人數最多的是位於西亞的敘利亞，除了氣候環境之外，長年內戰也使得人民流離失所，紛紛搬離家園尋找更好的生存環境。請問：下列何者並非西亞地區紛爭衝突不斷的原因？ (A)血鑽石的爭奪 (B)宗教文化與種族衝突 (C)水資源的衝突 (D)領土的爭奪。



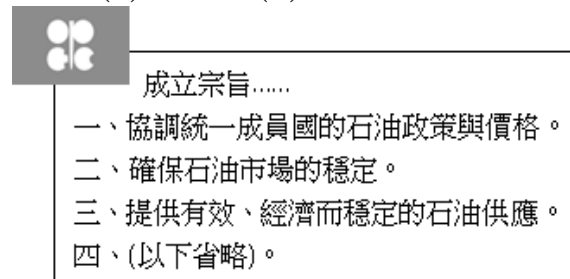
20. () 猶太人和阿拉伯人爭奪領土長達七十年之久，雙方都認為自己擁有巴勒斯坦地區的主導權，因此衝突不斷，至今尚未平息。請問：阿拉伯人目前掌控哪些地區？(甲)西奈半島 (乙)加薩走廊 (丙)約旦河西岸 (丁)戈蘭高地 (A)甲乙 (B)乙丙 (C)丙丁 (D)甲丁。



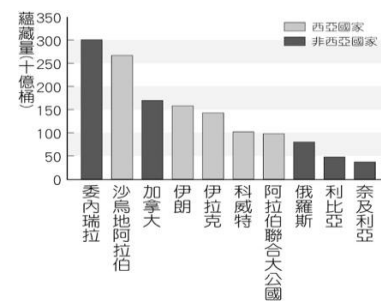
21. () 西元 2010 年，杜拜的哈里發塔在全世界高度關注之下風光啟用。這座高 828 公尺的哈里發塔也因此擊敗了高度 508 公尺的臺北 101 大樓，成了世界最高的大樓，亦自帆船飯店後，成為該國重要的地標。請問：杜拜積極的發展與投資各項產業（觀光業、金融業等），是為了避免經濟發展陷入何種困境？ (A)受殖民國控制經濟 (B)過度依賴單一礦產 (C)人口外移嚴重 (D)歐美強勢文化介入。



22. () 附圖是某一經濟組織的成立宗旨與標誌，目前有 12 個會員國，其總部設於奧地利維也納。依據其內文敘述，該組織應該為下列何者？ (A)OPEC (B)APEC (C)BTS21 (D)LAPUPU。

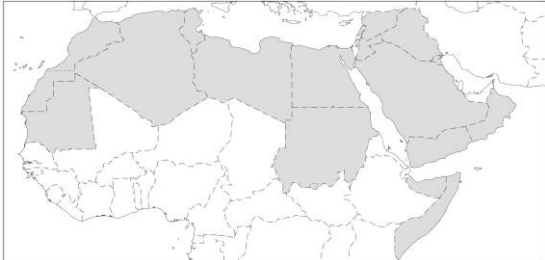


23. () 附圖為西元 2017 年世界前十大石油蘊藏量國家排名。西亞地區蘊藏豐富的石油資源，從圖中可發現西亞地區的產油國主要瀕臨哪一個海域？ (A)波斯灣 (B)地中海 (C)波羅的海 (D)北海。

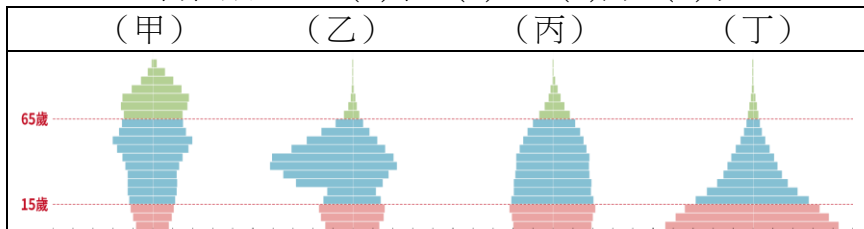


24. () 西亞與北非於 20 世紀初發現石油，為這個地區帶來巨大的改變。請問：下列何者並非是此處發現石油所帶來的影響？ (A)成為人口移入地區 (B)產油國與非產油國間的貧富差距擴大 (C)產油國的國民所得提升 (D)經濟結構由工商業轉為農業。

25. () 西元 2010 年 12 月 17 日，突尼西亞小販布瓦吉吉 (Mohamed Bouazizi) 抗議警察以他無照擺攤為由頻頻取締罰款，讓他難以維生，憤而當街自焚以示不滿。民眾群起抗議政府貪腐與經濟停滯，此事件引發大規模街頭示威遊行及爭取民主活動，並導致獨裁總統班阿里 (Ben Ali) 政權於 2011 年垮台，外界以突尼西亞國花茉莉花，稱之為「茉莉花革命」。這一民主浪潮很快的影響到其他國家，附圖為該運動的主要影響範圍區域圖，請問：這些地區有何共同性？ (A)均因開發石油致富 (B)國家均動盪不安，時常引發內戰 (C)大多信奉印度教，不吃牛肉 (D)大部份屬於屬於熱帶沙漠氣候區。



26. () 附圖為海灣六國的標誌，此六國的經濟發展程度普遍較高，人均 GDP 也都高於世界平均值，因此各國引進大量國際移工，投入當地人不願從事的勞動型產業。請問：這些國家的國際移工最可能從事哪項產業？ (A)農業 (B)金融業 (C)建築業 (D)高科技工業。
27. () 承上題，海灣六國的人口金字塔圖，應最接近下列何種類型？ (A)甲 (B)乙 (C)丙 (D)丁。



二、題組：26% (每題 2 分)

【題組一】

附圖是古絲路的路線簡圖，由長安出發一路向西，最遠可抵達歐洲的古羅馬帝國。請依提示回答下列問題：

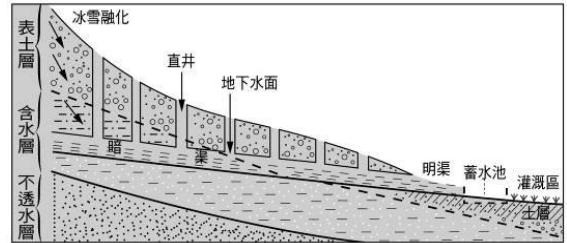


28. () 西亞和北非的界線主要為下列何者？ (A)尼羅河 (B)蘇伊士運河 (C)巴拿馬運河 (D)約旦河。
29. () 羅馬帝國派出使者從甲地出發，向東行到達長安，請問：這一路上不會遇到哪種氣候類型？ (A)溫帶地中海型氣候 (B)熱帶沙漠氣候 (C)溫帶沙漠氣候 (D)熱帶季風氣候。
30. () 乙～丙為中亞五國，有關中亞五國的敘述，下列何者錯誤？ (A)主要信仰為伊斯蘭教 (B)各國傳統服飾各具特色，與西亞和北非的穆斯林傳統服裝不同 (C)氣候為熱帶沙漠氣候 (D)是東西文明交會的心臟，古絲路必經之地。

【題組二】

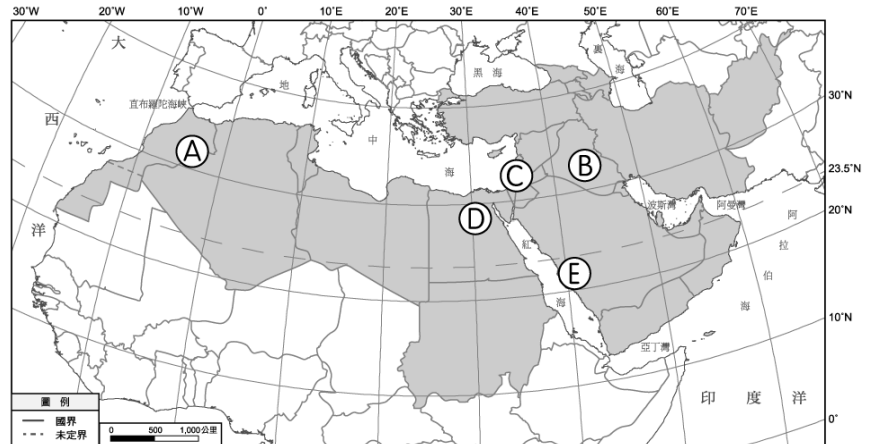
西亞與北非受氣候乾燥的限制，多以畜牧為主，少數有水灌溉的地區得以發展灌溉農業；有些在河岸形成「帶狀綠洲」，有些則在山麓地帶利用人工引水形成「點狀綠洲」。近年來，因人口成長，此區的灌溉面積不斷增加，且因不同的地區也有不同的灌溉方式。請依提示回答下列問題：

31. () 附圖為坎井示意圖。此種水源的利用方式，主要出現在下列何處？ (A)伊朗高原、亞特拉斯山 (B)約旦河沿岸、死海附近 (C)阿拉伯高原、安納托利亞高原 (D)兩河流域、尼羅河三角洲。



32. () 承上題，有關利用坎井灌溉的敘述，下列何者正確？ (A)暗渠的作用是避免有人下毒 (B)雪水的融化量最多在冬季 (C)此處的綠洲農業屬於粗放農業 (D)此種水源取用為地下水。

下圖為西亞與北非的灌溉類型分布圖，請回答下列問題：

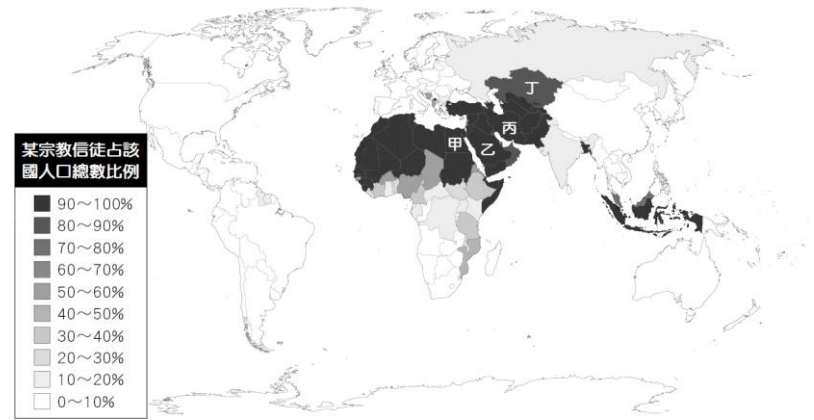


33. () 此處遍布沙漠，附近既無高山雪水、亦無河川的地表水源，只能利用鑿井技術，開發深層地下水，並用軸心噴灌系統灌溉，故人工綠洲的形狀均為圓形。請問：該灌溉方式出現於圖中何處？ (A)A (B)B (C)D (D)E。
34. () 這個地區雖然氣候乾燥，卻有兩區得天獨厚，擁有河川的灌溉水源，請問以河水灌溉的主要哪兩個地方？ (A)A、B (B)B、D (C)D、E (D)C、E。
35. () 承上題，乾燥氣候區水源珍貴，部分跨國河川因為上游國家修築水壩，使得下游國家用水減少，故國家間常出現水資源爭奪的衝突。請問：兩河流域水資源爭奪不包含下列哪個國家？ (A)土耳其 (B)伊拉克 (C)阿富汗 (D)敘利亞。
36. () 圖中 C 國利用電腦控制灌溉水量，利用滴灌技術確保每株作物都可獲得水源灌溉，除了可節省用水，還可以避免土壤鹽鹼化。請問：C 國為下列何者？ (A)以色列 (B)利比亞 (C)卡達 (D)賽普勒斯。

背面尚有試題

【題組三】

附圖是世界伊斯蘭教的信徒分布情形，該宗教起源於七世紀的阿拉伯半島，由穆罕默德創立。阿拉伯人藉由經商與征戰，將伊斯蘭教傳播到世界各地，目前已有接近二十億的信徒。請依提示回答下列問題：

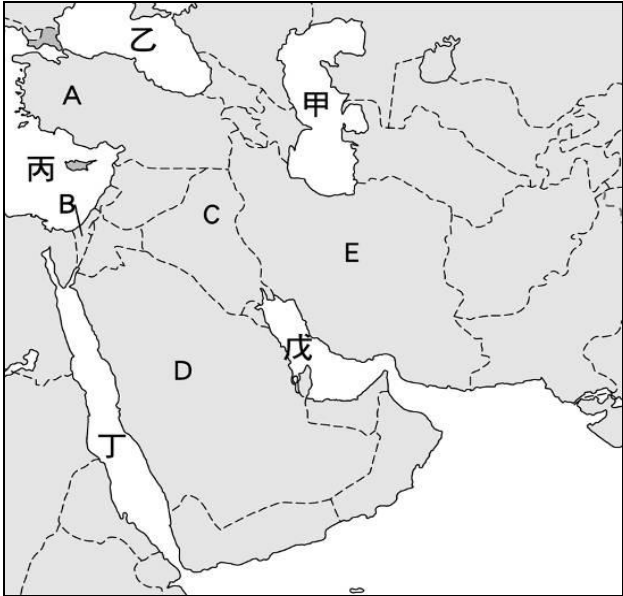


37. () 有關該宗教的敘述，何者正確？ (A)信徒被稱為僧侶 (B)宗教的經典為聖經 (C)經典需使用阿拉伯語念誦為佳 (D)教徒需每星期到教堂做禮拜。
38. () 附圖是西亞宗教的發源與演變情形。請問：目前與美國發生戰爭的伊朗，主要的教派為何？ (A)基督教派的東正教 (B)伊斯蘭教的什葉派 (C)伊斯蘭教的遜尼派 (D)基督教派的羅馬公教。
39. () 右圖是穆斯林日常生活中所需遵行的五功，主要受到經典中的教義影響。請問：下列敘述何者正確？ (A)乙：禮——每日需向聖地麥加朝拜五次 (B)丙：齋——齋戒月期間只有白天可以飲食 (C)戊：朝——一生至少要到聖地耶路撒冷朝聖一次 (D)甲：課——能力範圍內需捐錢給政府。
40. () 除了規範五功之外，該宗教亦嚴格規範信徒的飲食，經典中規範不能飲酒，亦有禁止接觸的食物。請問：在設有清真認證標誌的餐廳無法點到下列何種餐點？ (A)勁辣雞腿堡 (B)起司牛肉堡 (C)塔塔醬鱈魚堡 (D)雙層豬肉滿福堡。



三、非選擇題：20%（每題 2 分）

【非選擇題一】請寫出此區的海域（甲～丁）名稱



班級：座號：姓名：

| 題號 | 代號 | 答案 |
|----|----|----|
| 41 | 甲 | |
| 42 | 乙 | |
| 43 | 丙 | |
| 44 | 丁 | |

【非選擇題二】附圖為西亞國家分布圖，請寫出國家名稱



| 題號 | 代號 | 答案 |
|----|----|----|
| 45 | 乙 | |
| 46 | 丁 | |
| 47 | 戊 | |
| 48 | 己 | |
| 49 | 辛 | |
| 50 | 壬 | |

非選擇題得分

【試題結束，請檢查是否每題均已作答。】