

臺北市立誠正國中 114 學年度第一學期八年級第三次段考公民科試卷

班級： 座號：

姓名：

一、基本題型：(共 30 題，每題 3 分；共 90 分)

1. 我國政府分作中央政府與地方政府，請問兩者之間分權的原理主要依據下列何者？

- (A)垂直分權
- (B)水平分權
- (C)五權分立
- (D)中央集權

2. 關於我國地方政府權力劃分，請問下列何者敘述最不恰當？

- (A)依照憲法行五權分立
- (B)包含行政與立法兩權
- (C)負責因地制宜之事務
- (D)與中央政府互相合作

3. 地方政府「依法」組織地方自治團體，以實現地方自治，請問地方政府的自治權力包含下列何者？

- (A)行政權、司法權
- (B)行政權、立法權
- (C)立法權、監察權
- (D)監察權、考試權

4. 呈上題，請問「依法」指的哪一部法律？

- (A)《公民投票法》
- (B)《臺北市都市更新自治條例》
- (C)《財政收支劃分法》
- (D)《地方制度法》

5. 我國有分三級地方政府，請問下列何者與其他機關層級不同？

- (A)基隆市
- (B)新竹市
- (C)馬公市
- (D)嘉義市

6. 呈上題，下列何者不屬於我國地方自治團體？

- (A)新北市 烏來區
- (B)臺北市 南港區
- (C)宜蘭縣 宜蘭市
- (D)新竹縣 湖口鄉

7. 我國地方選舉每四年舉辦一次，下列是各地參選人所提出的政見，請問何者最可能是參選地方行政首長？

(A)阿明：我上任後會嚴格監督與審查預算

(B)小美：我上任後會依法公正作出判決

(C)大強：我上任後會積極爭取經費興建捷運

(D)莉莉：我上任後會積極推動國防安全

8. 2024 年 7 月，臺北市政府依照《臺北市土地使用分區管制自治條例》規定，要求寶可夢機台撤出住宅區或非商業區，預計有 1/3 的機台受影響。請問上述法規是經由下列哪個機關制定的？

- (A)立法院
- (B)臺北市議會
- (C)臺北市政府
- (D)南港區公所

9. 依《臺北市重陽敬老金致送自治條例》規定，設籍至重陽節當日滿 3 個月以上的長輩可以領取重陽節禮金，依照年齡區分為：65-84 歲(原住民 55-74 歲)領 1500 元；85-98 歲(原住民 75-88 歲)領 3000 元；99 歲(原住民 89 歲)以上領 10000 元及禮品。請問此項政策屬於下列哪一項地方自治工作？

- (A)安全衛生
- (B)經濟發展
- (C)社會福利
- (D)教育文化

10. 去年 10 月台中市出現非洲豬瘟檢驗陽性案例，為豬瘟疫情 7 年前世界爆發以來首例。後續中央政府成立應變中心，實施豬隻限時禁運禁宰、制定防疫政策等事項；台中市政府負責清潔消毒、案例通報等工作。針對上述事件，以下敘述何者有誤？

- (A)中央政府插手防疫政策，破壞了地方自治
- (B)中央政府的政策需要地方政府配合執行
- (C)複雜的事務需要中央和地方共同合作
- (D)公共事務會超出單一地方政府能力所及

11. 由於「甲」，越來越多公共事務不再是單一方政府能獨立完成，需要中央與地方或地方與地方的合作與協調，才能順利推動。請問上文中的「甲」指的是？

- (A)郊區化

- (B)都市化
(C)一致化
(D)社會化
12. 我國在 2010 年和 2014 年，分別進行過兩次縣市合併，部分縣市「升格」為直轄市，請問關於「升格」直轄市帶來的影響不包含下列何者？
(A)獲得更多經費資源
(B)提高地方行政效率
(C)擴大地方自治範圍
(D)犧牲地方自治權力
13. 現任南港區長許純綺曾出任中正區長、士林區副區長，請問許區長的遴選方式為下列何者？
(A)由臺北市長指派
(B)由臺北市議會指派
(C)由臺北市民選出
(D)由行政院長指派
14. 臺北市長蔣萬安於市政會議中裁示 115 年度三點重大政策，其中一項為國中小營養午餐全面免費，此項政策需要編列臺北市政府預算，估算約新台幣 20 億餘元。請問上述政策需要通過下列哪項程序才能實施？
(A)臺北市政府決議
(B)臺北市議會審議
(C)臺北市公所決議
(D)臺北市民代表會審議
15. 2025 年 7 月，中選會審議通過下屆地方民意代表選舉選區變更案，其中新竹縣由於地方人口結構改變，竹北市人口增加；關西鎮人口減少，在議會總席次不變的情況下，竹北市增加一席席位，關西鎮減少一席。請問上述所指為何項職位的席次變化？
(A)立法委員
(B)新竹縣長
(C)新竹縣議員
(D)竹北市民代表
16. 民主社會中，政治參與不僅是公民的權利，更是每個人的責任。請問下列何者的行為算是政治參與？
(A)與同學討論段考題目
(B)參加地方示威遊行
(C)加入社區羽球社團
(D)參加歌唱比賽節目
17. 從小戶籍在基隆市安樂區的阿興從大學開始搬到高雄市居住，今年年滿 23 歲，請問下列何者可能是他能從事的政治參與形式？
(A)登記參選基隆市議員
(B)投票決定安樂區長
(C)登記參選基隆市長
(D)參與罷免高雄市長
18. 投票為現代國家最常見的政治參與類型，是人民影響政策的方式，大致可以分作人的投票和事的投票兩種，請問兩者投票資格差異不包含下列哪項？
(A)年齡限制
(B)戶籍設籍
(C)監護宣告與否
(D)褫奪公權與否
19. 公民投票是公民直接參與法案制定與公共政策決策的方式，請問有關公民投票的敘述，下列何者正確？
(A)依照憲法規定，須年滿 20 歲才能參與公民投票
(B)參與公民投票是在行使一個人的選舉與罷免權
(C)投票方式採取單一選區兩票制方式進行
(D)通過門檻包括同意票大於等於 1/4 投票權人總數
20. 「單一選區兩票制」為我國中央民意代表的選舉制度，其中「單一選區」表示每一選區只選出一位當選人。請問我國哪種職務也是採「單一選區」制選舉產生？
(A)直轄市長
(B)縣市議員
(C)里民代表
(D)鎮民代表
21. 我國選舉為實現公平性，依據《憲法》規定，設有四項原則：普通、平等、直接、無記名。請問針對我國投票原則，以下敘述何者最不恰當？
(A)普通原則：若不符合法定資格可能不具有投票權
(B)平等原則：意指不分性別、宗教、種族、

財產多寡，人人皆有投票權

(C)直接原則：由人民直接選舉，不須透過任何代理人

(D)無記名原則：目的為使投票過程不受威脅利誘

22. 某國家規定依照學歷高低分配總統選票數量。

大學(含)以上學歷可領 3 張票；高中學歷可領 2 張票；國中(含)以下學歷可領 1 張票。

請問上述規定已違反我國何項公平投票原則？

(A)無記名原則

(B)直接原則

(C)普通原則

(D)平等原則

23. 2025 年 7 月，前中廣董事長趙少康於罷免案

投票時，展示選票給媒體拍攝，涉嫌違反選

罷法規定遭起訴，於 12 月 31 日首度開庭，

趙少康當庭道歉認罪，表示當時動作本意在

呼籲民眾出門投票，並保證不會再犯。我國

選罷法規定不得將圈定內容出示他人，違者

可處 2 年以下有期徒刑、拘役或科新臺幣 20

萬元以下罰金。請問不得做出上述行為的主

要理由是要維護哪項公平投票原則？

(A)普通原則

(B)平等原則

(C)無記名原則

(D)直接原則

24. 美國總統選舉採取「選舉人團」制度，由全

美各州人民選出各州的「選舉人」，再由各選

舉人代表投票選出總統。美國的選舉人團制

度與我國的哪項公平投票原則最不同？

(A)普通原則

(B)平等原則

(C)直接原則

(D)無記名原則

25. 新聞報導：「某市警局爆出收受賄賂包庇賭博

業者，多名員警遭判有期徒刑 3 至 10 年不等

並褫奪公權 1 至 3 年不等，不法所得 1000 萬

餘元沒收。」根據上述內容，該案犯人將會

失去下列哪項資格？

(A)總統副總統投票資格

(B)公投投票資格

(C)示威遊行資格

(D)參選市議員資格

26. 2026 年底將舉行地方公職人員選舉，又稱作「九合一」選舉，其中「九」表示九類地方公職人員，請問其中不包含下列何者？

(A)村(里)長

(B)村(里)民代表

(C)鄉(鎮、市)長

(D)鄉(鎮、市)長民代表

27. 快樂國法律規定，登記參選總統須繳納參選保證金快樂幣 5000 元。於登記日當天，某政黨黨主席欲登記但表示沒有 5000 元，並公開向媒體控訴保證金制度讓選舉變成有錢人的遊戲，呼籲政府有所改革。請問上述該黨黨主席所提訴求的理由，最可能為下列何者？

(改編自會考題)

(A)人民的參政機會受貧富差異影響

(B)該規定違反落實公平投票的平等原則

(C)人民的言論自由受選舉法規侵害

(D)該規定使人民無法社會化

28. 以下是四位長輩分享過去有關選舉投票的回憶。依照我國的選舉制度規定，哪位長輩的記憶不正確？

(A)阿輝伯：我 35 歲時曾代表某黨參選直轄市市長，當天我也去投下了自己的公投票

(B)阿嬌姨：我曾陪我受監護宣告的姐姐一同參加總統副總統投票，善盡我們的公民義務

(C)志明叔：我今年 56 歲，這次當選里長已經是我第十屆擔任這個職務了

(D)何三姑：我弟弟因為不懂事犯罪，被判刑並褫奪公權，喪失了參選立委的資格

29. 若明天就是我國的地方公職人員選舉，請問下列何者擁有直轄市長與市議員的投票權？

(A)70 歲設籍滿 5 個月的老陳

(B)23 歲來台灣念書超過 3 年的美國人威力

(C)19 歲設籍滿 19 年的阿強

(D)45 歲設籍滿 3 個月的美麗

30. 花花在日記寫到：「今天是台灣中央公職人員選舉加上公投的日子，這次的公投案與四年前一樣是兩案。而這是我第二次參與投票了，但比四年前第一次參與時多拿到三張票。終於可以行使完整的投票權了，我一定要謹慎思考，投下寶貴的選票。」請問花花多拿到

的票不可能是？

- (A)公投票
- (B)總統副總統選票
- (C)區域立委候選人票
- (D)政黨票

二、題組：(共 5 題，每題 2 分；共 10 分)

題組一：

今年大明第一次參加投票，一大早就帶著投票通知單、身分證、印章，和家人一同前往指定投票所。

他在(甲)出示身分證給選務人員確認為選民本人後，蓋章領到公投票。但大明注意到排他前面的哥哥多領三張票。經詢問後了解，原來因為年齡關係，大明還無法參加某些投票。

圈選前大明想(乙)用自備的黑筆在票上書寫自己對這次投票議題的其他想法，被在附近的選務人員注意到，趕緊阻止大明，並提醒他不能在票上作任何標記。最終，大明完成圈選，將公投票投入指定票匭完成投票。

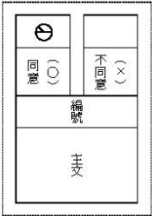
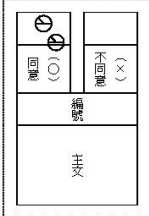
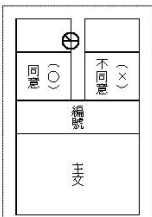
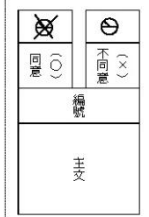
31. 請問(甲)行為最主要的目的是要確保哪像公平投票原則有落實？

- (A)普通原則
- (B)平等原則
- (C)無記名原則
- (D)直接原則

32. 請問大明與哥哥的年齡可能分別為何？

- (A)大明：21 歲；哥哥：24 歲
- (B)大明：18 歲；哥哥：19 歲
- (C)大明：19 歲；哥哥：23 歲
- (D)大明：17 歲；哥哥：21 歲

33. 請問若大明真的做出(乙)行為，結果會與下列何者相同？

- (A) 
- (B) 
- (C) 
- (D) 

題組二：

外送員專法

我國立法院於 2026 年 1 月 6 日三讀通過《外送員權益保障及外送平台管理法》，明訂外送員基本薪資、要求建立申訴制度、投保團體傷害保險及責任保險等規範，以利保障外送員權益。

其實我國地方政府早在多年前就有相關規定了。最早的就是於 2019 年 11 月頒布的《臺北市外送平台業者管理自治條例》，要求外送員投保意外險、颱風天停止外送、安排職業安全教育課程等。

34. 有關我國立法院中的立法委員產生方式，請問下列何者有誤？

- (A)年齡限制與村(里)長相同
- (B)得連選連任 5 次
- (C)有分區域立委與不分區立委
- (D)總共 113 席立法委員

35. 請問《臺北市外送平台業者管理自治條例》審查通過後，會由下列哪個機關公布？

- (A)總統
- (B)行政院
- (C)臺北市議會
- (D)臺北市政府