

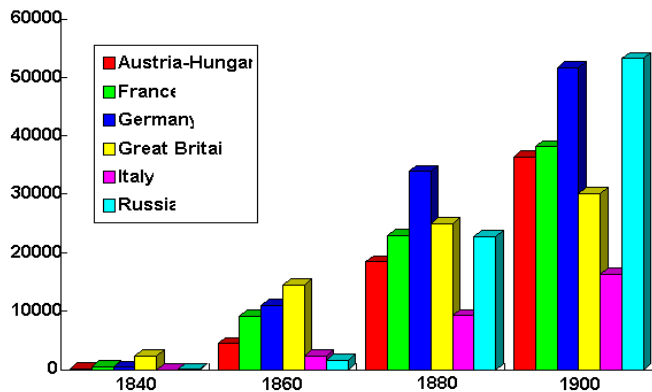
臺北市立誠正國民中學 112 學年度第一學期第三次定期考查 9 年級歷史科試卷

一、單選題(每題 2.5 分)

1. 在葡萄牙的首都里斯本，有一個著名的地標「發現者紀念碑」用來紀念 15-16 世紀勇於出海探險的重要人物，請問下列哪一位人物塑像不會出現在這個紀念碑上？

(A)亨利王子(B)羅耀拉(C)達伽馬(D)狄亞士

2. 下圖為歐洲各國鐵路建設的成長，反映鐵路成為各國重要的運輸工具，請問這場交通運輸的變革和哪個因素有關？



(A)大航海時代後鋼鐵大量傳入(B)耶穌會出資的鉅額贊助
(C)啟蒙思想家彼此聚會的需求(D)動力機器的全面性運用

3. 在歐洲人開啟海外探險以後，重商主義成為各國制定經濟政策很重要的背後思想，各國相信金銀代表國力，重視殖民地與母國的關係，採取各種政策，竭盡所能累積財富。政府透過「專利制度」，授予一個公司或商人團體以某種貿易的獨占權利（特許狀），排除國內外的競爭。不過後來這樣的想法受到挑戰，有位思想家認為讓個人依理性自利去追求自己的利益，才能造成國家的富強，請問這位思想家是？

(A)洛克(B)亞當斯密(C)盧梭(D)孟德斯鳩

4. 呈上題，上文提到重商主義透過政府，授予公司某種獨佔權力，有哪些國家曾經採行這樣的手段？

(A)法國、美國(B)葡萄牙、義大利

(C)荷蘭、英國(D)西班牙、俄羅斯

5. 「資本來到世間，從頭到腳，每一個毛孔都滴著血和骯髒的東西...只有少數人過著奢侈的生活，大多數勞動階級都是窮困的；建立○○主義制度是改變這種貧富不均不公平的方法。」請問○○主義應該為？

(A)人文主義(B)自由主義(C)民族主義(D)共產主義

6. 安安老師在課堂上講解某一條很重要的航海路線，某位航海家率領船隊率先發現圖中的「★」，寫下航海史的一頁。關於這段歷史，下列敘述何者正確？

(A)航海家的國籍是荷蘭

(B)地圖中的「★」是麻六甲

(C)航行的目的是要尋找印度

(D)這條航線會經過太平洋



7. 15 世紀以後，歐洲發生了一連串政治和社會的變動，讓歐洲脫離中世紀的落後，慢慢興起，請問有關於時代和事件的配對何者正確？

(A)15 世紀:科學革命(B)16 世紀:宗教改革

(C)17 世紀:工業革命(D)18 世紀:啟蒙運動。

8. 在探討美洲原住民輕易遭到歐洲探險者征服的原因，有人提出以下觀點:「美洲的孤立隔絕，不但阻礙了他們的文明開展，同時也減弱了他們對於人類主要疾病的抵抗力…」請問當時在美洲肆虐造成大量死亡的病菌是？

(A)天花(B)新冠病毒(C)黑死病(D)黴漿菌

9. 讓不同的思想能夠彼此激盪和交流是歐洲思想、文化能夠不斷進步的重要原因，沙龍就是非常具有代表性的聚會，「沙龍」(Salon)一詞源自義大利語，是歐洲上流社會聚會的一種方式，當時有各式各樣的沙龍，就像現在我們參加的社團，分別有文學、藝術、音樂、戲劇及最新時事等議題，成為互相交流資訊和結識朋友的場所，請問這樣的聚會最頻繁出現的城市應該是？

(A)巴黎(B)紐約(C)羅馬(D)馬德里

10. 羽承整理了人類物質生活發展變化的表格如下:

項目	物品	年份
煤鐵礦冶	□□抽水機	1705
		1784
動力機械	□□紡紗機	1780s
交通運輸	□□船	1807
	□□車	1814

請問□□當中應該要填入？

(A)電動(B)風力(C)蒸氣(D)石油

11. 15 世紀末，歐洲人開啟大航海時代，海洋從此成為人類的貿易道路而非阻礙，請問以下何者是促成歐洲人開啟大航海時代原因？

(A)想要透過觀察了解海洋生態

(B)在宗教戰爭後尋求海外避難

(C)被美洲蘊藏的大量香料吸引

(D)陸路貿易被特定商人所控制

12. 阿文以綠豆生長為研究主題進行自然研究報告，他培養幾十顆綠豆，細心觀察、記錄，最後彙整資料進行報告。他的研究應是採行下列哪一種方法來進行？

(A)演繹法(B)歸納法(C)假設法(D)推理法

13. 「這位航海家出生於義大利熱那亞，後來成為經驗豐富的航海家，最遠曾經抵達冰島與西非，為了向西航行能找到他心目中富饒的東方，還曾經向多位西歐君主懇請資助，最終得到一次小型探險的機會，最終在 10 月 12 日抵達陸地。」請問這位航海家向西首航的年份是？

(A)1453(B)1487(C)1492(D)1498

14. 《De l'esprit des lois》(中文:論法的精神)為法國重要的政治著作，這位思想家針對政治體制的運動做了提醒:指出君主和貴族們，假如他們不願意分享一個或一部分人權力的話，專制制度將會帶來風險，請問他所提到的權力分配何者不包含在其中？

(A)監察(B)司法(C)行政(D)立法

15. 「1633 年，這位已經 70 歲的學者帶病前往羅馬受審，因為教會表示:「主張太陽為宇宙中心與聖經所示相違背」

但是，這位學者辯駁到：「上帝在聖經中所欲啟示人類的，是如何上天堂，不是天體如何運行」這個說法不但捍衛了科學研究的合理性，但也同時顯示神學與科學並非完全衝突的兩個概念」請問下列何者是這位學者探究世界的研究成果？

- (A)主張進行城市空間重新規劃
- (B)提出「地平說」鼓勵出外探險
- (C)發明顯微鏡，並觀察到微生物
- (D)使用望遠鏡發現到月球的坑洞

16.歐洲的產業革命(Industrial Revolution)最早產生在英國，而這一波改變使得人類社會、經濟等產生不小的變化，請問下列何者是英國成為這一波改變起源地的原因？

- (A)政治環境相對歐洲其他地區較為安定、成熟
- (B)位於西風帶上，有足夠的降水資源可供運用
- (C)是科學革命的起源地，國家因此而投入資源
- (D)受美洲病毒影響，刺激政府用機器取代人力

17.均泰在搜尋系統上打了以下幾組關鍵字「#政治學說」、「#啟蒙運動」、「#英國」、「#政府論」下列何者會是這位學者的主要主張？

- (A)若政府以專制威權奴役人民，人民可以起而反抗
- (B)我們的感官會蒙蔽我們…因此必須運用理性思考
- (C)人民透過社會契約的方式成立能保障人民的政府
- (D)天主教是一些狡猾者布置的一個最可恥的騙人羅網

18.17 世紀，荷蘭在亞洲陸續佔領殖民地，拓展在東亞的貿易，請問下列不是荷蘭的貿易據點？

- (A)大員(B)長崎(C)巴達維亞(D)馬尼拉

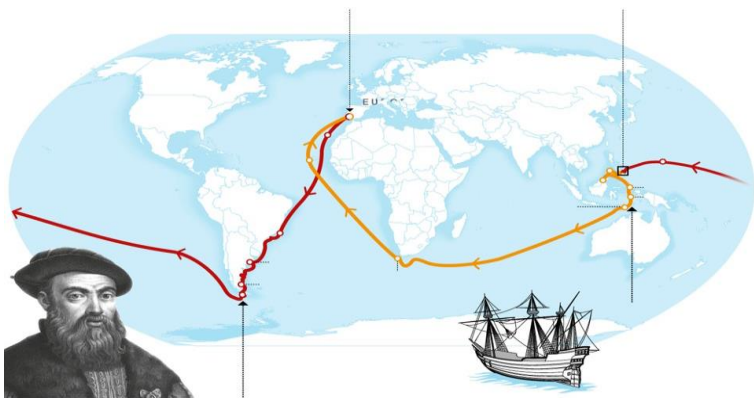
19.有關於科學革命的描述何者敘述正確？

- (A)由荷蘭、西班牙最先成立科學研究機構
- (B)羅盤、指南針等新工具的加速科學發展
- (C)伏爾泰大力批判宗教不該干預科學研究
- (D)笛卡兒認為知識可透過思考和推理獲得

20.從古自今人類對黃金總是這麼趨之若鶩，只要有地區被發現擁有大量的黃金礦脈，受到宣傳後，大批各行各業的民眾，放下手邊工作，湧入媒體藏寶圖所指之處，人人都想挖到黃金、一夜致富，澳洲就曾經出現這樣的風潮，甚至當時中國也輸出大量華工到澳洲去挖金礦…。請問這波澳洲的風潮出現在什麼時期？

- (A)16 世紀(B)17 世紀(C)18 世紀(D)19 世紀

21.下圖為一張大航海時代具有代表性的航線圖，請問有關於這張航線圖的說明何者正確？



- (A)這趟航行是歐洲人首次橫渡太平洋
- (B)荷蘭王室贊助此趟航行的全部費用
- (C)航行的船長是葡萄牙傳教士麥哲倫
- (D)航線橫渡大西洋並首次發現美洲

22.暢銷書籍作者賈德.戴蒙曾經對人類社會的發展提出以下的疑問：「對於現代世界中的不平等…我們可以問：為何財富和權力的分配是以今天這種面貌呈現，而非其他形式？例如，為什麼越過大洋進行殺戮、征服和滅絕的，不是美洲、非洲或澳洲的土著，而是歐洲人和亞洲人？」歷史老師，就這個問題希望同學提出自己的想法，請問以下哪位同學的想法相對比較合理？

- (A)小浩：歐洲白人經過天擇與演化，在智力和各種方面的天賦上都較為優秀，所以這是適者生存的結果
- (B)文文：各大陸民族間的發展有顯著差異，不是由於這些民族本身的天生差異，而是由於他們所處的環境有差異。
- (C)軒軒：歐洲的緯度較高，天氣寒冷有助於激發創意、精力，而潮濕、炎熱的熱帶氣候使人遲鈍和工作懶惰
- (D)小好：只有歐洲發展出一神信仰，這種信仰體系有助於歐洲內部的團結和進步

23.「古代的許多作家都曾經試圖全面地記錄人類的所有知識，不過直到 18 世紀，才有出現較有系統的整理，而這一次的彙整之所以佔有重要地位，是因為當時的主編把法國最優秀的 100 餘位思想家、哲學家、科學家、政治家，以及軍事專家和醫生等組織起來，共同完成這項偉大的事業；而這套全集僅初版就賣出了約 4,225 套，它對歐洲的知性生活造成的不少的衝擊…」請問這一位主編是？

- (A)狄德羅(B)拿破崙(C)伏爾泰(D)笛卡兒

24.「1600 年 12 月 31 日，英國女王批准了不列顛東印度公司負責東方貿易。第一批船隻於 1608 年到達印度，四年後英國商人擊敗了葡萄牙人，1615 年，英格蘭國王詹姆士一世委派的駐(A)王朝使節，並由他與(A)簽訂了通商條約，條約規定：允許東印度公司在印度建立貿易據點，以此作為從歐洲運輸商品過來的報答。公司主要從事(B)、絲綢、硝石和茶等日用品的貿易」請問(A)、(B)，分別應該填入？

- (A)鄂圖曼、煤礦(B)蒙兀兒、棉花
- (C)鄂圖曼、白銀(D)蒙兀兒、蔗糖

25.在科學革命期間，人類用了與過去全然不同的態度試圖研究自然，並找出自然世界的「通則」有位科學家提出「物體若不受外力作用或所受外力的合力為零時，則物體的運動狀態保持不變，即靜者恆靜，動者恆作等速度運動。若物體運動的速度大小改變或方向改變時，則物體必受外力（或合力不為零）的作用。」請問這位科學家是？

- (A)笛卡兒(B)哥白尼(C)牛頓(D)培根。

26.泰姬瑪哈陵是蒙兀兒帝國時期印度非常具有代表性的建築物之一，請問其融合了哪些文化特色？

- (A)西亞、印度、伊斯蘭(B)中國、佛教、東南亞
- (C)印度、波斯、伊斯蘭(D)法國、羅馬、基督教

27.比起其它國家，澳大利亞與國慶日有著較輕鬆的關係"澳大利亞日"是為了紀念第一艦隊司令亞瑟·菲利普船長率 11 艘艦隻，在 1788 年 1 月 26 日抵達雪梨灣的日子，那一天標誌著這塊殖民地的誕生…請問這位船長的國籍是？

- (A)英國(B)法國(C)德國(D)荷蘭

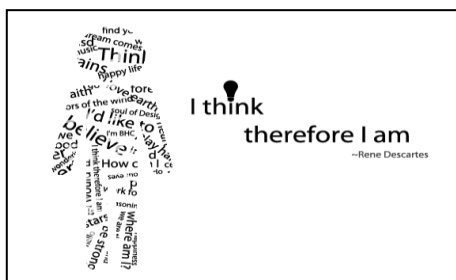
28.曾有一位社會學家對某一個現象提出了他的想法：「隨著生產工具的自動化，工作對於勞工本身已經沒有意義可言，勞工工作並非以自由意識所決定，而是藉由制度性的

安排。勞動者喪失其對勞動過程中的勞動力之控制力與掌握力，從而失去對生活及自我的控制，工人變得不是自主、自我實現的人類存在，他只能以資產階級欲其所以的模式而存在。」下列有關於這段文字的描述何者正確？

- (A)這位學者認為，工人會透過制度從工作獲得價值
(B)生產工具能夠自動化是因為人類依靠自然力生產
(C)這位思想家是傾向用革命手段改造社會的馬克思
(D)這個工人的工作模式最早大約出現在 17 世紀

29.右圖用很有趣的方式，來呈現這一位歷史人物的特色，請問這位人物是？

- (A)牛頓(B)笛卡兒
(C)培根(D)伏爾泰



30.思想家康德說：「啟蒙運動是將人類從蒙昧無知的境況中解放出來，呼喚用理性的陽光驅散現實的黑暗。」請問此「理性的陽光」為何？

- (A)以古代基督教觀點復興文學與藝術價值
(B)運用科學的方法來尋找人類社會的通則
(C)重現古希臘、羅馬時代文明的輝煌成就
(D)以神學觀點與當代科學成果互相去對話

31.中南美洲的阿茲提克帝國、印加帝國，曾經是獨具特色的古文明，這些古文明呈現的文化風貌與生活型態與歐亞地區全然不同。然而現在我們只能從留存下來的文物、遺跡，概略認識這些古文明，主要是因為許多珍貴的美洲文化曾因「外力」入侵幾乎遭到毀滅性的破壞。上述的「外力」最有可能是指下列哪一群人？

- (A)英國人(B)葡萄牙人(C)荷蘭人(D)西班牙人

32.泓運最喜歡吃馬鈴薯製成的食物，舉凡馬鈴薯泥、洋芋片、薯條等都是他的最愛，請問此作物源自於哪個地區？

- (A)阿拉伯半島(B)巴爾幹半島(C)美洲大陸(D)伊比利半島

33.「1884 年，英國一群知識分子成立了費邊社，其主要思想是透過社會各階層的平等，包括平等的財產、社會地位和政治權利的分配，由實踐平等和自由的理念達至社會合作和互愛的人際關係，這也是英國工人群眾對福利國家制度最早、最直接的要求」請問這個團體出現的社會背景為何？

- (A)為鄉間尋求蓋工廠的機會(B)爭取蓋給工人的社會住宅
(C)以立法手段爭取工人權益(D)抗議資本家造成環境破壞

34.「釋放太陽吧!從神學家手裡奪回天空吧!他開啟了人類對宇宙認識的革命」請問這是指何人？

- (A)哥白尼(B)伽利略(C)洛克(D)牛頓

35.人類學家傑克•魏澤福說到:「非洲人因而成為發現美洲的受害者，如同美洲的印地安人」請問對這段話的解讀何者最為合理？

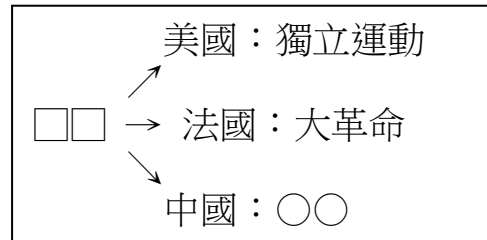
- (A)晉維:非洲因為美洲作物的傳入而破壞生態
(B)力鴻:為了填補人力而將非洲人口越洋販賣
(C)紹華:因印地安人移民非洲而丟失工作機會
(D)家羽:非洲因美洲未知病毒傳入而大量死亡

36.據《英國史》載，1835 年英國棉紡織業中，童工 9.5 萬人，佔全體工人 43%；女工 11.9 萬人，佔全體工人 54.3%。1839 年，英國的 419560 萬名工人中，除 23%是成年男工外，其餘都是女工與童工。針對此現象的理解何者為非？

- (A)成年勞工比例較低是因為大多出海工作
(B)從勞工比例看出資本家願意培養年輕人
(C)女工與童工因為其工資低廉而進入工廠
(D)英國的紡織業為工人帶來巨大就業機會

37.小臻在段考前整理了近、現代歷史的筆記，說明這場變革的重要影響，請問□□與○○應填入的答案是:

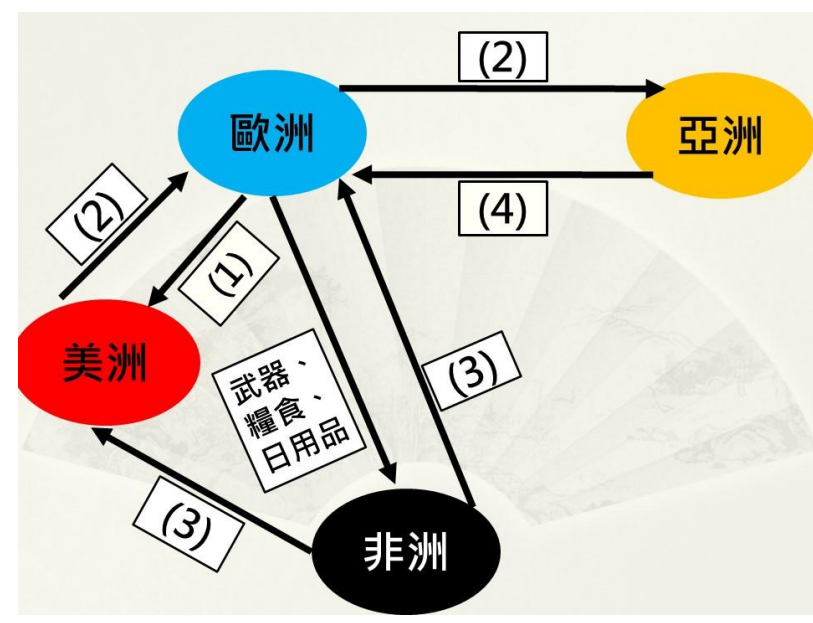
- (A)啟蒙運動、新文化運動(B)啟蒙運動、明治維新
(C)科學革命、庚子後新政(D)工業革命、自強運動



二、閱讀理解題(每題 2.5 分)

跨越海洋的大交換

在 1500 年以前，大西洋一直是一到柵欄，一個終點。但在 1500 年左右，它一變而成為一座橋梁，一個啟程之地。其巨大的影響波及各方。歐洲人也透過大西洋串連起了與非洲和美洲之間橫跨大西洋的貿易路線，並且持續了將近 300 年。而這個因為海洋而建立的跨洲貿易圖如下…



38.請問歐洲人最一開始進行海外探險是要尋找哪一條的貿易路線上的商品？

- (A)路線 1(B)路線 2(C)路線 3(D)路線 4

39.右邊為某一個地區居民人數變化表格，請問造成這個現象與哪一條路線最有關聯？

- (A)路線 1(B)路線 2(C)路線 3(D)路線 4

40.下列有關於這些物品交流路線重要物品的描述何者正確？

- (A)路線 1:絲綢、可可豆
(B)路線 2:天花、香料
(C)路線 3:黑奴、咖啡
(D)路線 4:瓷器、馬鈴薯

時間	居民數
1492	7,000,000~8,000,000
1496	3,770,000
1508	92,300
1509	61,600
1510	65,800