

# 臺北市立誠正國民中學 112 學年度第一學期九年級第三次定期考查地理科試卷

範圍：北美洲、中南美洲

班級：\_\_\_\_\_ 座號：\_\_\_\_\_ 姓名：\_\_\_\_\_

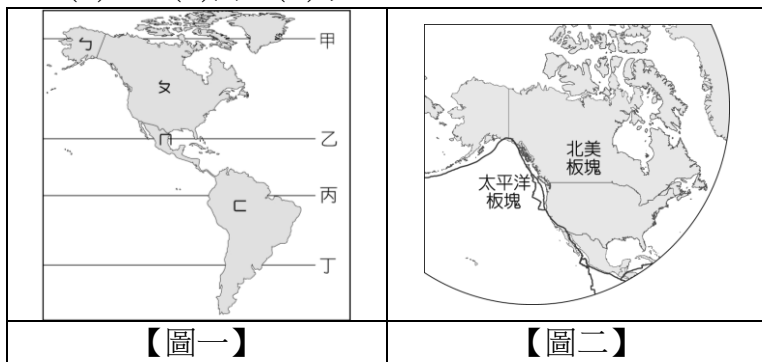
## 一、單一選擇題：70%（每題 2 分）

1. ( ) 美洲的疆域面積廣大，各地區亦有不同的畫分方式：有以位置畫分成北美洲、中美洲與南美洲；也有以文化特色不同而畫分為盎格魯美洲與拉丁美洲。請問：若以位置的方式將美洲畫分的界線，應該為下列哪兩項？ (A)甲乙 (B)甲丙 (C)乙丙 (D)丙丁。

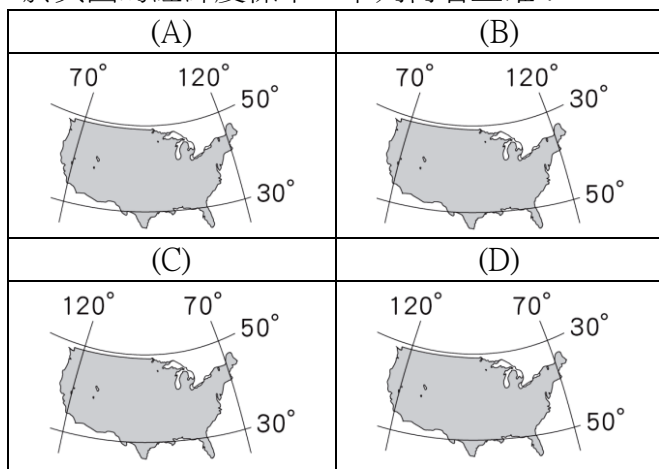


2. ( ) 「北美洲中部為(甲)拉布拉他平原的分布區，平原北部受(乙)冰河侵蝕影響，土壤貧瘠，(丙)多冰蝕湖，如五大湖區；南部為(丁)密西西比河沖積而成，土壤肥沃，是美國的穀倉。」請問：上述何者不正確？ (A)甲 (B)乙 (C)丙 (D)丁。

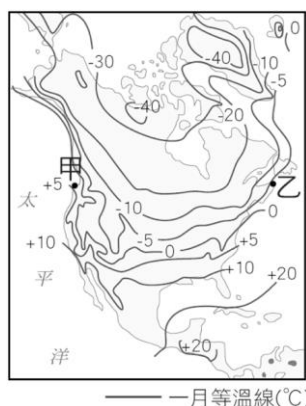
3. ( ) 圖一是美洲簡圖。請問：圖中哪一條線是將美洲大陸畫分為北半球與南半球的重要緯線？ (A)甲 (B)乙 (C)丙 (D)丁。



4. ( ) 圖二是某區板塊分布圖。請問：圖中的兩個板塊擠壓，會形成哪一座高山？ (A)安地斯山脈 (B)阿里山山脈 (C)洛磯山脈 (D)阿爾卑斯山脈。
5. ( ) 美國面積遼闊，是世界面積第三大國家。請問：關於美國的經緯度標示，下列何者正確？



6. ( ) 附圖是北美洲一月的等溫線分布圖。從圖中可看出西岸甲地(5°C)較同緯度的東岸乙地(-5°C)溫度高出許多。請問：造成這種現象的主要原因為何？ (A)人口分布不均 (B)海岸類型差異 (C)地形種類不同 (D)洋流性質影響。



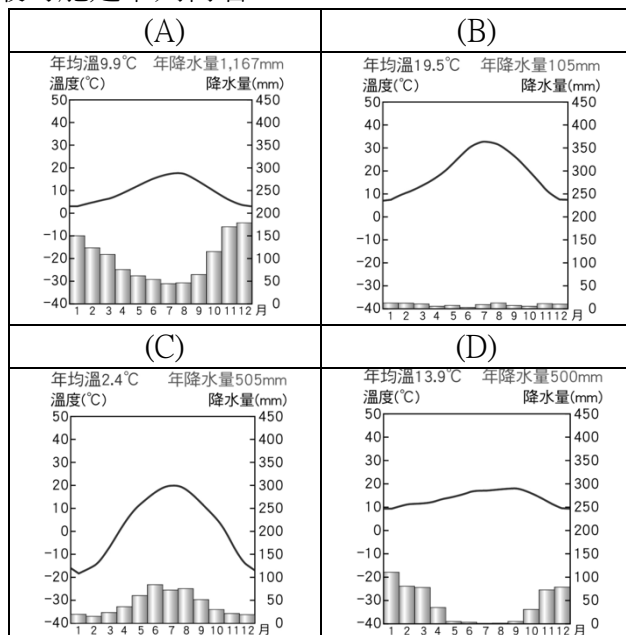
7. ( ) 因強烈的極地冷氣團南下，全美多地創下低溫記錄，洛磯山脈以東的地區的溫度較往年平均溫度低了將近 15°C。大風雪造成交通受阻，低溫更讓民

眾苦不堪言。請問：造成北美大平原冬季急速低溫的原因為何？ (A)地廣人稀 (B)地形影響 (C)位居極圈附近 (D)冰蝕湖廣布。

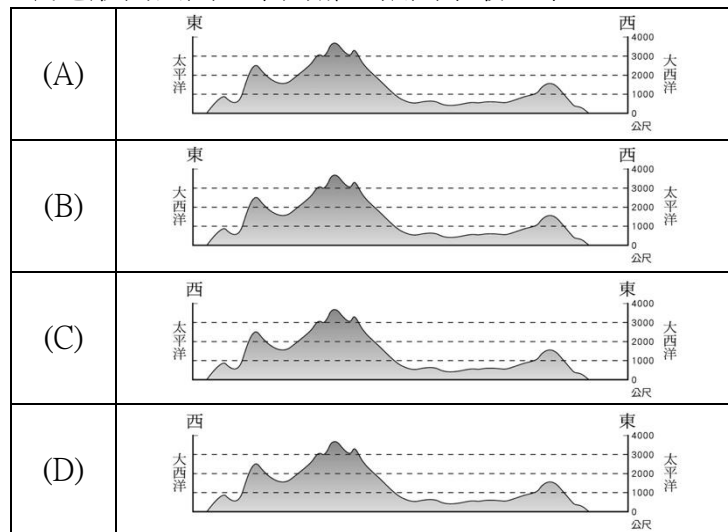
8. ( ) 海綿寶寶迷上極限運動，想要到美國挑戰長達 3,500 公里的阿帕拉契山脈小徑的任務。請問：海綿寶寶要挑戰的越野路線可能是圖中的哪一條路線？ (A)甲 (B)乙 (C)丙 (D)丁。



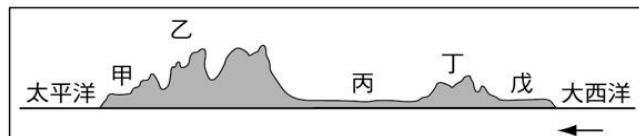
9. ( ) 加拿大西岸的溫哥華由於緯度、西風與暖流的影響，年溫差小且全年有雨，適宜人居，也是許多移民遷居加拿大的首選城市。請問：該城市的氣候圖最可能是下列何者？



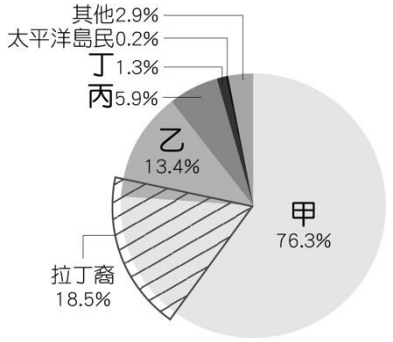
10. ( ) 北美洲地形高低起伏，請問：若沿著北緯 40 度繪製地形剖面圖，下列哪一張圖示最正確？



11. ( ) 歷史上舊金山與洛杉磯幾乎都有大地震的記錄，也曾出現史上最嚴重的災害損失。地質學家也對該區發出多次警告，未來加州很可能再發生強烈的地震。請問：學者所提出容易發生的地震區是位於下圖何處？ (A)丙 (B)甲 (C)戊 (D)丁。



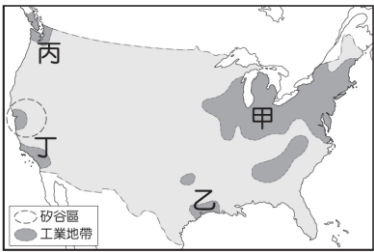
12. ( )附圖為西元 2019 年美國居民的種族比例構成圓餅圖。自 16 世紀開始，來自歐洲、非洲及亞洲的新移民陸續遷入，使北美洲成為多民族匯集的「新大陸」。請問：圖中占比最高的「甲」應是哪一個族群？ (A)亞裔 (B)非裔黑人 (C)美洲原住民 (D)歐裔白人。



13. ( )格陵蘭島位置如附圖，它是世界上最大的島，目前為丹麥的自治區，島上人口約五萬人，大多是北美洲的原住民。請問：上述提及原住民族主要是指下列哪一個族群？ (A)因紐特人 (B)印地安人 (C)布希曼人 (D)非洲黑人。



14. ( )附圖是美國主要工業區分布圖。美國境內資源眾多，其中某個區域石油和天然氣蘊藏豐富，石化工業興盛，與美國太空總署相關的航太工業設立於此，臺灣台塑企業在當地亦有設廠。請問：該區位於圖中何處？ (A)甲 (B)乙 (C)丙 (D)丁。



15. ( )承上圖，美國的高科技工業中心位於舊金山，此處集中了全美 90% 以上的半導體公司，因半導體的基本元件故該區命名為 Silicon Valley。請問：該區主要位於圖中何區？ (A)甲 (B)乙 (C)丙 (D)丁。
16. ( )附表為北美粗放農業與亞洲集約農業經營模式的比較。請問：下表中哪幾項敘述是正確的？ (A)甲乙丙 (B)乙丁戊 (C)丙丁己 (D)乙戊己。

	北美粗放農業	亞洲集約農業
(甲)農地投入勞力	多	少
(乙)單位面積產量	低	高
(丙)作物種類	多樣	單一
(丁)人均可耕地	大	小
(戊)總產量	多	少
(己)農業特色	自給自足	商業性

17. ( )附圖為中美洲政區圖。請問：下列何者並非我國現有的邦交國？ (A)海地 (B)貝里斯 (C)宏都拉斯 (D)瓜地馬拉。

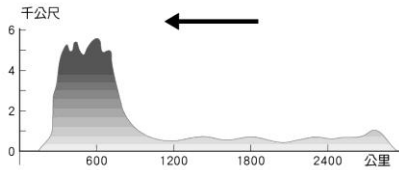


18. ( )「中美洲的北部為(甲)墨西哥高原，是洛磯山脈的延伸，地震頻繁；南部為(乙)中美地峽，主要地形為山地；東側的(丙)阿拉伯海上，則為島嶼眾多的(丁)西印度櫻桃，如(戊)巴拿馬運河亦位於其中，每年賺取大量通行費。」請問：上述內容何者正確？ (A)甲乙 (B)甲丙 (C)乙丁 (D)丁戊。

19. ( )附圖是「百慕達三角」的範圍，在這片超過 100 萬平方公里的海域，過去因為很多船艦、飛機離奇失蹤，因此出現各種神祕傳說。請問：該區的群島與海域主要為下列何者？ (A)南洋群島，波羅的海 (B)東印度群島，北極海 (C)西印度群島，加勒比海 (D)菲律賓群島，黑海。



20. ( )附圖是南美洲的地形剖面圖，請問：圖上的箭頭方向標示哪一方位？ (A)東 (B)西 (C)南 (D)北。



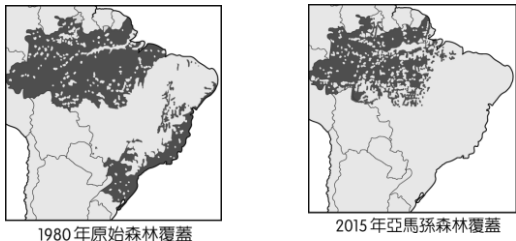
21. ( )南美洲東半部則有高原與盆地等地形相間排列，有巴塔哥尼亞高原、巴西高原、拉布拉他平原與亞馬孫盆地等地形。請問：若以上述地形區依序排列，何者正確？ (A)甲乙丙丁 (B)丙丁乙甲 (C)丁丙甲乙 (D)乙丙丁甲。



22. ( )亞馬孫盆地因其植被而有「世界之肺」之稱，且因高溫多雨的氣候條件，孕育了許多的物種，故又被稱為「生物基因庫」。請問：上述提及亞馬孫盆地的植被類型與下列何者相符？

(A)	(B)
(C)	(D)

23. ( )附圖為巴西雨林變化圖 (1980→2015 年)，由圖中顯示，短短的 35 年之中，雨林已大幅縮小。請問：雨林面積縮減主要原因可能為下列何者？ (A)人口增加，過度開發 (B)沙漠化面積增加 (C)全球暖化造成水災 (D)日夜溫差變大。

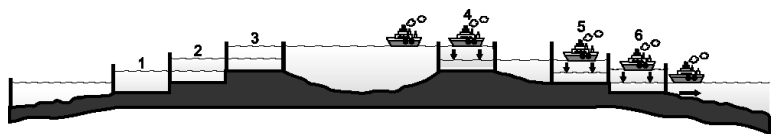


24. ( )附表四個城市依序為墨西哥、玻利維亞、厄瓜多和哥倫比亞四個國家的首都以及所在緯度和海拔高度。這些南美城市的都位於海拔 2,000 公尺以上的高地，自印加帝國時期起即為人口集中地區。請問：這些國家的人口聚集在高地的主要原因為何？ (A)物種豐富 (B)地形平坦 (C)土壤肥沃 (D)氣候涼爽。

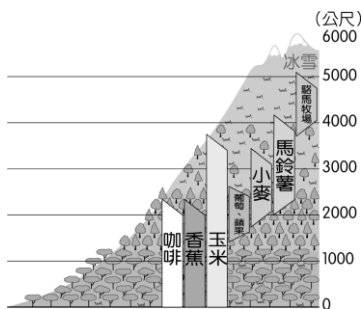
城市	緯度	海拔(m)
墨西哥市	19.5° N	2,240
拉巴斯	16.5° S	3,640
基多	0.1° S	2,850
波哥大	4.6° N	2,625



25. ( ) 巴拿馬運河被譽為「世界工程奇蹟」，自 19 世紀開工，1914 年正式啟用，至今超過百年歷史。此運河的落成將美東到美西原先需要上千公里的航程，縮短為 82 公里，帶來極高的經濟效益。由於海平面有落差，運河設有多道閘門，靠著水位變化，協助船隻順利通過，整個過程大約要 8 個小時。附圖為巴拿馬運河示意圖，請問：巴拿馬運河使用水閘門控制，呈現階梯式的運河設計，最主要的因素為何？ (A)需經過海關檢查 (B)為了克服地形限制 (C)限制船隻航行速度 (D)河川流速不利航行。

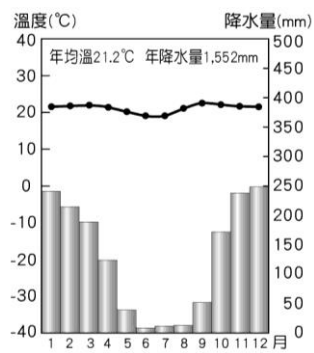


26. ( ) 附圖為南美洲某地區的植被分布情形，縱軸為海拔高度。請問：根據圖中作物資料判斷，該地最可能位於下列何處地理區？ (A)安地斯山脈北段 (B)安地斯山脈南段 (C)洛磯山脈 (D)拉布拉多高原。



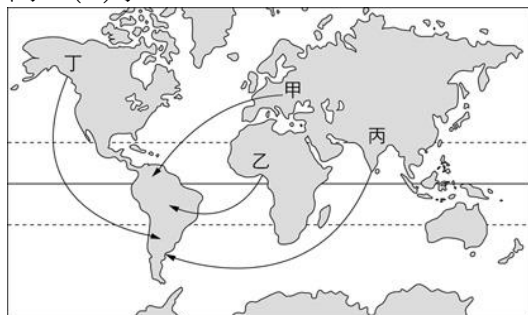
27. ( ) 羊駝因為生存的氣候條件影響，皮毛相當保暖，所以是經濟價值很高的紡織原料。請問：下列哪一類型氣候區比較容易看見牠們的蹤跡？ (A)熱帶沙漠氣候 (B)溫帶沙漠氣候 (C)高地氣候 (D)溫帶大陸性氣候。

28. ( ) 附圖為巴西的首都巴西利亞的氣候圖。請問：由此氣候圖判斷，巴西利亞應為何種氣候類型？ (A)夏乾冬雨的溫帶地中海型氣候 (B)高溫多雨的熱帶雨林氣候 (C)溫暖濕潤的夏雨型暖溫帶氣候 (D)夏雨冬乾的熱帶莽原氣候。

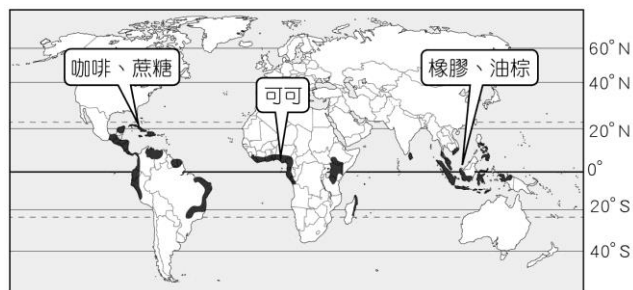


29. ( ) 夏雨型暖溫帶氣候因受信風和暖流的影響，氣候溫和多雨，多是該洲人口聚集的氣候區。請問：上述氣候分布於下列何處？ (甲)澳洲東南沿海 (乙)南美洲東南沿海 (丙)非洲西南隅 (丁)美國東南沿海 (戊)智利北部 (A)甲丙戊 (B)乙丙丁 (C)丙丁戊 (D)甲乙丁。

30. ( ) 十六世紀時歐洲人開始殖民中南美洲，但也帶來傳染病，使得沒有疾病抗體的原住民人數不斷減少；殖民統治者為了彌補勞力的短缺，自外地引進許多移民，使當地族群更加複雜多元。請問：歐洲殖民者為了維持墾殖所需的人力，從附圖中的哪一條路線引入勞工進入中南美洲？ (A)甲 (B)乙 (C)丙 (D)丁。



31. ( ) 附圖是全球某農業活動的分布區。請問：有關該農業活動的敘述，下列何者錯誤？ (A)由歐洲殖民勢力帶來的 (B)主要是種植小麥等糧食作物自給自足 (C)該農業活動多出現港埠型城市 (D)屬於勞力密集的集約農業。



32. ( ) 中南美洲人口分布不均，部分地區因潮濕悶熱，人口多集中於涼爽的高地或山間盆地；部分地區因開發較早，也屬於人口集中地帶。下圖為中南美洲人口密度圖，圖中甲～丁為四個主要都市，請問：有關中南美洲人口分布，下列何者正確？ (A)巴西政府將首都從內陸遷移到丙地，是因為海邊氣候涼爽 (B)甲、乙因緯度較低，故將城市遷於海邊 (C)丙、丁屬於高地城市 (D)其他地區如亞馬孫盆地太過濕熱，人口密度較低。



33. ( ) 中南美洲各國在脫離殖民者統治後，雖然在政治上取得獨立的地位，但有些國家仍仰賴大量出口單一農產品及礦產獲利，並未積極將產業升級，或是建立良好的工業基礎。請問：這樣的經濟發展結構並不利於國家發展的主因為何？ (A)礦產蘊藏量不足，不利出口 (B)無法取得足夠的勞力 (C)易受市場價格波動影響且經濟操控在跨國企業公司手上 (D)族群更為複雜，易引起政局動盪與紛爭。

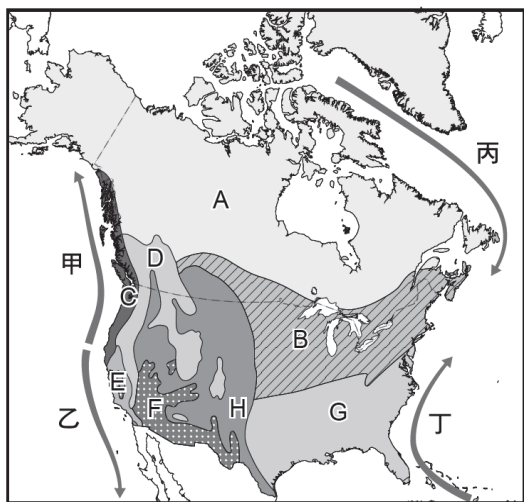
34. ( ) 1994 年 1 月簽署的北美自由貿易協定 (NAFTA) 在美國前總統川普總統上任後，與其他兩國重啟談判，於 2018 年達成新版協定 (USMCA)，並於西元 2020 年 7 月 1 日起生效。新協議規定，未來產業應該有更大比例在美洲製造，並要在美國和加拿大創造高薪勞工，此協議為墨西哥未來幾十年提供穩定及可靠之經商環境。請問：於墨西哥生產之工業類型最有可能為下列何者？ (A)生物科技 (B)汽車組裝 (C)食品加工 (D)棉花紡織。

35. ( ) 西元 2020 年，南美洲的 6.52 億人口中有 83% 居住在城市，附表為南美洲主要國家的都市化程度統計表。從表中可以看出南美洲人口高度集中在大都市。請問：造成此種現象的主要原因為何？ (A)鄉村經濟蕭條，推力太強 (B)國際遷移人口比例較高 (C)政府優先移民政策奏效 (D)美國跨國企業到這些國家設廠。

國家	都市人口比例(%)
委內瑞拉	88
烏拉圭	95
阿根廷	92
智利	88
巴西	87

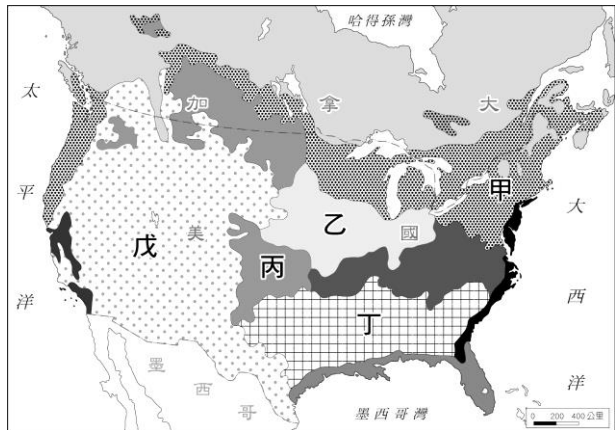
二、題組：30%（每題 2 分）

【題組一】附圖為北美洲氣候類型分布圖。請問：



36. ( ) 圖中 C 氣候僅分布於狹長的沿海地帶，不似歐洲較深入內陸、範圍較為廣大，請問：C 氣候分布範圍較小，主要受何因素影響？ (A)山脈南北走向 (B)氣候變遷西風減弱 (C)受到沿海洋流影響 (D)受到副熱帶高壓影響。
37. ( ) 美國拉斯維加斯為世界著名的賭城，位居美國內華達州南端的小綠洲上，處於各大沙漠的中央，氣候乾燥炎熱。請問：拉斯維加斯位於圖中何種氣候區？ (A)B (B)D (C)F (D)G。
38. ( ) 承上題，當地附近地區盡是一片黃澄澄的沙漠，以及遍布的仙人掌。請問：影響此地景色與氣候的主要原因為何？ (A)沿海有寒流經過 (B)位於乾冷的高緯區 (C)距海遙遠，水氣不易到達 (D)位於西風的背風側。
39. ( ) G 區為北美洲最溫暖濕潤的地區，高溫多雨的條件適合發展農業，人口密集。請問：造成該地氣候的主要原因為何？ (A)信風、墨西哥灣暖流 (B)西風、北大西洋暖流 (C)季風、拉布拉多寒流 (D)信風、阿拉斯加暖流。

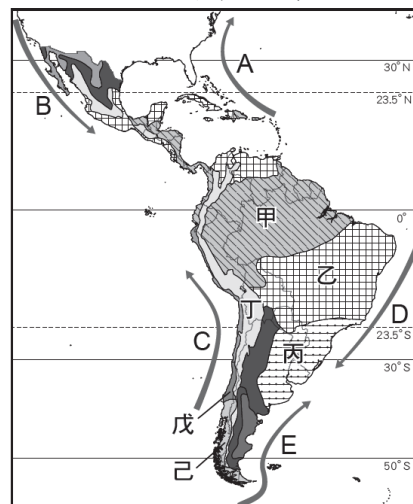
【題組二】附圖為北美洲農牧業分布圖。請回答下列問題：



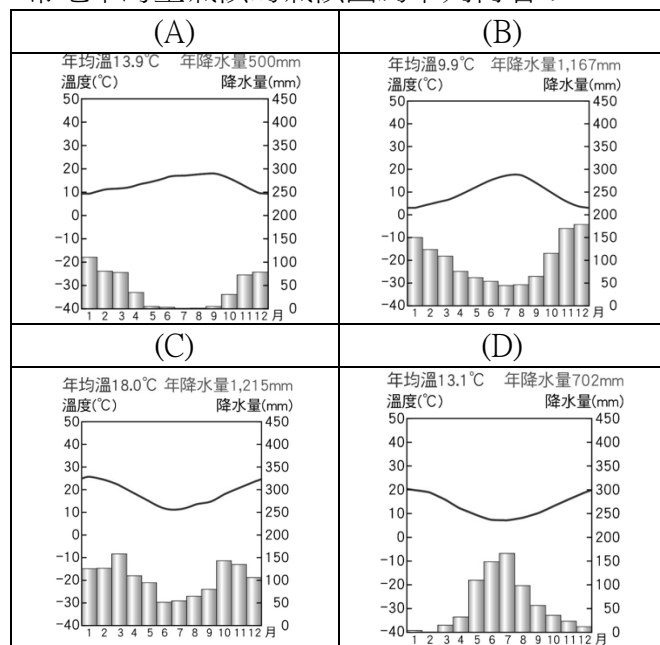
40. ( ) 「甲」區為北美最大的酪農帶，有明顯集中於大城市附近的分布特性。請問：酪農帶主要的工業區位為何？ (A)勞力區位 (B)市場區位 (C)交通區位 (D)動力區位。
41. ( ) 「戊」區主要為放牧帶的分布範圍。請問：放牧帶的分布區域，大致和哪些氣候類型的範圍重疊？ (A)乾燥氣候、高地氣候 (B)寒帶氣候、溫帶大陸性氣候 (C)溫帶沙漠氣候、夏雨型暖溫帶氣候 (D)溫帶地中海型氣候、溫帶海洋性氣候。
42. ( ) 美國的玉米帶自一八五〇年代以來，以生產玉米為主而得名。近年來，許多玉米也用來作為家畜的飼料，是全球重要的農業出口區。請問：玉米帶主要位於圖中何處？ (A)乙 (B)丙 (C)丁 (D)戊。
43. ( ) 美國被稱為「世界麵包籃」，也是世界重要的小麥出口國。請問：美國小麥的產區位於圖中何處？ (A)甲 (B)乙 (C)丙 (D)丁。

44. ( ) 農牧業的發展與氣候和地形都有相當緊密的關係。請問：下列有關北美洲農牧業與氣候的配對，何者正確？ (A)森林與採集：寒帶氣候 (B)酪農帶：溫帶地中海型氣候 (C)棉花及其他農業：溫帶大陸性氣候 (D)地中海型農業：夏雨型暖溫帶氣候。

【題組三】附圖為中南美洲氣候分布圖。請問：



45. ( ) 安地斯山脈是世界上最長的山脈，其分布位置大致與圖中的哪一個氣候區相符？ (A)丙 (B)乙 (C)己 (D)丁。
46. ( ) 近年來常聽見關於氣候異常的「聖嬰現象」與「反聖嬰現象」，其主要是與「祕魯涼流」的水溫高低相關。請問：「祕魯涼流」位於圖中何處？ (A)A (B)B (C)C (D)D。
47. ( ) 巴塔哥尼亞高原位於阿根廷境內，是世界荒漠之一，水氣極少，屬於溫帶沙漠氣候。請問：導致該地區乾燥少雨，除了水氣受到山脈阻擋之外，還受到哪一洋流的影響？ (A)A (B)C (C)D (D)E。
48. ( ) 智利因國土狹長，南北氣候大不同。請問：其氣候型態若自南而北排列，其氣候順序為何？ (A)溫帶海洋性、溫帶大陸性、溫帶地中海型 (B)溫帶海洋性、溫帶地中海型、熱帶沙漠氣候 (C)熱帶沙漠、溫帶地中海型、溫帶海洋性氣候 (D)溫帶沙漠、溫帶地中海型、溫帶海洋性氣候。
49. ( ) 氣候受到緯度的影響，氣候類型大都是南北對稱。但也偶有例外。請問：南半球缺乏下列哪種氣候類型？ (A)溫帶海洋性氣候 (B)熱帶沙漠氣候 (C)寒帶氣候 (D)溫帶大陸性氣候。
50. ( ) 諸多氣候中最特別的莫過於溫帶地中海型氣候，氣候特色夏乾冬雨，與一般夏季為雨季的氣候特徵有很大的不同。由於生長季與雨季無法配合，故多需要灌溉設施來解決無水的問題。請問：南半球的溫帶地中海型氣候的氣候圖為下列何者？



試題結束

