

(答案請畫電腦卡)

一、單選題 (共 40 題，每題 2.5 分，總分 100 分)

1. () 清領前期的臺灣移民，常因資金不足而無法開墾土地，通常他們用什麼方式來解決資金不足的問題？
(A)向政府借貸 (B)向洋行申請
(C)眾人合資開墾 (D)走私貿易
2. () 清領時期臺灣居民不得與外國往來，統治者為了管制移民、稽查海盜，還限定臺灣與中國大陸的對渡港口。當時臺灣所輸出的稻米幾乎全部銷往福建及其附近地區，糖則主要運銷華中、華北和東北。此時期負責上述貨物運銷的商人組織，最可能是下列何者？
(A)郊商 (B)洋行 (C)市舶司 (D)祭祀公業
3. () 清代漢人移民來臺，往往是同鄉聚集，各地信奉的神明因移民的祖籍不同而有差異，不過也有一些神明是大家所共同信奉，下列何者可為代表？
(A)土地公 (B)清水祖師 (C)開漳聖王 (D)三山國王
4. () 李大胖渡海來臺後，與同姓友人共同加入某個祭祀組織，祭祀的對象是唐朝詩人李白。請問：李大胖所加入的組織是下列何者？
(A)唐山祖 (B)開臺祖 (C)互助會 (D)天地會
5. () 清領時期，隨著移民渡海來臺的人數增多，子孫日漸繁衍，開始建祠堂、編族譜、設置族產，並以何者為主要祭祀對象？
(A)媽祖 (B)清水祖師 (C)唐山祖 (D)開臺祖
6. () 清領前期的臺灣，由於移民的不斷湧入，農業獲得更進一步的發展。請問：這個時期臺灣主要的農作物是下列何者？
(A)茶葉、菸草 (B)稻米、甘蔗 (C)樟腦、鴉片 (D)香蕉、鳳梨
7. () 清廷治臺初期，地方官曾向朝廷建議：讓人民都能組織家庭，那麼民間就不會發生這麼多的械鬥與民變事件。這是針對清政府哪一項措施提出的建議？
(A)開山撫番政策 (B)渡臺禁令
(C)劃界封山政策 (D)鼓勵合資開墾
8. () 資料記載：「某人自幼聰慧不凡，二十三歲考中秀才，三十歲中舉人，三十七歲中進士。他也是臺灣第一位以臺灣本籍子弟身份金榜題名的進士，所以大家又稱他為開臺進士。」上文描述的人應為何？
(A)丘逢甲 (B)林文察 (C)沈光文 (D)鄭用錫
9. () 臺灣有一個族群的傳統文化特色是「唱山歌」、「喝擂茶」及「祭拜三山國王」。請問：這個族群的先民，有可能是來自於中國哪一地方？
(A)永春州 (B)泉州 (C)潮州 (D)漳州
10. () 阿朱來到了臺南某間醫院就診，此醫院前身是英國傳教士在臺南所建立的臺灣第一間西醫醫館。請問：此醫院應該是下列何者？
(A)慈濟醫院 (B)羅東聖母醫院 (C)臺安醫院 (D)新樓醫院
11. () 下表是臺灣開港通商後，洋行在臺的營運狀況。若考慮當時商品產區與出口地，這些洋行最可能皆設置於圖中何處？

名稱	主要出口商品
寶順洋行	茶葉
美利士洋行	樟腦
公泰洋行	樟腦
費爾·哈士迪斯洋行	樟腦、煤



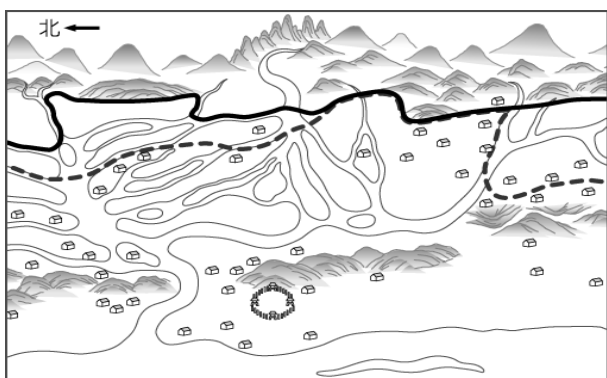
- (A)甲 (B)乙 (C)丙 (D)丁
12. () 1860 年代以後，臺灣政治經濟重心逐漸由南部轉移至北部，其主要原因為何？
(A)南部發生戰亂，經濟受到破壞
(B)南部居民保守排外，導致發展落後
(C)北部由於臺灣建省，而成為政治中心
(D)北部盛產茶葉與樟腦，帶動城鎮興起
13. () 英國對臺灣的貿易，原先透過郊商購買米糖等產品，後來則進行直接貿易。這種轉變與哪一事件有關？
(A)鄭成功打敗荷蘭人 (B)臺灣納入清朝版圖
(C)英法聯軍之役後，臺灣開港通商
(D)臺灣建省後，地理位置日趨重要
14. () 附圖為臺灣某時期兩大港口的海關出口值統計圖。由圖中內容判斷，乙港口最可能位於臺灣何處？

(A)淡水 (B)安平 (C)臺中 (D)花蓮
15. () 根據歷史記載：「1869 年艋舺是北臺灣最大的商業中心，但到了 1898 年淡水海關報告中登記著——大稻埕人口 31,533 人，艋舺 23,767 人。」請問：此時大稻埕人口大量增加的主要原因為何？
(A)清法戰爭波及艋舺 (B)開放大稻埕進口鴉片
(C)艋舺地區樟腦輸出量減少
(D)大稻埕成為茶的最大出口集散地
16. () 臺北艋舺青山宮〈沿革記略〉提到：「(清)咸豐 4 年，福建惠安縣漁民奉其故鄉青山廟靈安尊王像至艋舺(今萬華)，由大溪口登岸，經舊街(今西園路)，神輿突不能舉，公議擲筊問神卜地，於此建小廟奉祀。時適淡北瘟疫流行，死亡相繼，凡至廟中求神庇佑者皆無恙，於是善信日增。」從上述碑文判斷，這座廟宇供奉的主神是：
(A)王爺 (B)媽祖 (C)土地公 (D)義民爺
17. () 有一首詩：「勸君切莫過臺灣，臺灣恰似鬼門關，千個人去無人轉，知生知死都是難。」這是清末詩人所做的長詩《渡臺悲歌》，詩中說明了要渡過黑水溝的艱難，也點明當時移民者離鄉背井的無奈。請問：上文中的黑水溝是指下列何者？
(A)太平洋 (B)南海 (C)東海 (D)臺灣海峽

18. () 清領時期，臺灣族群複雜，一旦發生糾紛，經常動用武力解決問題，其中規模較大的武力衝突就有數十次之多。造成上述社會衝突的原因很多，下列何者是主要因素？
 (A) 要求臺灣開港通商 (B) 對抗外來宗教
 (C) 搶水爭地 (D) 抵制鐵路建設
19. () 「六死三留一回頭」這句話意謂著移民來臺的危險，十人之中有六個死亡，三個能到達，一個回頭。請問：清帝國早期，從中國大陸冒險來臺的移民以哪兩個地區最多？
 (A) 廣東、廣西 (B) 河南、河北
 (C) 山東、山西 (D) 福建、廣東
20. () 宣宣寒假到鹿港展開懷舊之旅，發現鹿港古蹟眾多，除了九曲巷與摸乳巷，也參觀在後車巷僅存的一座隘門，隘門建於1830年，為縣定古蹟。請問鹿港的隘門遺蹟，見證了下列何項歷史？
 (A) 漢原衝突 (B) 械鬥頻繁 (C) 外患頻傳
 (D) 合資開墾
21. () 臺北市芝山岩古蹟有一幅對聯寫著「同歸原有命，一所豈無緣」。其實這是當初泉州人入侵，漳州人不敵，退守芝山岩，當時雙方戰鬥慘烈，事件之後將這次衝突的死難者葬在一起而加以命名。請問：這場衝突是因為何種問題而起？
 (A) 不同職業 (B) 不同年紀 (C) 不同祖籍
 (D) 不同階級
22. () 臺灣俚語：「一個某，卡贏三個天公祖」。這句俚語與當時清廷的哪一項政策有關？
 (A) 開山撫番 (B) 渡臺禁令 (C) 開港通商
 (D) 寓兵於農
23. () 佳佳在一次出遊中，無意間發現路旁有一座「有應公」廟宇。請問：這座廟宇主要是為了祭拜下列何者而設立的？
 (A) 難產而死的女性 (B) 鄭氏抗清時陣亡的將士
 (C) 未滿周歲夭折而死的嬰兒 (D) 無主的孤魂
24. () 下表為清代臺灣科舉人數統計表。由此表可看出，嘉慶、道光時期臺灣考上舉人、進士的人數增多。之所以會出現這樣的轉變，主要原因應該是下列何者？

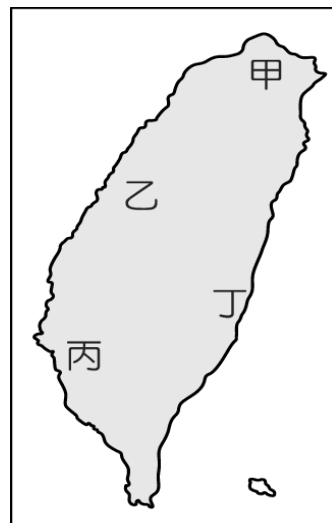
項目	康熙、雍正時期 (1684~1735)	嘉慶、道光時期 (1796~1850)
舉人	15	74
進士	0	6

- (A) 臺灣械鬥與民變遭到鎮壓，社會安定
 (B) 清廷實施渡臺禁令，作姦犯科之人無法來臺
 (C) 工商業者廣設「洋行」，帶動了讀書風氣
 (D) 文教機構陸續增設，人民受教育的機會增多
25. () 小胖妹翻看古地圖（如附圖）時，發現地圖上有兩種不一樣的界線，姐姐跟她解釋，兩種線代表的意義一樣，但粗體實線是後來界線改變後新畫的。請問：兩種線界線的改變，代表下列何種情況發生？



- (A) 番界逐漸向內山地區移動
 (B) 茶葉種植從平地向山地移動
 (C) 平埔族的獵場逐漸擴大
 (D) 高山原住民與漢人合作開拓荒地

26. () 1684年清朝將臺灣正式納入版圖後，此處成為臺灣對外的唯一「正港」，當時臺灣盛產蔗糖，商船運載出入，也多經此地輸往中國大陸。請問：此港口位於附圖中何處？



- (A) 甲 (B) 乙 (C) 丙 (D) 丁
27. () 廢止渡臺禁令與開山撫番與下列何人有關？
 (A) 施琅 (B) 施世榜 (C) 劉銘傳 (D) 沈葆楨
28. () 清領後期傳教士馬偕在臺灣創立「牛津學堂」為臺灣學生授課，請問：牛津學堂的古蹟位於下列哪一所大學？
 (A) 淡水真理大學 (B) 臺北醫學院 (C) 新竹清華大學
 (D) 高雄醫學院

題組一

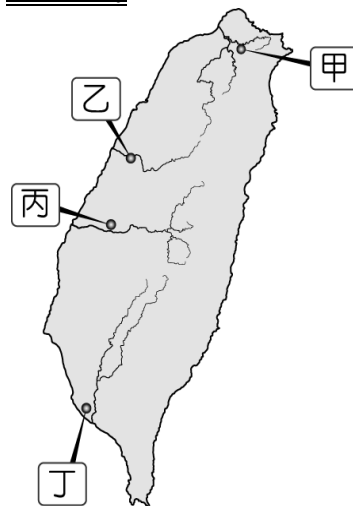
依據下文提示回答 29~31 題

臺灣俗諺「有唐山公、無唐山媽」、「红柿出頭，羅漢腳仔目屎流」等，可以生動反映出當時的社會景象。請問：

29. () 這些俗諺反映了哪一時期的臺灣社會？
 (A) 荷蘭統治時期 (B) 鄭氏政權時期
 (C) 清領前期 (D) 清領後期
30. () 從俗諺內容判斷，反映當時臺灣社會的何種現象？
 (A) 男女比例嚴重失衡 (B) 治安敗壞
 (C) 農業生產落後 (D) 教育水準低落
31. () 造成此種社會現象的原因為何？
 (A) 政府劃定番界，隔離漢人與原住民
 (B) 械鬥與民變頻繁，造成社會不安
 (C) 當時規定移民不准攜眷渡臺
 (D) 漢人來臺供奉原鄉神明，凝聚向心力

題組二

參看地圖回答 32~35 題



班級：_____ 姓名：_____
座號：_____

32. () 有一條水圳，是由來臺的漢人與原住民合作興建，採取割地換水的模式，為求雙方合作順利，這名漢人甚至娶了平埔族頭目女兒為妻。請問建造水圳的漢人是誰？
(A)郭錫瑠 (B)張達京 (C)施世榜 (D)曹謹
33. () 承上題，這條水圳位於圖中何處？
(A)甲 (B)乙 (C)丙 (D)丁
34. () 清代灌溉規模最大的水圳位於圖中何處？
(A)甲 (B)乙 (C)丙 (D)丁
35. () 臺灣在清帝國時期所興築的四大水圳，由北而南依序為何？
(A)曹公圳、瑠公圳、貓霧揀圳、八堡圳
(B)八堡圳、曹公圳、貓霧揀圳、瑠公圳
(C)貓霧揀圳、曹公圳、八堡圳、瑠公圳
(D)瑠公圳、貓霧揀圳、八堡圳、曹公圳

題組三

閱讀下面短文回答 36~37 題

大年初一，小張跟著父母到大甲鎮瀾宮點光明燈，並祈求神明保佑。廟裡香客絡繹不絕，充分感受到廟宇的肅穆氣氛。回臺北後，順便到艋舺清水祖師廟拜拜。請問：

36. () 聖母廟供奉媽祖神位，香火鼎盛，是許多人共同供奉的神明。早期漢人移民供奉媽祖的主因為何？
(A)求消災去瘟疫 (B)求拓墾平順
(C)求航海平安 (D)祈求孕婦生產順利
37. () 小張的父母告訴小張說：「清水祖師可是我們原鄉的神明。」可知小張的祖先應該來自何處？
(A)福建漳州 (B)福建泉州 (C)廣東潮州
(D)福建福州

題組四

閱讀下面短文回答 38~40 題

西元 1740 年福建分巡臺灣道劉良璧作〈沙轆行〉：「皇恩許遷善，生者還其鄉；番婦半寡居，番童少雁行。嗟乎沙轆番，盛衰物之常。祇今防廳廨，荒煙蔓道旁。」內容在描述當地原住民在抗官事件後，原住民部落元氣大傷，榮景不再的悲劇。請問：

38. () 上述詩作所描述的是下列哪一事件後的原住民部落？
(A)麻豆社之役 (B)朱一貴事件
(C)大甲西社事件 (D)林爽文事件
39. () 上述這起抗官事件爆發的原因，不可能為下列何者？
(A)漢人巧取豪奪原住民土地
(B)官府不當欺壓原住民部落
(C)原住民負擔的勞役太重
(D)漢原合作平定林爽文事件
40. () 19 世紀中期，歐美地區的傳教士再度到臺灣傳教，與下列哪一項歷史事件有關？
(A)施琅平定鄭氏政權 (B)牡丹社事件
(C)清法戰爭 (D)開港通商