

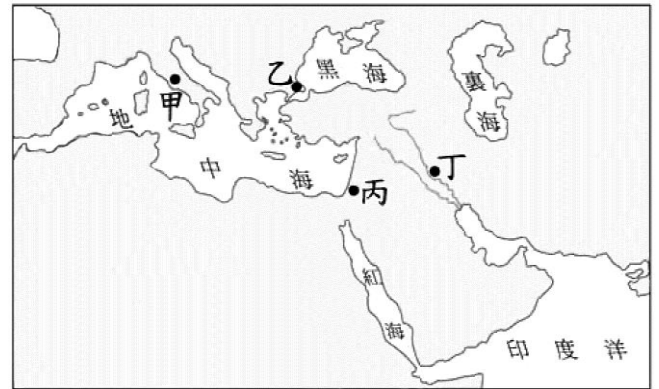
(答案請畫電腦卡)

一、單選題 (1~45題，每題2分；46~55題，每題 1分，

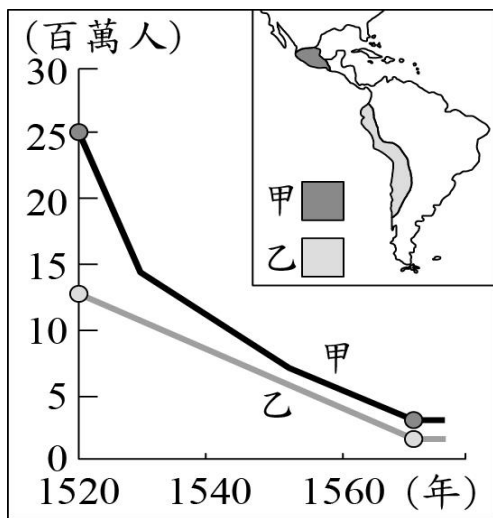
共 55 題，總分 100 分)

1. ( ) 西班牙語今日成為中南美洲多數國家的通用語言，主要是受到哪一項歷史事件的影響？  
(A)地理大發現 (B)文藝復興 (C)十字軍東征 (D)宗教改革
2. ( ) 《古蘭經》是下列哪一個宗教的經典？  
(A)佛教 (B)猶太教 (C)基督教 (D)伊斯蘭教
3. ( ) 「這是一座八到十一世紀間繁榮的城市，有富麗堂皇的宮殿，但裝飾品並無崇奉任何人物和神像；建築外觀為伊斯蘭教建築風格。」請問：這段文字所形容的最可能是下列哪一座城市？  
(A)君士坦丁堡 (B)羅馬 (C)威尼斯 (D)巴格達
4. ( ) 中西歷史時常交互影響。東漢時北匈奴戰敗西遷，第四世紀時進入歐洲，迫使日耳曼民族遷徙，結果導致下列哪一帝國的滅亡？  
(A)神聖羅馬帝國 (B)西羅馬帝國 (C)東羅馬帝國 (D)鄂圖曼土耳其帝國
5. ( ) 佩雯到歐洲某國旅行，旅行社的廣告簡介如下：「歷史上，這個國家曾被羅馬帝國、西哥德王國及伊斯蘭教政權等統治過，是一個具有多元文化要素的國家。」以上敘述最可能是指哪一個國家？  
(A)英國 (B)丹麥 (C)法國 (D)西班牙
6. ( ) 十三世紀，西歐地區某座教堂的神父告訴信徒，虔誠向上帝禱告並認罪悔改，便可躲過來自東方的「黃禍」。神父所指的「黃禍」是指下列何者？  
(A)阿拉伯帝國向外擴張 (B)蒙古西征 (C)塞爾柱土耳其人侵略 (D)北匈奴入侵歐洲
7. ( ) 愛德華是位誠實的商人，他一生勤儉，努力工作，藉由現世成就來榮耀上帝，他也認為財富並非罪惡，而是象徵上帝的恩寵。依此推論，他最可能是下列哪一教派的信徒？  
(A)路德教派 (B)喀爾文教派 (C)英國國教派 (D)天主教耶穌會
8. ( ) 伊比利半島的卡斯提爾與亞拉岡兩個王國，為了驅逐南方的伊斯蘭教勢力，於是透過聯姻，將兩國逐漸合併為哪一個國家？  
(A)西班牙 (B)葡萄牙 (C)義大利 (D)英國
9. ( ) 羅馬公教為了因應宗教改革的挑戰，痛下決心發起改革。請問：何人創立「耶穌會」，強調神職人員的學問與紀律，成為羅馬公教的捍衛者？  
(A)喀爾文 (B)亨利八世 (C)馬丁路德 (D)羅耀拉
10. ( ) 承上題，耶穌會後來也曾派人到中國傳教，時間相當於明朝後期，其中最著名的傳教士是下列何人？  
(A)馬雅各 (B)馬偕 (C)郎世寧 (D)利瑪竇
11. ( ) 阿拉伯人靠著伊斯蘭教凝聚勢力，建立了橫跨歐、亞、非三洲的大帝國，其亞洲東部疆域，部分與中國為鄰，伊斯蘭教因而傳入中國。請問：此時相當於中國的哪一個朝代？  
(A)唐朝 (B)宋朝 (C)明朝 (D)元朝
12. ( ) 承上題，中國曾與阿拉伯人在何處交戰，間接促成造紙術西傳？  
(A)諾曼第 (B)奧爾良 (C)馬爾他島 (D)恒羅斯
13. ( ) 「中世紀時，有位雄才大略的國王以今日法國地區為基礎，幾乎統一整個西歐地區，並且獎勵文藝。西元 800 年被教宗加冕為羅馬人的皇帝。」前述內容應是指下列哪一位君主？

- (A)鄂圖一世(B)查理曼 (C)君士坦丁(D)查士丁尼
14. ( ) 下列有四段小說情節，其中哪一段最可能是描寫「中古騎士文化」？  
(A)「蘭斯洛爵士見到對他有恩的亞瑟王受到敵人攻擊，為了表現忠誠，奮不顧身殺退敵軍！」  
(B)「二十歲的麥斯參加公民大會，經過抽籤，幸運的擔任公職。」  
(C)「保羅走入圓形競技場，觀賞人獸格鬥。」  
(D)「阿里巴巴朝麥加方向進行今天第三次禮拜。」
15. ( ) 「這個城市是伊斯蘭教、基督教、猶太教共同的聖地，至今仍然是宗教衝突的引爆點。」「這個城市」應位於圖中何處？  
(A)甲 (B)乙 (C)丙 (D)丁

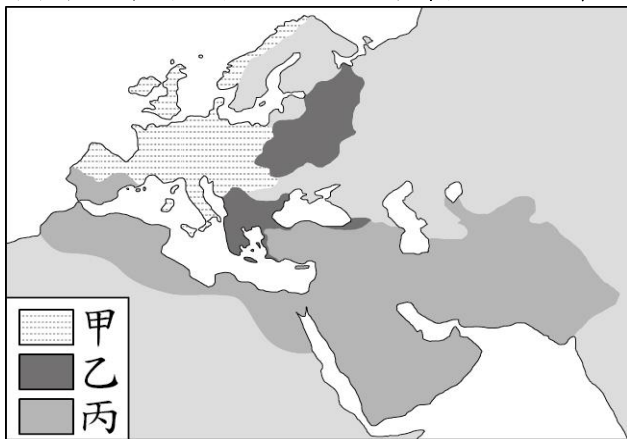


16. ( ) 承上題，該聖城的名稱是指下列何者？  
(A)羅馬 (B)君士坦丁堡 (C)巴格達 (D)耶路撒冷
17. ( ) 在歐洲歷史上，某國君主曾經想要結束一段違反本身意願的婚姻，無奈教宗不准他離婚；這位君主一氣之下，就宣布脫離天主教，自己另立教派。請問：此一事件是發生在哪一個國家？國王是誰？  
(A)英國—亨利八世 (B)拜占庭—查士丁尼 (C)法國—路易十四 (D)西班牙—菲力二世
18. ( ) 法蘭克是一位英格蘭王國的農奴，他必須將大部分農作物交給領主，自己只能以黑麵包、蔬菜等裹腹。他想離開莊園，卻受到限制，沒有選擇其他職業的自由。依此推斷，他最可能生活在下列哪一個制度下？  
(A)種姓制度 (B)共產制度 (C)民主制度 (D)封建制度
19. ( ) 有一段文獻記載：「教會中的高階主教聚集於聖索非亞大教堂，向皇帝提交君士坦丁堡主教的候選人名單。皇帝可從名單中挑選，或另外指派他人擔任。」上述情況最可能發生在下列哪一帝國？  
(A)查理曼帝國 (B)東羅馬帝國 (C)神聖羅馬帝國 (D)西羅馬帝國
20. ( ) 附圖呈現某時期甲、乙二地原住民人口數量估計值的變化。造成此變化的原因最可能是下列何者？  
(A)十字軍東征，帶來戰亂於屠殺  
(B)西班牙人入侵，帶來戰爭與傳染病  
(C)日耳曼民族入侵，壓縮印第安人生存空間  
(D)美洲原住民自相殘殺，導致人口減少



21. ( ) 附圖是十一世紀後期三個宗教的分布示意圖，圖中甲、乙、丙應分別為下列何者？

- (A) 甲：希臘正教、乙：伊斯蘭教、丙：羅馬公教  
 (B) 甲：希臘正教、乙：羅馬公教、丙：伊斯蘭教  
 (C) 甲：羅馬公教、乙：希臘正教、丙：伊斯蘭教  
 (D) 甲：羅馬公教、乙：伊斯蘭教、丙：希臘正教



22. ( ) 婆羅門教、基督教、伊斯蘭教和佛教，依創教時間的先後順序排列，應為下列何者？

- (A) 基督教、婆羅門教、佛教、伊斯蘭教  
 (B) 佛教、伊斯蘭教、婆羅門教、基督教  
 (C) 基督教、婆羅門教、伊斯蘭教、佛教  
 (D) 婆羅門教、佛教、基督教、伊斯蘭教

23. ( ) 宥儒至某城市旅遊，發現此城市曾歷經亞歷山大帝國、羅馬帝國、阿拉伯帝國、鄂圖曼土耳其帝國的統治。宥儒最可能至下列哪一城市旅遊？

- (A) 埃及—開羅 (B) 希臘—雅典  
 (C) 義大利—羅馬 (D) 西班牙—巴塞隆納

24. ( ) 作為中古時期羅馬法律知識的總結，成為後世歐洲法律的重要範本，是指下列哪一法典？

- (A) 《十二銅表法》 (B) 《查士丁尼法典》  
 (C) 《拿破崙法典》 (D) 《漢摩拉比法典》

25. ( ) 想要閱讀阿拉丁神燈、阿里巴巴與四十大盜的故事，要看哪一本文學名著？

- (A) 《伊里亞德》 (B) 《十日談》  
 (C) 《仲夏夜之夢》 (D) 《天方夜譚》

26. ( ) 下圖是某史事的起源地區與傳播方向示意圖，下列何者最符合該史事？

- (A) 文藝復興 (B) 宗教改革 (C) 黑死病摧殘歐洲  
 (D) 日耳曼民族入侵



27. ( ) 這個國家仿效羅馬帝國擴張的模式，在各個征服地區建立城市，作為行政、軍事和經濟中心：部分征服地區是以既存的城市為基礎，如墨西哥城；多數征服地區則是建立新的城市，城內有著規則的街道網絡，如位於中美洲的瓜地馬拉城等。這個國家最可能是下列何者？

- (A) 十世紀的神聖羅馬帝國  
 (B) 十三世紀的東羅馬帝國  
 (C) 九世紀的查理曼帝國 (D) 十六世紀的西班牙

28. ( ) 清領後期，來臺灣的傳教士馬偕屬於長老會的傳教士，請問：長老會與下列哪一個教派淵源極深？

- (A) 天主教耶穌會 (B) 路德教派  
 (C) 英國國教教派 (D) 喀爾文教派

29. ( ) 宛燁到電影院欣賞《聖女貞德》，描述貞德在十七歲得到上帝啟示，鼓舞軍民士氣，打敗入侵的敵軍，但她後來被敵軍捉走，宗教法庭冠以女巫罪名，將貞德處以火刑。請問：這最可能是在描述哪一場戰役？

- (A) 君士坦丁堡攻防戰 (B) 三十年戰爭  
 (C) 英法百年戰爭 (D) 十字軍東征

30. ( ) 西元 962 年，鄂圖一世接受教宗加冕，正式成為帝國的君王。但境內封建制度盛行，這個帝國呈現邦國林立的景況。請問：這是指下列哪個帝國？

- (A) 羅馬帝國 (B) 神聖羅馬帝國  
 (C) 拜占庭帝國 (D) 阿拉伯帝國

31. ( ) 承上題，此帝國的前身是下列何者？

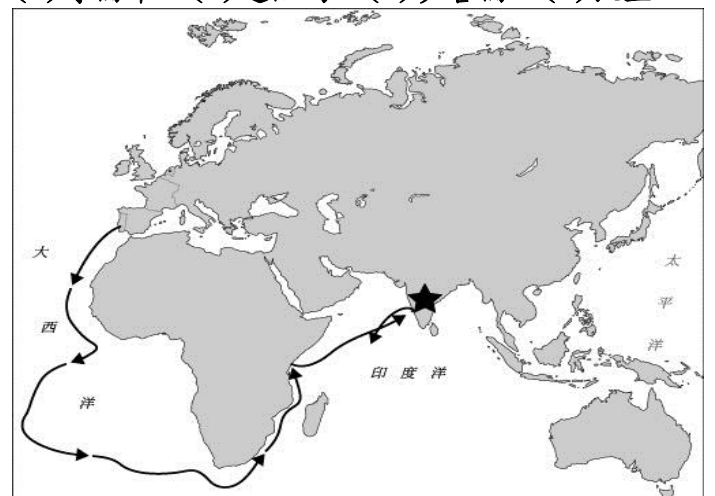
- (A) 東法蘭克 (B) 西法蘭克  
 (C) 中法蘭克 (D) 東羅馬帝國

32. ( ) 日耳曼民族世界入侵西歐的同時，在東方的東羅馬帝國仍然屹立不搖。西元六世紀時，有位君王積極恢復羅馬帝國的領土，曾經一度收復義大利、北非和西班牙南部等地。請問：這位君主是誰？

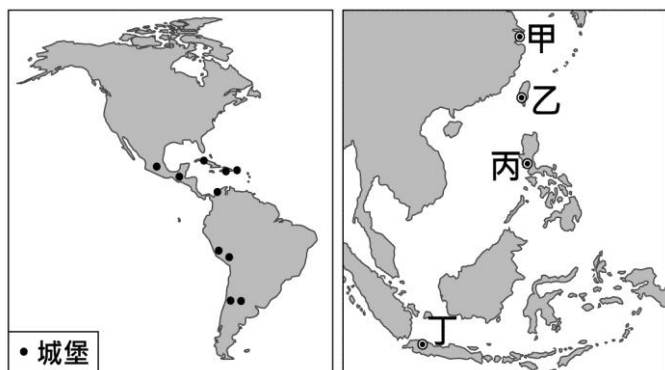
- (A) 李奧三世 (B) 查士丁尼 (C) 君士坦丁  
 (D) 狄奧多西

33. ( ) 他是歷史上第一位從歐洲航海到附圖中「★」的人，為日後葡萄牙對外殖民擴張鋪設道路，是葡萄牙成為殖民帝國的功臣之一。請問：他是何人？

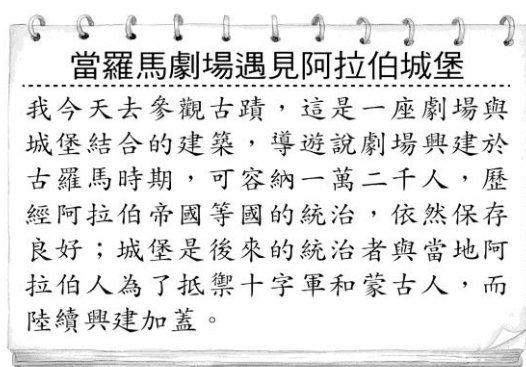
- (A) 哥倫布 (B) 達伽馬 (C) 麥哲倫 (D) 狄亞士



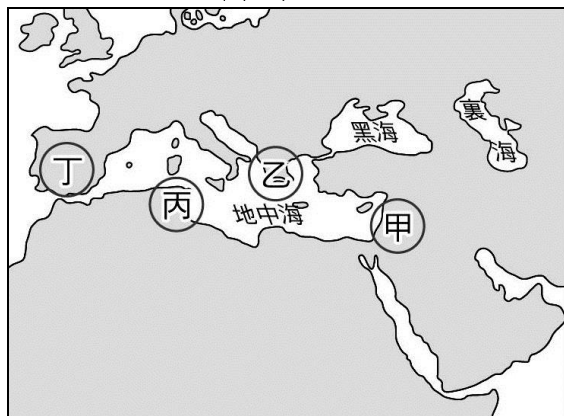
34. ( ) 十六世紀時，某個國家積極向外征服，在美洲殖民地修築了許多城堡，如左圖所示。當時這個國家也曾在亞洲地區建立殖民地，如右圖所示。請問這個國家曾經在右圖中甲、乙、丙、丁何處建立城堡？  
(A)甲 (B)乙 (C)丙 (D)丁



35. ( ) 中世紀的歐洲，由教師及學生所組成的行會組織被稱為？  
(A) 會館 (B) 股份有限公司 (C) 商幫 (D) 大學
36. ( ) 去年 2017 年，是某一歷史事件發生滿五百周年，為此西歐各地都展開了大規模的慶祝活動，請問此一歷史事件是指下列何者？  
(A) 十字軍東征收復聖城 (B) 地理大發現  
(C) 百年戰爭結束 (D) 宗教改革開始
37. ( ) 但丁在作品中描述他迷失於森林中，象徵淫欲、殘暴、貪婪的猛獸豹、獅、狼迎面撲來，古羅馬詩人維吉爾協助他脫離困境，並指引他遊歷地獄和煉獄，他愛慕的女子貝婭特麗絲則在天堂等待。但丁把貪圖名利的主教、教士等安排在煉獄的第四層接受懲罰，教皇朋尼法斯八世更被放在地獄第八層接受火刑。請問：關於但丁與其作品，下列敘述何者錯誤？  
(A) 但丁是西班牙著名的文學家  
(B) 但丁最有名的作品是《神曲》  
(C) 但丁的作品也批判教會與教士的腐敗  
(D) 但丁的作品屬於文藝復興時期的方言文學
38. ( ) 圖(一)是邦怡國外考察所寫的遊記，此古蹟最可能位於圖(二)中甲、乙、丙、丁何處？  
(A)甲 (B)乙 (C)丙 (D)丁



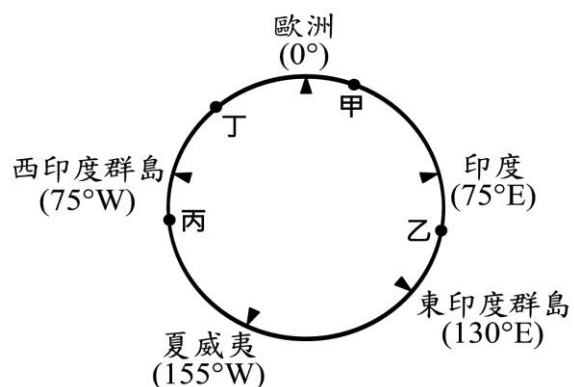
圖(一)



圖二

39. ( ) 十五世紀開始，許多歐洲探險家出海探尋通往亞洲的新航路。圖是十五世紀至十八世紀部分歐洲探險

- 家到達地區的示意圖，其標示方式僅依照這些地區的經度位置排列，而未考慮其緯度位置。狄亞士在 1487 至 1488 年的探險旅程中到達非洲最南端的好望角，若要在圖中呈現，應標示於何處？  
(A)甲 (B)乙 (C)丙 (D)丁



40. ( ) 地理大發現時代，歐洲人自美洲輸出白銀到中國交換茶葉與瓷器，結果間接影響了中國的財政制度，引起下列哪一項改革？  
(A) 漢武帝的鹽鐵酒專賣 (B) 商鞅變法鼓勵耕織  
(C) 王安石變法 (D) 張居正一條鞭法
41. ( ) 曾經有學者指出：「1519~1522 年的這次海上探險，有幾個重要意義，(1)證實向西航行可抵達東方；(2)證實地球是圓的；(3)證實美洲不屬於亞洲的一部分，而是獨立存在。」由此推斷，指揮這次海上探險，有可能是哪位探險家？  
(A) 達伽馬抵達印度 (B) 狄亞士航行至好望角  
(C) 麥哲倫船隊環繞世界 (D) 哥倫布橫渡大西洋
42. ( ) 西歐中古時代初期，哪一個日耳曼部落曾經入侵過英國？  
(A) 盎格魯撒克遜人 (B) 東哥德人  
(C) 法蘭克人 (D) 西哥德人
43. ( ) 附表是歐洲某時期人口的估算表，造成表中「甲」期間人口數量變化的主要因素應是下列何者？  
(A) 十字軍東征，群眾響應前往西亞  
(B) 黑死病流行，大量人口感染死亡  
(C) 蒙古西征後，壯年人口紛紛逃亡  
(D) 宗教改革後，不同的教派彼此仇殺

時間	人口數 (人)
1200 年	5,900 萬
1300 年	7,000 萬
1347 年	7,500 萬
1352 年	5,000 萬

#### 題組一

閱讀下列選文，回答第 44~45 題：

西元 1145 年，法國教士聖伯納(St. Bernard)為激勵士氣，針對當時局勢發表了一篇演說，部分內容如下：「……真理的寶座已被異說占據了……聽我說話的人們，穿上你會那刺不透的盔甲，……戰勝那些異教徒，洗清你們的罪孽，奪回聖地將是你們懺悔的獎賞。」

44. ( ) 上述演說應與下列哪一事件有關？  
(A) 十字軍東征 (B) 宗教改革 (C) 蒙古西征  
(D) 地理大發現
45. ( ) 文中所謂的「戰勝那些異教徒」，主要是針對哪一個教派？  
(A) 印度教 (B) 摩尼教 (C) 路德教派 (D) 伊斯蘭教



## 題組二

閱讀下列選文，回答第 46~48 題：

以下是沛珣的旅遊筆記：「達文西 43 歲時，為米蘭市畫了一幅《最後的晚餐》，成為米蘭的鎮市之寶。……《大衛像》(圖一)收藏在佛羅倫斯藝術學院美術館。離廣揚不遠處是著名的碧提宮美術館，有幾件聖母畫像，被當成國寶般地懸掛在那裡。例如《小椅子聖母》(圖二)表現出母愛光輝，……無論如何，你都會為這幅畫而動容。」



圖(一)



圖(二)

- 46.( ) 若要為上述內容下個標題，何者最適當？  
(A)希臘化時期的藝術結晶  
(B)伊斯蘭教的藝術成就  
(C)文藝復興的藝術精華  
(D)東正教的藝術饗宴
- 47.( ) 圖(一)的大衛雕像是出自於何人的創作？  
(A)佩脫拉克 (B)拉斐爾 (C)魯賓斯  
(D)米開朗基羅
- 48.( ) 圖(二)的聖母像是出自何人的作品？  
(A)佩脫拉克 (B)拉斐爾 (C)魯賓斯  
(D)米開朗基羅

## 題組三

根據下列提示，回答第 49~50 題：

歐洲不同教派的教堂，其建築外觀各自呈現不同的風格。

- 49.( ) 下圖是德國的科隆大教堂，請問是屬於哪種風格的建築？  
(A)巴洛克式建築 (B)羅馬式建築  
(C)拜占庭式建築 (D)哥德式建築



- 50.( ) 請問下圖呈現圓頂，類似洋蔥球狀的教堂建築是屬於哪個教派的建築型態？  
(A)羅馬公教 (B)伊斯蘭教 (C)喀爾文教派  
(D)東正教



## 題組四

根據下列提示，回答第 51~55 題：

- (甲)波斯帝國 (乙)亞歷山大帝國 (丙)羅馬帝國  
(丁)東羅馬(也稱拜占庭)帝國 (戊)阿拉伯帝國  
(己)鄂圖曼土耳其帝國

以上從甲~己是歷史上六個橫跨歐亞非三洲的大帝國，請問：

- 51.( ) 其建國的先後順序為何？  
(A)甲乙丙丁戊己 (B)甲戊己乙丙丁  
(C)丙甲乙丁戊己 (D)丁戊己甲乙丙
- 52.( ) 信奉伊斯蘭教的帝國為下列何者？  
(A)甲戊 (B)乙戊 (C)丙己 (D)戊己
- 53.( ) 國祚延續最久，時間長達一千多年(395 年~1453 年)，有「千年國」之稱的帝國是下列何者？  
(A)羅馬帝國 (B)東羅馬帝國 (C)阿拉伯帝國  
(D)鄂圖曼土耳其帝國
- 54.( ) 承上題，「千年國」最後被下列何者所滅？  
(A)神聖羅馬帝國 (B)蒙古帝國 (C)阿拉伯帝國  
(D)鄂圖曼土耳其帝國
- 55.( ) 中國文獻中的「大秦」及「大食」，分別是指哪些帝國？  
(A)羅馬帝國、東羅馬帝國  
(B)東羅馬帝國、鄂圖曼土耳其帝國  
(C)羅馬帝國、阿拉伯帝國  
(D)亞歷山大帝國、鄂圖曼土耳其帝國