

# 臺北市立誠正國中 107 學年度第一學期 九年級地理科 第二次定期考查試題

範圍：地理第五冊 單元 3~4

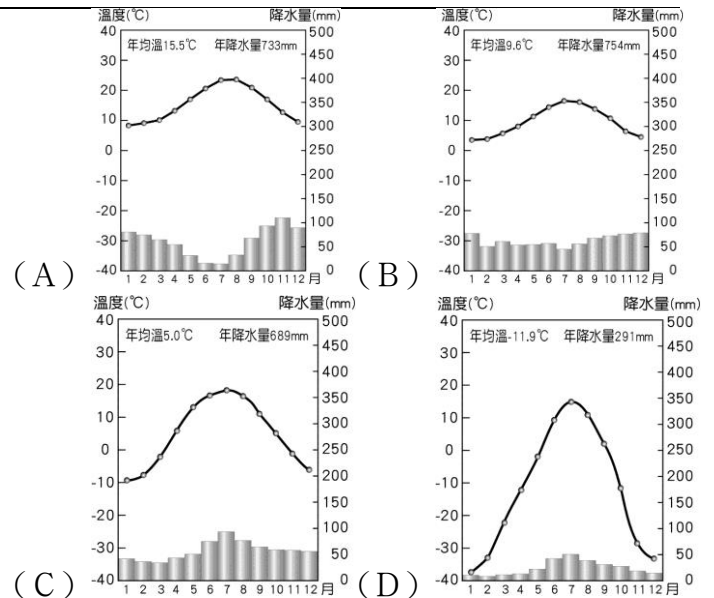
年

班 座號

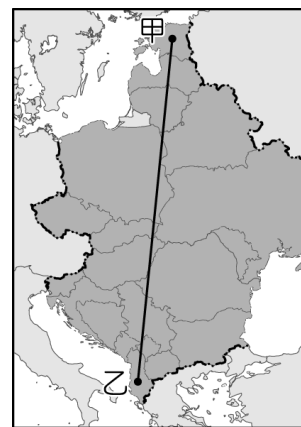
姓名

## 一、單一選擇題(23 小題，每題 2 分，共 46 分)

- ( ) 歐洲各國特色眾多，其中荷蘭三寶：「風車、木鞋、鬱金香」，這和下列何項因素關係最大？  
(A) 方便捕魚 (B) 缺乏布料  
(C) 土地低溼 (D) 林地廣大。
- ( ) 「某國漁產為其最大宗的出口貨品；除了海洋漁業外，另外火山活動頻繁，冰河地形發達，居民也充分利用地熱和溫泉等資源，從事養殖漁業。」上文所指的國家最可能是下列何者？  
(A) 冰島 (B) 芬蘭 (C) 挪威 (D) 丹麥。
- ( ) 波蘭、捷克脫離蘇聯後，搖身變為東歐的工業大國，今日吸引許多企業到該國投資生產，以便產品能就近行銷歐洲市場。請問：若根據上文敘述判斷，這些工業產品的運輸路線多朝哪一方向運至市場銷售？  
(A) 東北方 (B) 東南方 (C) 西方 (D) 南方。
- ( ) 印度在印度洋，澳洲位於遙遠的太平洋上，而加拿大與英國也相隔整個大西洋，然而這些國家卻同為大英國協的會員國。請問：形成該組織的緣由為下列何者？ (A) 宗教信仰 (B) 殖民歷史  
(C) 語言相近 (D) 核子試爆。
- ( ) 全世界最長的海底隧道：歐洲之星列車的通行象徵一個新世紀的來臨，尤其對於哪一個國家而言，可說是融入歐洲大陸的重要里程碑？  
(A) 冰島 (B) 丹麥 (C) 法國 (D) 英國。
- ( ) 廖太太要到兩個寶貝兒子到東歐，一起幫爸爸的馬拉松賽事加油，出發前想了解當地的自然環境。請問：東歐主要的氣候類型為下列何者？  
(A) 溫帶地中海型氣候 (B) 高地氣候  
(C) 寒帶氣候 (D) 溫帶大陸性氣候。
- ( ) 北歐沿海的海岸線長，漁業、航運業相當盛行。請問：下列相關敘述，何者錯誤？ (A) 地形平坦，港口腹地大 (B) 海岸線長，西臨大西洋  
(C) 暖流經過，終年不結冰 (D) 高緯寒冷，多冰河峽灣。
- ( ) 波蘭北部的格但斯克工業相當發達。請問：該市因為地緣關係，以下列何種產業聞名？  
(A) 時尚產業 (B) 造船工業  
(C) 電子工業 (D) 汽車工業。
- ( ) 上期的威力彩頭彩被花蓮的陳小姐幸運獨得，由於獎金龐大，她想交由歐洲的銀行加以管理並規劃，下列哪一個國家的金融業向以制度健全、信譽卓著聞名，因此最為適合？ (A) 瑞典 (B) 德國 (C) 瑞士 (D) 英國。
- ( ) 俄羅斯雖然為全世界最大的國家，但其實有很多地方並不適合人居住，其中維科揚斯克甚至被稱為「寒極」，請問當地的氣溫雨量圖應該為下列何者？



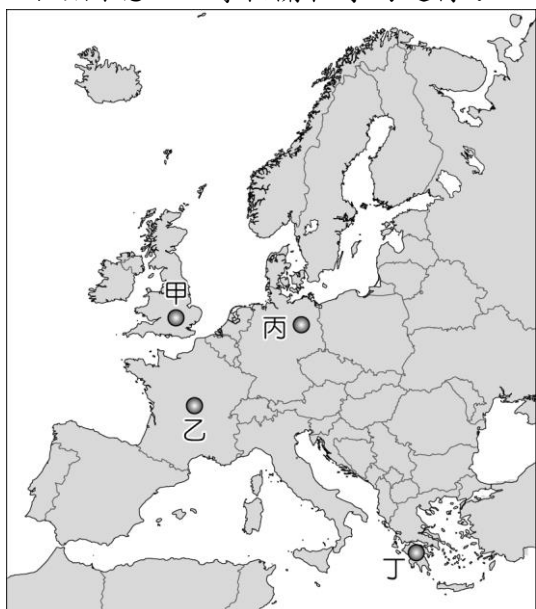
- ( ) 在魔法世界裡要使用瞬間移動，必須先了解當地的地形，不然就會發生形體錯位的可怕結果，這次巫師大會要來到西伯利亞，根據當地的日誌記載：「橫渡高大的山脈後，來到溝谷縱橫的高原地區，最後到了終點，沼澤遍布的平原窪地，讓陪著我們一路走來的吉普車陷入困境。」請根據上文判斷，其前進方向為何？  
(A) 由北向南前進 (B) 由東向西前進  
(C) 由南向北前進 (D) 由西向東前進。
- ( ) 羽球精靈戴姿穎上個月前往北歐比賽，順便趁空檔把北歐五國走遍，她發現五國中有四個國家都使用自己的貨幣，只有這個鄰近俄羅斯的國家使用歐元，故遍遊五國要準備五種貨幣，相當麻煩。請問：上文中使用歐元的是哪一國家？  
(A) 挪威 (B) 瑞典 (C) 芬蘭 (D) 丹麥。
- ( ) 東歐早期受到自然環境的影響，形成不同的區域特色。下圖中由甲至乙點，其經過的地形依序為何？



- (A) 平原→高原 (B) 山地→平原  
(C) 丘陵→平原 (D) 平原→山地。
- ( ) 挪威由於峽灣地形發達，因此對於國家的經濟活動助益甚大。請問：該國海岸形成峽灣地形的最主要原因為何？ (A) 冰河侵蝕，海水入侵  
(B) 冰河溶化，地層下陷 (C) 冰河堆積，海面上升 (D) 岩性軟弱，海水侵蝕。

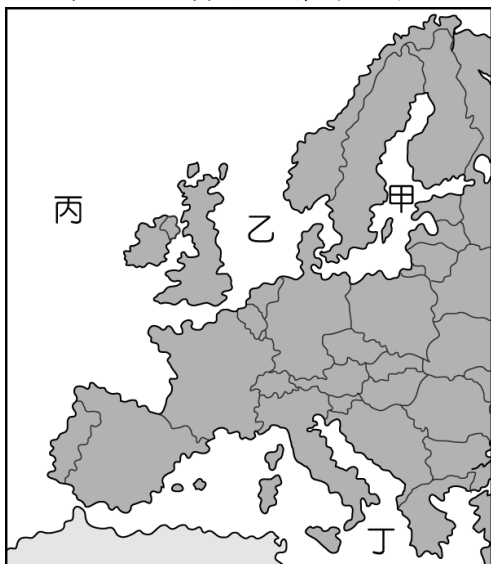
《下頁尚有試題！！請翻頁！！》

15. ( )我國深受 2011 年的歐債風暴影響，當時的衝擊席捲全球。歐盟針對該問題召開紓困會議時，當時下圖中的哪一個歐盟國家由於經濟產值最高，因此由該國總理主導相關程序的進行？



(A)丁 (B)丙 (C)乙 (D)甲。

16. ( )石油為 21 世紀最重要能源，英國、丹麥、挪威都在下圖某海域共同開採石油，此舉將有利於提供這些國家的動力資源，請問此海域區的代號為？



(A)丁 (B)丙 (C)乙 (D)甲。

17. ( )根據統計，法國是全世界觀光客最多的國家，帶來可觀的外匯及國際知名度。請問下列行為不可以在法國實行？ (A)搭乘塞納河的遊船觀賞艾菲爾鐵塔 (B)去羅浮宮參觀蒙娜麗莎的微笑 (C)看看尿尿小童是不是換衣服了 (D)在凡爾賽宮的鏡廳看到無數個自己。
18. ( )前陣子法國和美國之間因為畜牧產品的進口而產生嫌隙，川普總統因此宣布全面提高法國乳酪的關稅，此時最有利於哪一個歐洲國家趁機向美國推銷乳酪，擴大酪農業的市場版圖？ (A)荷蘭 (B)義大利 (C)英國 (D)波蘭。
19. ( )英國開啟工業時代的來臨，但由於英國當地氣候不利於棉花的種植，因此由美國南部的殖民地進口棉花來加工製造。請問：當時棉花的運送會經過哪一海域？ (A)地中海 (B)太平洋 (C)北極海 (D)大西洋。
20. ( )1992 年歐盟成立，各會員國關稅減免，資金、人員可以自由流通，對於經濟發展極為有利。如住

在比利時的居民可以每天開車前往其西側的哪一個國家工作？ (A)荷蘭 (B)法國 (C)義大利 (D)德國。

21. ( )俄羅斯境內的鄂畢河通行流域長達 15,000 公里，為境內相當重要的交通航道。下圖為該河川的流域示意圖，請問：在入秋後，圖中哪一個河段最不容易凝結成冰，利於航運通行？



(A)甲 (B)乙 (C)丙 (D)丁。

22. ( )西歐的荷蘭、英國及法國等國自然環境優越，氣候舒服宜人。請問：下列有關西歐的氣候介紹，何者不正確？

甲	氣候特色	冬季沿海溫暖，涼流經過，冬季不冷
乙	氣溫類型	中緯度大陸西岸地區，溫帶海洋性氣候為主
丙	降水特色	終年有雨，西風吹拂
丁	氣候影響	沿海港口冬不結冰，利於大西洋航運發展

(A)甲 (B)乙 (C)丙 (D)丁。

23. ( )「在小木屋中把烤熱的石頭淋上冷水，享受產生的高溫蒸氣，再以樹枝拍打並按摩身體，然後跑出屋外躍入湖中，利用湖水冷冽的特性收縮肌膚，促進新陳代謝。」請問：這種沐浴方式在下列哪一個國家最常見？ (A)法國 (B)荷蘭 (C)芬蘭 (D)義大利。

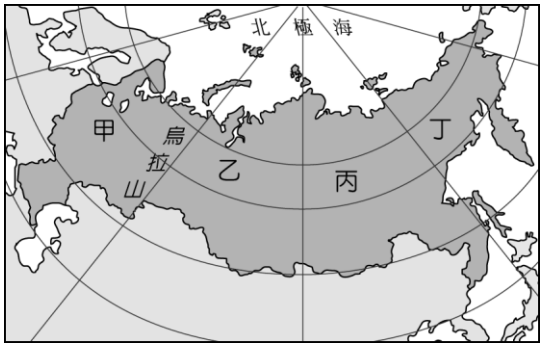
## 二、題組題(12 小題，每題 2 分，共 24 分)

《題組 1》日前俄羅斯報導指出：「烏克蘭將成為中國最大的海外農場」，引來眾多國際間的關注。烏克蘭將向中國提供 300 萬公頃的土地從事各種農牧業的發展，成為主要的生產地，被稱為是近期中國向東歐擴展的重要一步。請問：

24. ( )烏克蘭農業興盛和下列何者關係最大？(A)終年多雨 (B)土壤肥沃 (C)臨地中海 (D)生長季長。
25. ( )由於有河川流經，因此形成肥沃的沖積土壤，有利於烏克蘭農業的發展。請問：流經該地區的河川為何？ (A)萊因河 (B)多瑙河 (C)窩瓦河 (D)聶伯河。

《題組 2》BBC 報導：「俄羅斯境內在 2011 年 12 月發生芮氏規模 6.8 的地震，相關單位立即檢查境內主要的經濟設施，幸好沒有大礙，否則將對俄羅斯的經濟造成衝擊。」請問： 《試題尚未結束，請尋找第三頁試題！》

26. ( )如果依俄羅斯的自然環境特色判斷，這場地震的震央最可能位於下圖中哪一個地理區？



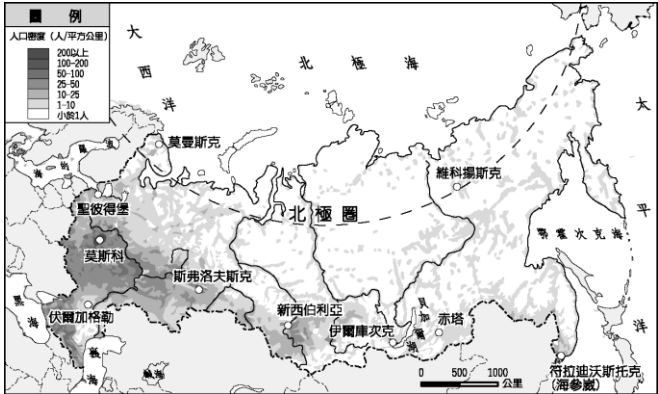
(A)丁 (B)丙 (C)乙 (D)甲。

27. ( )地震發生後，BBC 的英國記者欲前往當地採訪災情時，事先須了解哪一個民族的語言及生活特性，才不會因文化上的隔閡而產生誤解？

(A)盎格魯薩克遜人 (B)因紐特人  
(C)斯拉夫人 (D)日耳曼人。

28. ( )下圖為俄羅斯當地的人口密度分布圖，請問俄羅斯的人口分布與農業發展受到何者的影響最為明顯？

(A)河流長度 (B)地形氣候  
(C)鄰國關係 (D)土地面積。

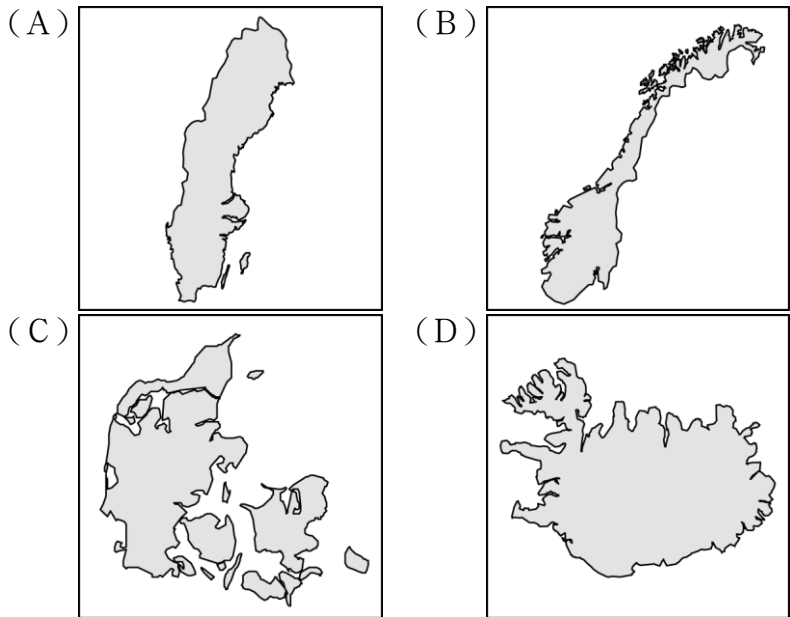


29. ( )俄羅斯透過出口石油等原料，使得經濟快速發展，但在世界政治上的影響力卻逐漸減弱。就連昔日夥伴的東歐國家，近年來也多受到哪一個組織的影響而和俄羅斯漸行漸遠？

(A)東南亞國協 (B)北美自由貿易協定  
(C)亞太經濟合作會議 (D)歐洲聯盟。

《題組 3》完美市長前往北歐的瑞典考察當地的福利政策，希望以此作為市政的借鏡。請問：

30. ( )市長飛抵瑞典後，機場的迎賓人員提供了北歐的觀光資訊地圖。請問：下列何者是瑞典陸地？



31. ( )瑞典的社會福利制度相當完善，其社會福利所需要的經費來源與下列何者關係最大？ (A)幼年人口比例高 (B)居民須負擔高額稅金 (C)北海開採石油 (D)氣候嚴寒不易生存。

32. ( )呈上題，高社會福利雖然令人稱羨，但近年來由於下列何項因素的影響，使該地區的未來可能會調整福利內容與稅率？ (A)政府貪污 (B)環境汙染 (C)少子化社會 (D)軍事行動。

33. ( )瑞典當地盛產鐵砂，若欲與盛產煤礦的波蘭合作，則運輸礦產的貨輪需經過哪一個海域？ (A)北海 (B)黑海 (C)大西洋 (D)波羅的海。

《題組 4》著名的巴爾幹半島位於東歐南端，以喀爾巴阡山與歐洲大平原為界，同時在共產陣營瓦解後，原本共產國家的巴爾幹半島出現了多起的民族衝突，戰火綿延。

34. ( )根據上文對於巴爾幹半島的位置介紹，當地主要以哪一種自然景觀聞名於世？ (A)沙漠地形 (B)火山地形 (C)石灰岩地形 (D)冰河地形。

35. ( )巴爾幹半島紛爭不斷的成因除了族群與宗教複雜外，尚包括下列何者？ (A)正當歐亞陸運要道 (B)管控太平洋進出地中海的航線 (C)位於歐亞美最近航線 (D)有運河通過。

三、配合題：(10 小題，每題 1 分，共 10 分)

歐洲有許多國家，由於各國特色眾多，往往透過不同的別稱，讓我們能夠更好認識及記憶。以下為 10 個國家的別稱，請將相對應的國家代號配對上。

- 36. ( ) 歐洲牧場
- 37. ( ) 花都
- 38. ( ) 冰火王國
- 39. ( ) 千湖國
- 40. ( ) 低地國
- 41. ( ) 歐洲首都
- 42. ( ) 世界公園
- 43. ( ) 音樂之都
- 44. ( ) 歐洲糧倉
- 45. ( ) 日不落國

答案欄：

- A 烏克蘭
- B 丹麥
- C 比利時
- D 冰島
- AB 芬蘭
- AC 法國
- AD 瑞士
- BC 荷蘭
- BD 奧地利
- CD 英國

《下頁尚有試題！！請翻頁！！》

四、簡答題：(兩大題，共 20 分)

(一)「勞力、技術、原料、動力、市場、交通」為主要的六大工業區位，請根據你對這些國家的認識，從以上六大區位中，選出下列八個國家最主要的工業區位為何。

【每題答案只有一個，每格 2 分，請寫國字，不提供代號】

1. 瑞士鐘錶業：\_\_\_\_\_區位
2. 瑞典汽車工業：\_\_\_\_\_區位
3. 冰島發展溫室蔬果種植：\_\_\_\_\_區位
4. 德國魯爾工業區：\_\_\_\_\_區位
5. 芬蘭造紙業：\_\_\_\_\_區位
6. 俄羅斯莫斯科工業區：\_\_\_\_\_區位
7. 捷克成為臺灣鴻海的海外工廠：\_\_\_\_\_區位
8. 荷蘭的鹿特丹：\_\_\_\_\_區位

(二)河運對臺灣雖屬陌生，但在歐洲卻是行之有年的交通方式，其中就屬西歐的萊因河最為重要，不過東歐也有多瑙河蜿蜒其上，可惜航運價值還是不及萊因河，請解釋萊因河略勝一籌的原因。

【字數不限，但請讓老師看得懂，此題 4 分】

《請仔細檢查答案卡、答案卷是否書寫完整、清楚，錯字將予以扣分》