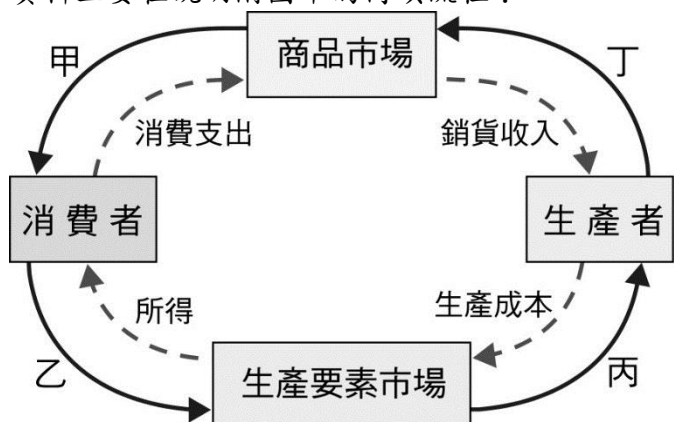


一、基礎題，每題 3 分，共 75 分

- () 有關「市場」的敘述，請問何者正確？
(A) 網路購物無法清楚觀察交易行為，所以不能稱為「市場」 (B) 「人力資源市場」及「原料市場」皆屬於「商品市場」 (C) 「電子電器賣場」對消費者而言是一種「生產要素市場」 (D) 太平洋 SOGO 百貨公司是「有形的市場」
- () 城武走進某速食店，點了一個漢堡、一杯可樂，並付錢給櫃檯服務員。上述城武的行為，顯示其扮演下列哪一個角色？ (A) 供給者 (B) 投資者 (C) 需求者 (D) 生產者
- () 「人力銀行」近年來成為個人求職與廠商徵才的重要管道。像「人力銀行」在經濟活動循環圖中，扮演何種角色？ (A) 商品市場 (B) 生產要素市場 (C) 生產者 (D) 消費者
- () 根據調查資料顯示，有大約一成的青少年在未來工作選擇上希望投入電子競技相關產業，主要原因是看好未來發展且符合興趣。上述資料主要在說明附圖中的何項流程？



- (A) 甲 (B) 乙 (C) 丙 (D) 丁
- () 中國天貓購物網在自行舉辦的 1111 光棍節創下了兩千億以上人民幣的業績。請問，下列哪一市場和天貓購物網屬於同一種類型？ (A) 便利商店 (B) 量販店 (C) 百貨公司 (D) 三樓郵購
 - () 在生產與消費的循環過程中，下列何者代表著「要素供給」？ (A) 柔涵到量販店買飲料 (B) 函柔在市場賣壽司 (C) 易君出演電影報恩者聯盟 (D) 城武工作室招 2 名動畫師
 - () 天龍國商人組團訪問地虎國，發現種植蔬果的農人在工作時顯得懶散，也不太在意蔬果毀損的問題。後來天龍國商人才知道，地虎國的農人不管工作認真不認真，大家都是一樣的薪水，所有產品都屬於政府的，所以他們不在乎。依照上述的情況，地虎國是屬於下列何種制度？ (A) 統制經濟 (B) 資本經濟 (C) 自由經濟 (D) 市場經濟
 - () 新聞報導：「目前國內房地產的發燒話題就是一個接一個的建案以破底價攻勢，在各地引起降價大火。」由此判斷，全臺房地產的供需情形呈現下列何種趨勢？ (A) 供不應求 (B) 供過於求 (C) 供需平衡 (D) 無法判斷
 - () 小明在萬聖節中花了 200 塊買一件吸血鬼服裝。請問這是屬於貨幣的哪一功能？ (A) 計價標準 (B) 交易媒介 (C) 價值儲存 (D) 清償債務

- () 價格是影響市場上買賣雙方是否成交的最重要因素，有關市場情況之敘述，何者**錯誤**？
(A) 市面上流行飼養鬥魚當寵物，鬥魚的價格就可能上漲 (B) 商品只要增加生產，其價格就會下降 (C) 平常日的機票比寒暑假便宜，是因為需求小於供給 (D) 商家打折出清是因為供過於求
- () 某篇新聞提到，新上市的蘋果手機價格可能超過四萬元新臺幣，因此有媒體預測，如此高價的手機不會引起搶購的熱潮。上述說法意指高價的手機在上市後，最可能會發生何種情形？
(A) 供過於求 (B) 供不應求 (C) 供需平衡 (D) 無法預測
- () 「如果甲店的衣服售價是 1 隻豬，同樣的衣服在乙店的售價是 6 顆高麗菜，在這種情況下，我們便很難確認哪家店的衣服賣得比較貴。可是如果這時可以換成共同的貨幣來衡量，就可以順利解決這個問題了。」由上可知，貨幣應具有何種功能？ (A) 計價標準 (B) 清償債務 (C) 價值儲存 (D) 交易媒介
- () 某速食公司推出儲值卡，希望民眾在購買這張儲值卡進行各項消費時，可減少貨幣的使用。對此卡片的敘述，下列何者正確？ (A) 等同商品貨幣 (B) 由大型銀行發行 (C) 可做為償還債務的工具 (D) 讓民眾交易更方便
- () 當物價水準持續大幅上升時，會產生哪些現象？ (甲) 貨幣價值提高；(乙) 實質所得減少；(丙) 固定收入者生活水準提高；(丁) 民眾整體生活水平下降 (A) 丙丁 (B) 甲乙 (C) 甲丙 (D) 乙丁
- () 有關中央銀行的職掌，下列敘述何者最正確？ (A) 以營利為主要目的 (B) 保管我國的黃金與外匯 (C) 發行貨幣並提供人民存款 (D) 會適度影響貨幣的需求量
- () 童軍露營的烹飪時間，每位小隊員根據專長分配工作，依能力分別擔任大廚、二廚、伙夫等。上述的分工主要是依據經濟學的哪一項原理原則？ (A) 受益原則 (B) 需求法則 (C) 負擔能力原則 (D) 比較利益法則
- () 假設甲、乙兩國各有能力生產「水梨」以及「芒果」，在相同條件下，甲國一個人民可生產 4 斤水梨及 5 斤芒果，乙國一個人民可生產 9 斤水梨及 11 斤芒果。依照比較利益法則的觀點，甲國應該生產何種商品？ (A) 水梨 (B) 芒果 (C) 兩者都生產 (D) 兩者都不生產
- () 誠正國貨幣近年來兌美元的匯率變動由 20:1，到 21:1，再到 22:1，下列敘述何者最為正確？ (A) 誠正國的進口物價緩慢升高 (B) 誠正國的貨幣逐年升值 (C) 誠正國的貨幣購買力變強 (D) 誠正國的失業率越來越低
- () 自「金融海嘯」發生以來，美金就不斷貶值。上述現象對下列那些人最有利？ (甲) 專門賣成衣至美國的商人；(乙) 想到臺灣旅遊的美國部落客；(丙) 想去美國度蜜月的夫妻；(丁) 進口食品在臺販賣的代理商。
(A) 甲乙 (B) 乙丙 (C) 丙丁 (D) 甲丁

20. () 「血汗工廠」層出不窮，許多跨國企業先後爆發廉價薪資、超時工作等負面消息，引起國際勞工組織關切，此事也反映出在全球貿易下，跨國企業將廉價的生產要素結合起來，而銷售所得的驚人利潤大多流向跨國企業本身及其母國，卻沒有合理的分配給童工與其他國家，下列何者最能說明上述情形？

- (A) 貧富差距不斷擴大 (B) 國際貿易障礙降低
(C) 國際分工愈來愈精細 (D) 國際貿易互動頻繁
21. () 資源相同的甲國與乙國都生產稻米與玫瑰，附表是甲國與乙國一天生產稻米或玫瑰的數量。若以機會成本的觀點而言，下列有關甲、乙兩國生產以及貿易的敘述何者正確？

	甲國	乙國
稻米	100 公斤/天	40 公斤/天
玫瑰	80 株/天	50 株/天

- (A) 甲國向乙國進口稻米比較有利 (B) 乙國生產玫瑰上具有絕對利益
(C) 甲國具有生產稻米的比較利益 (D) 乙國生產玫瑰的機會成本較高
22. () 附表是瀞文與易君每小時生產餃子與燒賣的產量。根據表中資料判斷，下列敘述何者正確？

	餃子	燒賣
瀞文	150 顆	135 顆
易君	120 顆	80 顆

- (A) 瀞文應生產餃子 (B) 易君應生產餃子 (C) 易君兩項都擁有絕對利益
(D) 易君兩項都擁有比較利益
23. () 假設生產一部腳踏車，我國和日本都需要十五勞動日，生產一部汽車，我國需要二十勞動日，日本需要十五勞動日，在此情況下兩國應如何從事貿易？
- (A) 我國出口汽車，日本出口腳踏車 (B) 我國出口腳踏車，日本出口汽車
(C) 我國出口汽車，進口腳踏車 (D) 日本出口腳踏車，進口汽車
24. () 詹小源與盧小洋兩人均為「茶飲師傅」，詹小源做工精細，且每個月可製六斤包種茶，或二斤烏龍茶，而盧小洋每月只能製二斤包種茶或一斤烏龍茶，若二人決定合作創業。應如何生產較符合比較利益法則？
- (A) 詹小源應專業生產包種茶，盧小洋生產烏龍茶
(B) 詹小源應專業生產烏龍茶，盧小洋生產包種茶
(C) 兩人比較利益皆相同，可任意分工 (D) 二人無法比較

25. () WTO (世界貿易組織) 致力於開放市場及自由貿易，最終希望能達到 0 關稅，我國入會後，對國內的經濟可能有什麼影響？(A) 政府提高關稅，保護國內產業
(B) 國內農產品價格將上升
(C) 缺乏特色的產業需要轉型 (D) 消費者選擇機會減少

二、歷屆經典試題，每題 2.5 分，共 25 分

26. () 「某內陸國家的居民，以他們的貨物和勞務換取貝殼，並用貝殼來換取他們所需的其


生活物資。」上述是某個國家經濟概況的部分敘述，班上四位同學分別依據內容提出闡釋，下列哪一位的說法最合理？ (A) 阿成：「該國的貝殼外表相當美觀。」(B) 小英：「該國的貝殼產量未受管制。」(C) 阿瑞：「該國只實施以物易物制度。」(D) 小周：「該國流通的貨幣應是貝殼。」〔摘改自 94. 第二次基測〕

27. () 附表列出食品工廠內四位員工每小時可特製漢堡或薯條的數量。若以機會成本的觀念來比較每位員工特製漢堡或薯條的數量，在不考慮其他條件的情形下，哪一位員工生產「薯條」的相對成本最高？〔摘改自 91. 第二次基測〕

	城一	城二	城三	城四
漢堡 (個)	10	6	3	12
薯條 (包)	5	13	6	5

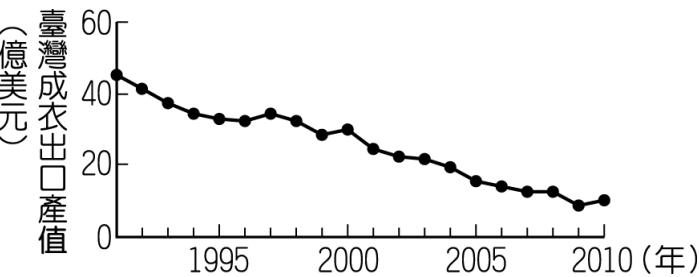
- (A) 城一 (B) 城二 (C) 城三 (D) 城四
28. () 野生救援組織 (WildAid) 是一個由民間各界人士志願組成，致力於保護野生動物的全球性組織。該組織以附圖中的文字作為標語，並將臺灣列為重要的宣導地點，究其原因，在於我國傳統飲食文化中，魚翅象徵富裕與財力，因此對魚翅的使用量較高。由附圖可知，該組織希望藉由影響經濟活動的哪一個面向以達成目的？
- 〔摘改自 103. 會考〕

「請不要吃魚翅」
沒有買賣，就沒有殺害



每年數百萬條鯊魚被割鰭後，丟棄在海洋中，任其痛苦死去。
只為少數人愛吃魚翅、用魚翅宴客。

- (A) 生產者對生產要素市場的需求 (B) 生產者對商品市場的供給
(C) 消費者對商品市場的需求 (D) 消費者對生產要素市場的供給。
29. () 附圖為 1991 至 2010 年臺灣成衣出口產值的變化情形，造成該變化趨勢的主要原因為何？〔摘改自 105. 會考〕



- (A) 產品附加價值提升 (B) 加入世界貿易組織
(C) 國外市場規模擴大 (D) 國內生產成本提高
30. () 大雄和靜香一起在班上打掃，就擦玻璃而言，大雄需要 20 分鐘，靜香需要 15 分鐘；拖

地的工作，大雄需要 30 分鐘，靜香需要 20 分鐘。依「比較利益」法則，兩人應如何分工較好？ (A)大雄負責擦玻璃，靜香負責拖地 (B)大雄負責拖地，靜香負責擦玻璃 (C)大雄一手包辦兩項工作 (D)靜香一手包辦兩項工作

31. ()根據報導：「外國投資基金看好我國產業發展，因此大量國外資金流入臺灣投資，是我國外匯存底再推新高的主因，截至目前為止，外匯存底累積近 2800 億美元。」請問：外資大量流入臺灣會導致什麼現象？ (A)新臺幣升值 (B)新臺幣貶值 (C)新台幣匯率不動 (D)無法判斷

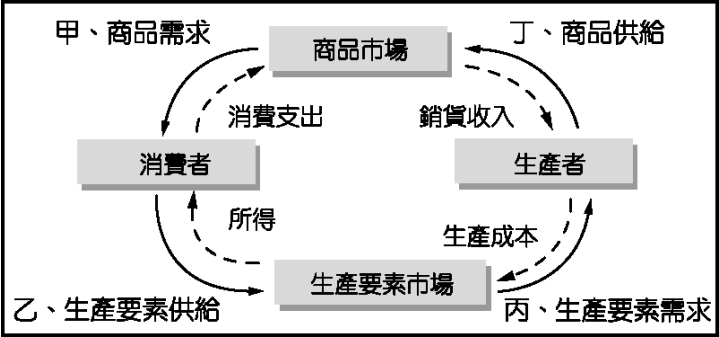
32. ()小楓和小平合作生產蛋糕和蘋果派，每人同時只能製作其中一種商品，附表是他們的一日產量表。若依比較利益法則進行分工，小楓應負責生產蘋果派，而小平生產蛋糕。根據上述內容判斷，表中的甲最可能為下列何者？〔摘改自 100. 北北基〕

	小楓	小平
蛋糕（天）	400 個	300 個
蘋果派（天）	500 個	甲

(A)300 個(B)400 個(C)500 個(D)600 個。

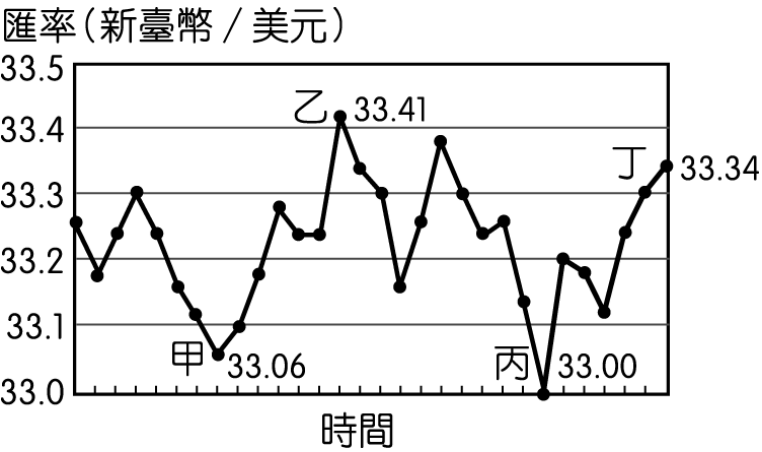
33. ()陳師傅在麵包大賽奪得冠軍後自行開店，許多民眾因媒體報導而指名訂購冠軍麵包。雖然冠軍麵包的製作過程並不費時，不過陳師傅堅持麵包必須由他親手製作，因此顧客們常要等候數天才能拿到。下列關於上文的敘述何者正確？〔摘改自 101. 基測〕(A)冠軍麵包的價格將會因產量增加而下降 (B)陳師傅的麵包店屬於生產要素市場(C)民眾搶購冠軍麵包符合需求法則 (D)市場上冠軍麵包的供給量小於需求量。

34. ()建國鋼鐵工廠為了提高生產量，要再添機器設備。請問：增添機器設備的行為，是屬於附圖經濟活動循環簡圖中的哪一項？〔摘改自 92. 第二次基測〕



(A)甲 (B)乙 (C)丙 (D)丁。

35. 吉祥公司定期以新臺幣兌換美元後，向美國進口價值一千美元的原料，附圖是該公司的兌換紀錄，圖中顯示在不同時間點以 1 美元兌換新臺幣的比率。僅根據圖中內容判斷，若以新臺幣為衡量單位，甲、乙、丙、丁四個時間點，何者的進貨成本最低？〔摘改自 100. 第一次基測〕



(A)甲 (B)乙 (C)丙 (D)丁。