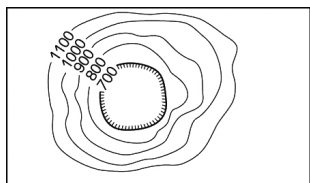
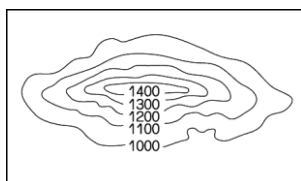


# 臺北市誠正國民中學 107 學年度第二學期第二次段考八年級地理科考卷

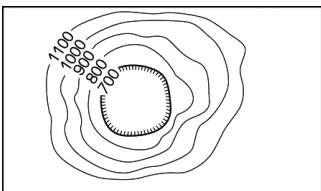
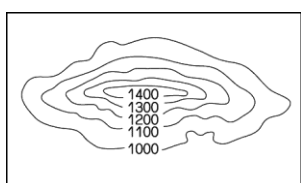
## 一、單題(每題二分)

- 中國境內各地因其區域特色而有不同稱號。請問下列哪一個地區的地理位置不是位於西部地區？(A)世界屋脊(B)塞上江南(C)聚寶盆(D)天府之國
- 擁有各種礦物鹽及化工原料，湖泊中含有大量的硼被譽為「東方硼庫」。另外也蘊藏著可觀的石油、天然氣和多種金屬礦藏，所以有「聚寶盆」之稱。上述指的是中國何地？又該地的地形景觀示意圖為何？  
(A)四川盆地 (B)柴達木盆地



(C)準噶爾盆地

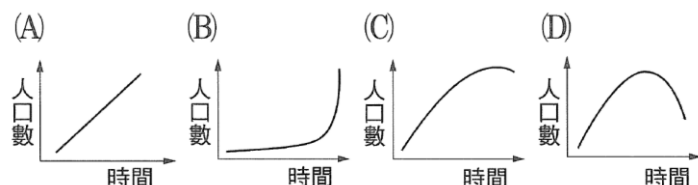
(D)塔里木盆地



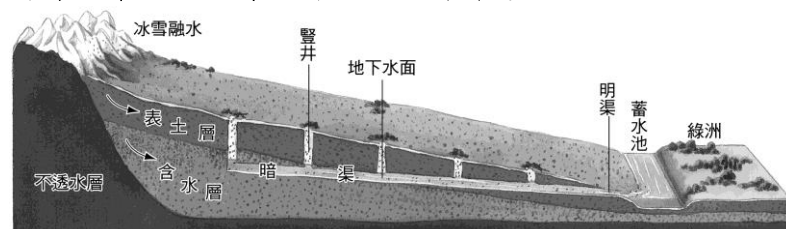
- 中國季風、草原及沙漠氣候的畫分條件主要為何？  
(A)地勢高低(B)氣溫高低(C)降雨多寡(D)緯度高低
- 西北地區國防地位重要，該地區的陸上鄰國為下列何者？  
(A)日本、北韓(B)越南、南韓(C)俄羅斯、哈薩克(D)北韓、俄羅斯
- 水資源被認為是未來戰爭的導火線之一，中國欲在某地區興建大型水壩，引起下游相關國家的抗議甚至不惜發動戰爭，這種情形可能會發生在哪個地理區？  
(A)青海湖盆地(B)內蒙古高原(C)藏南谷地(D)塔里木盆地
- 炳儒的旅遊日記寫著：「這裡號稱是最大的生物資源寶庫，植物和鳥類的種類占世界品種一半以上，但是天氣很悶，讓我覺得不是很舒適。」由以上敘述可推知，該旅遊地區的植被種類為下列哪一項？  
(A)苔原(B)針葉林(C)莽原(D)雨林
- 西元 2000 年，中國開始推動「西部大開發」的政策，四大重點工程專案不包括下列哪一項？  
(A)青藏鐵路(B)西電東送(C)退田還湖(D)西氣東輸
- 青藏高原天空碧藍、雲量少，太陽輻射強，日照非常充足，造成該地日照充足的主因為下列何者？  
(A)植被較少(B)地勢較高(C)緯度較高(D)季風較強
- 藏南谷地因氣候較為暖溼，適合發展農業，為西藏主要的精華區，造成本區雨量較多的主要原因為何？  
(A)夏季西南季風，夾帶印度洋水氣(B)夏季東南季風，夾帶太平洋水氣(C)冬季東北季風，夾帶太平洋水氣(D)冬季西北季風，夾帶印度洋水氣
- 新疆有「瓜果之鄉」美稱所產的瓜果汁多味甜，這主要和下列哪一項環境因素有關？  
(A)雪水灌溉，水質純淨(B)日照充足，日夜溫差大(C)土壤肥沃，富含礦物質(D)乾燥少雨，蒸發旺盛
- 下列哪一個地理區，主要是受到內營力作用形成？  
(A)北美大平原(B)安地斯山脈(C)恆河三角洲(D)歐洲大平原
- 家佑暑假前往耶路撒冷旅遊看到許多用衣料包覆全身的女性，並參觀當地著名的清真寺。請問家佑在當地看到的是下列哪一種宗教的特色？  
(A)基督教(B)佛教

(C)印度教(D)伊斯蘭教

- 中國實施三北防護林工程，提高森林覆蓋率，這主要是在減緩西部地區的哪項環境問題？  
(A)冰川溶化(B)水土流失(C)地層下陷(D)土地沙漠化
- 某臺商打算將棉紡織廠遷移到中國，若只考慮原料區位最適合遷到哪一個省區？  
(A)甘肅(B)新疆(C)內蒙古(D)西藏
- 溫帶和熱帶地區的氣候類型大不相同，但溫帶地中海型和熱帶莽原兩種氣候卻有何項共同特徵？  
(A)終年高溫多雨(B)終年高溫少雨(C)乾濕季節分明(D)降水集中夏季
- 西元元年時，地球人口約有 2.5 億，到 1800 年約 10 億、1970 年約 40 億，至今人口已達 75 億人。下列哪一張圖最能代表世界人口變化趨勢？

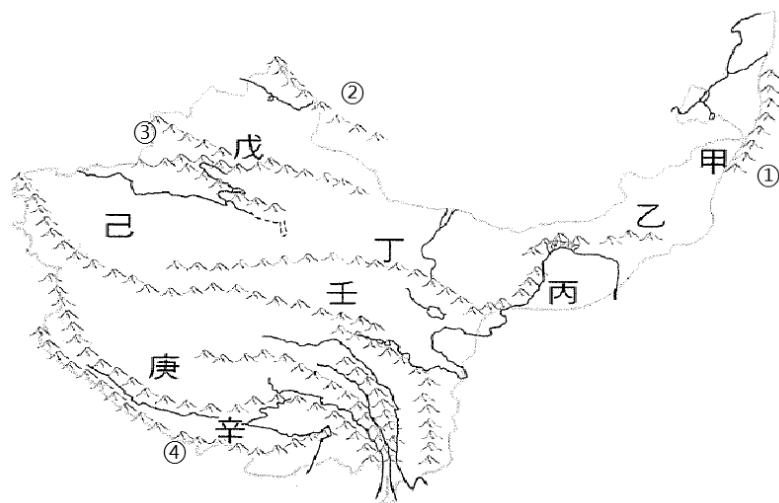


※下圖為坎井示意，請依圖回答下列問題：



- 這種水利工程可在中國何處見到？  
(A)黃土高原(B)吐魯番窪地(C)內蒙古高原(D)河套平原
- 圖中暗渠的設計有何用意？  
(A)減少水分蒸發(B)減緩水土流失(C)防止土壤鹽鹼化(D)預防水患發生
- 這種灌溉方式盛行的地區，其降水有什麼特色？  
(A)全年少雨(B)冬雨夏乾(C)夏雨冬乾(D)冬春多雨

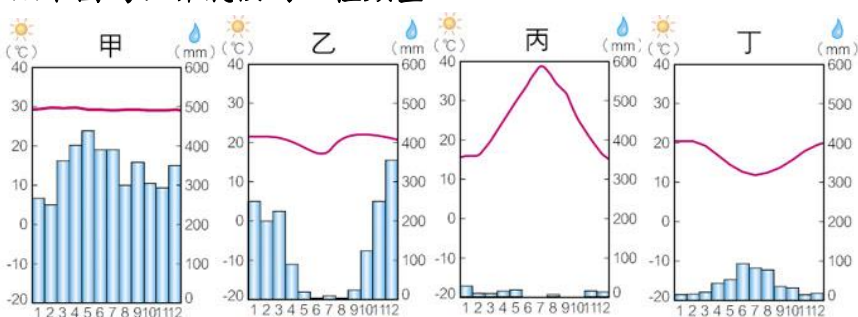
※下圖為西部地區分布圖：



- 圖中的③為何座山脈？  
(A)大興安嶺(B)天山(C)岡底斯山(D)祁連山
- 圖中的④為何座山脈？  
(A)喜馬拉雅山(B)天山(C)阿爾泰山(D)崑崙山
- 壬區居民多從事畜牧業，牧民夏季在山上放牧，冬季則下山避寒，此種畜牧方式最可能為下列哪種畜牧類型？  
(A)山牧季移(B)水平游牧(C)欄牧(D)定居放牧
- 此區氣候嚴寒、降水量少、植被稀疏，所以人煙稀少成為野生動物的天堂。中國設立多處自然生態保護區，此區位於圖中哪個地方？  
(A)戊(B)己(C)庚(D)辛

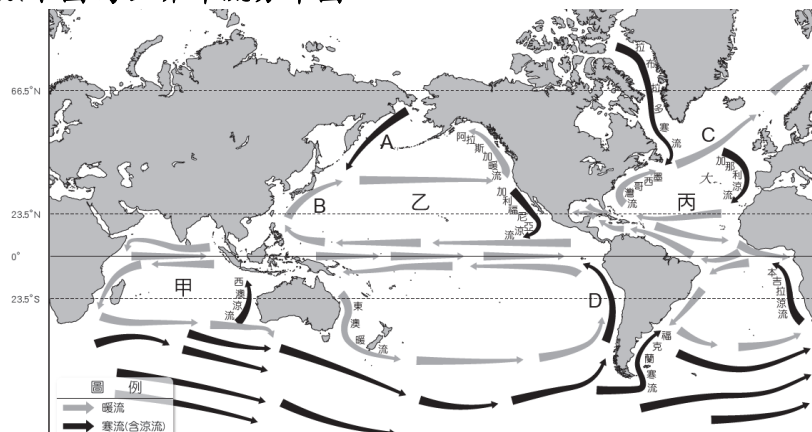
24. 本區有來自印度洋暖溼水氣，降水量稍多，適合種植青稞、豆類與小麥，西藏首府拉薩更位於此。此區位於圖中哪個地方？(A)己(B)庚(C)辛(D)壬
25. 中國最大的沙漠——塔克拉瑪干沙漠，維吾爾族語的意思是「進得去，出不來」，人們稱之為「死亡之海」。請問：塔克拉瑪干沙漠位於圖中何處？(A)丙(B)丁(C)戊(D)己
26. 圖中的丁的綠洲依賴南側高山的融雪提供水源，請問為下列何座山脈？(A)祁連山(B)天山(C)秦嶺(D)大興安嶺
27. 黃河經常性的斷流以及改道或是融冰期不一而造成氾濫，都帶給人民困擾。但河套地區的寧夏引用黃河水灌溉，使得河谷農業發展穩定，因此有「天下黃河富寧夏」的說法。請問：上述地點位於圖中何處？(A)甲(B)乙(C)丙(D)丁
28. 2015年4月尼泊爾發生規模7.8強震，印度、孟加拉、中國西藏等地均有震感。強震同時造成喜馬拉雅山雪崩。喜馬拉雅山的高聳山勢及尼泊爾發生強震的原因，皆是因為哪兩板塊的擠壓錯動造成的？(A)歐亞板塊、非洲板塊(B)歐亞板塊、太平洋板塊(C)印澳板塊、非洲板塊(D)歐亞板塊、印澳板塊

※下圖為世界氣候的四種類型：



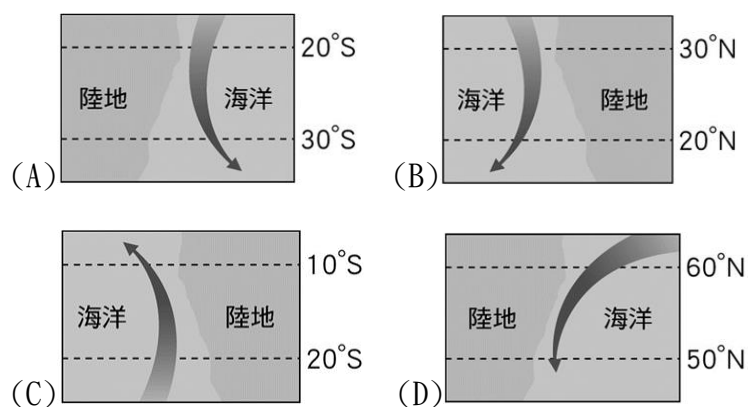
29. 從圖中無法取得下列何種資料？(A)氣溫(B)雨量(C)風向(D)年溫差
30. 哪一張氣候圖緯度最低？(A)甲(B)乙(C)丙(D)丁
31. 哪兩張氣候圖是位於南半球？(A)乙丁(B)甲乙(C)甲丙(D)丙丁
32. 年溫差最大的是哪個地區？(A)甲(B)乙(C)丙(D)丁
33. 圖中哪一個地區代表的是夏雨冬乾的熱帶莽原氣候？(A)甲(B)乙(C)丙(D)丁
34. 每逢溫暖的生長季，雨量卻稀少，因而橄欖樹有葉厚根深的特性。依上文可知，橄欖的特性是為適應何種氣候類型而來？(A)甲(B)乙(C)丙(D)丁
35. 根據丙圖加以判斷，氣候類型為下列何者？(A)熱帶莽原氣候(B)溫帶大陸氣候(C)溫帶海洋氣候(D)熱帶沙漠氣候

※下圖為世界洋流分布圖：



36. 洋流是指大規模海水流動現象，依性質可分為涼流、寒流、暖流。通常寒暖流交會處具有何特徵？(A)大量浮游生物形成重要漁場(B)領土外推擴大經濟海域範圍(C)板塊碰撞富含金屬礦資源(D)海水溫度穩定珊瑚礁美景廣布

37. 「涼流」是由中緯度溫帶海域流向低緯熱帶海域的洋流，常常為周遭帶來較乾的氣候。圖中何者為涼流？(A)A (B)B (C)C (D)D
38. 「黑潮」將溫暖的海水帶到臺灣附近，使臺灣附近成為洄游魚類的洄游區。黑潮屬於圖中哪一股洋流類型？(A)A (B)B (C)C (D)D
39. 北歐的挪威氣候較同緯度的其他地區溫暖，主要是受到哪種洋流影響？(A)對流(B)涼流(C)寒流(D)暖流
40. 依據洋流水溫與流經海域水溫的差異，可區分為暖流和寒(涼)流二種性質不同的洋流。根據上述定義，下列四股洋流中，何者的性質和其他三者不同？



## 二、非選擇題(每題二分)

※下圖為全球各大洲及大洋分布圖，請依各題填入答案或代號：

①~⑦為大洲，甲~丁為海域



41. 面積4400萬平方公里為世界第一，也是人口最多的一洲？(大洲代號)
42. 緯度最高的一洲，氣候寒冷沒有常駐居民，只有一些科考人員？(大洲代號)
43. 巴西境內的亞馬孫雨林為面積最大的雨林，其位於圖中哪一洲？(大洲代號)
44. 世界第二大洋。位於南、北美洲和歐洲、非洲、南極洲之間？(海域代號)
45. 圖中代號④為哪一洲？(大洲名稱)
46. 圖中代號②為哪一洲？(大洲名稱)
47. 圖中代號③為哪一洲？(大洲名稱)
48. 甲為哪一個海域？(海域名稱)
49. 丙為哪一個海域？(海域名稱)
50. 丁為哪一個海域？(海域名稱)

