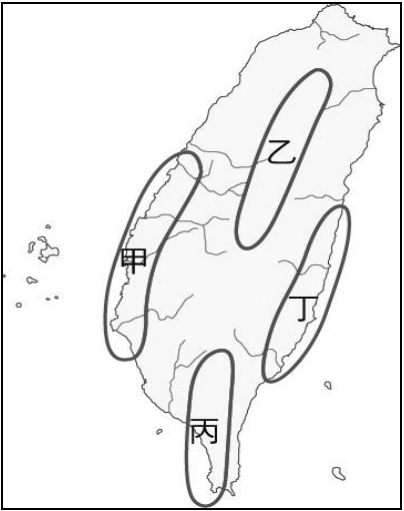
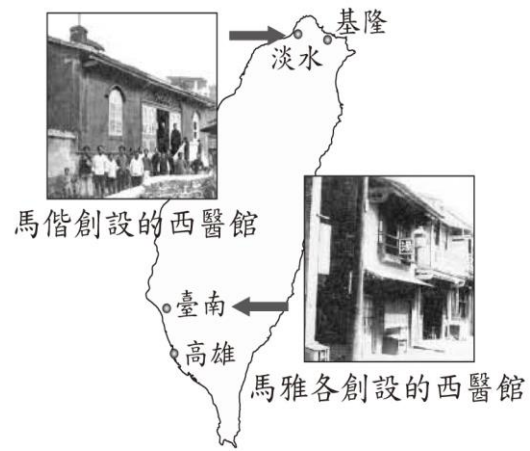
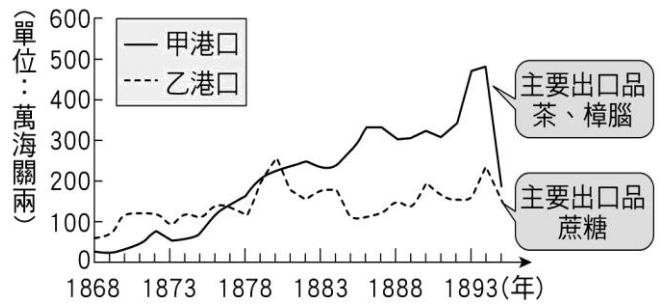


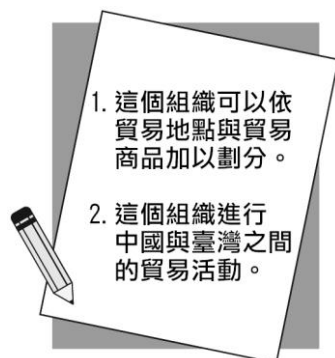
(答案請畫電腦卡)

一、選擇題(共 40 題，每題 2.5 分，總分 100 分)

- () 清領後期，臺灣北部地區適合種植某一經濟作物，加上海外市場反應良好，該作物逐漸成為臺灣最大的出口產品，提升了北臺灣的經貿地位。」請問：文中所描述的作物應該為下列何者？
(A)茶葉 (B)甘蔗 (C)鴉片 (D)香蕉
 - () 臺灣為移民社會，時常出現武力衝突，若以清朝朱一貴事件和林爽文事件為例，其衝突是屬於下列何種性質？
(A)官逼民反 (B)軍人叛變 (C)宗教衝突 (D)漢人與原住民互相仇視
 - () 清朝統治時期，臺灣曾出現一種稱為「郊」的組織，這種組織主要分布在圖中何處？
(A)甲 (B)乙 (C)丙 (D)丁
- 
- () 承上題，這個組織成立的目的是為何？
(A)整合地方宗教，使宗教衝突減低
(B)從事社會公益，扶持相關行業成立
(C)拓展貿易範圍，對外搶奪市場
(D)控制商品價格，維護商人利益
 - () 「當時，一群有相同血緣關係的同姓者，為求聯誼團結，以他們第一代來臺的祖先或其後代為祭祀對象。」上述文字最有助於我們了解下列哪一主題？
(A)原住民的祭典儀式 (B)清領後期的商業組織
(C)清朝統治時期的宗族組織 (D)臺灣開港後的基督教信仰
 - () 有位學者指出：「茶、糖、樟腦的出口總值占全部出口總值之 94%，是造成此時期臺灣出超的主要因素。其中，茶和樟腦由於主要產於山區，不但促進臺灣邊際土地的利用，也加速了邊區的拓展。但拓展結果多少都侵犯了原住民原有的生活領域。」這段話最可能是討論下列何者？
(A)鄭氏的拓墾與海外貿易 (B)渡臺禁令的影響
(C)臺灣開港後的經濟、社會發展 (D)牡丹社事件的結果
 - () 附圖是文彥在臺灣史報告時所用的圖片，依圖片內容判斷，報告的主題最可能是下列何者？
(A)荷西統治與南北開發
(B)臺灣設省與劉銘傳的建設
(C)牡丹社事件的影響
(D)開港後的傳教活動與醫療服務



- () 清朝統治時期，社會動盪不安，當時械鬥頻傳，其主要原因最可能為下列何者？
(A)爭奪土地水源及利益，因而聚眾鬥毆
(B)英國商人與臺灣商人爆發武力衝突
(C)傳教士欺壓百姓引發衝突
(D)原住民生活窮困引發武力抗爭
 - () 下圖為臺灣某時期兩大港口的海關出口值統計圖。由圖中內容判斷，甲港口最可能位於臺灣何處？
(A)北部 (B)中部 (C)南部 (D)東部
- 
- | Year | 甲港口 (茶、樟腦) | 乙港口 (蔗糖) |
|------|------------|----------|
| 1868 | ~50 | ~50 |
| 1873 | ~100 | ~100 |
| 1878 | ~250 | ~150 |
| 1883 | ~200 | ~100 |
| 1888 | ~350 | ~150 |
| 1893 | ~500 | ~200 |
- () 根據歷史記載：「1869 年艋舺是北臺灣最大的商業中心，但到了 1898 年淡水海關報告中登載著——大稻埕人口 31,533 人，艋舺 23,767 人。」請問：這中間發生了什麼事導致這樣的變化？
(A)淡水河氾濫成災 (B)受戴潮春叛亂的影響
(C)艋舺發生瘟疫造成商業沒落 (D)大稻埕成為茶的最大出口集散地
 - () 新竹地區有一重要古蹟「金廣福公館」，是為了紀念十九世紀初客家籍姜秀鑾和閩南籍周邦正，帶領漢人移民拓墾竹北一帶而興建。以上史實，反映何種清領前期的現象？
(A)閩粵械鬥嚴重
(B)漢人採合資方式拓墾土地
(C)漢人與原住民合作開墾番地
(D)漢人自行強占無主地
 - () 德容正在整理歷史重點，她寫下兩個重點，如附圖所示。依重點內容判斷，這個歷史主題為何？
(A)清領時期洋行在臺灣的發展
(B)清領時期的郊商組織
(C)鄭氏時期的貿易政策
(D)荷蘭東印度公司的貿易活動



13. () 「一府二鹿三艋舺」是清領時期臺灣三大貿易港口。請問：「二鹿」是指當時的哪一個地方？
(A)鹿耳門 (B)鹿港 (C)鹿谷 (D)鹿兒島
14. () 清朝將臺灣納入版圖後，漢人陸續移民來臺，當時移居臺灣的漢人大部分來自中國大陸的哪兩省？
(A)福建、廣東 (B)廣東、廣西 (C)河南、河北 (D)江蘇、湖北
15. () 清領時期有許多由「漳州」及「泉州」移民至臺灣的漢人，這些族群當時統稱為何？
(A)閩南人 (B)客家人 (C)原住民 (D)外省人
16. () 古蹟是歷史事件發生的見證，在今臺南市赤崁樓前的記功碑，是乾隆皇帝為紀念福康安平定發生於臺灣的民變而設立的。請問：此場民變為何？
(A)朱一貴事件 (B)林爽文事件 (C)郭懷一事件 (D)戴潮春事件
17. () 小胖正閱讀臺灣歷史，看到其中一段文字描述，如附圖所示。請問：圖中文字最有助於小新了解下列哪一個主題？
(A)荷治時期的漢原衝突 (B)清初的海禁政策
(C)清領時期的械鬥現象 (D)日本武力犯台

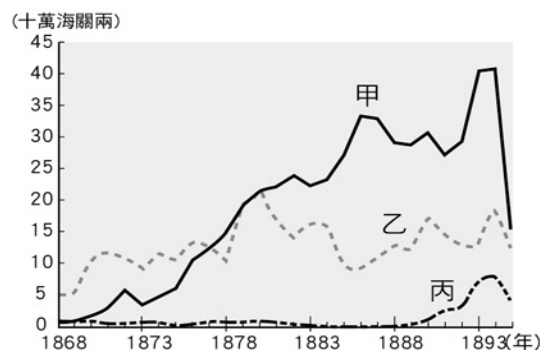
漳州人為保護身家財產，於芝山岩設置隘門，以管制人員出入，並可遠眺侵犯者的動向。

18. () 清領時期，臺灣有「三年一小反，五年一大亂」的說法。而下表是當時所發生的三大民變，若依其發生時間的先後順序排列，下列何者正確？
(A)甲乙丙 (B)甲丙乙 (C)乙甲丙 (D)乙丙甲

甲	林爽文事件
乙	朱一貴事件
丙	戴潮春事件

19. () 天地會相傳為陳永華所創，以反清復明為號召，清領時期在臺灣持續發展。關於天地會的性質和發展，下列敘述何者錯誤？
(A)為民間秘密結盟的組織
(B)易激發反抗官府的民變
(C)有助於社會秩序的安定
(D)林爽文事件與天地會有密切關聯
20. () 澎湖天后宮是臺灣地區最古老的寺廟之一，該廟主祀的神祇在今天已經是臺灣社會最普遍且受重視的信仰對象之一。探究其中的背景，主要是該神祇的屬性，與臺灣早年社會的哪項特性最有關聯？
(A)航海活動盛行 (B)農業是主要經濟活動
(C)醫療落後，瘟疫不斷 (D)遊民眾多，械鬥頻繁

21. () 小莊住在新北市新莊區，平時喜歡逛新莊夜市，一天他走進位於夜市的廣福宮，發現裡面祭拜的神明是早期廣東潮州籍移民的主要信仰。請問：小康造訪的是何種廟宇？
(A)開漳聖王廟 (B)三山國王廟 (C)保生大帝廟 (D)城隍廟
22. () 為了祈求生活與事業平安順利，來自泉州的張老闆在臺灣的住處供奉由原鄉請來的神像。這應該是指哪位神祇？
(A)文昌帝君 (B)三山國王 (C)保儀尊王 (D)保生大帝
23. () 「這種祭祀團體具有同姓共同投資開墾的意涵，主要出現於移民之初，以原鄉較顯赫的同姓祖先為祭祀對象，因此成員間不一定有血緣關係。」請問：上述祭祀團體可歸類為哪種性質的組織？
(A)開臺祖 (B)唐山祖 (C)會黨 (D)洋行
24. () 臺灣有所謂的「有應公廟」，廟中祭祀的多為無主孤魂，由地方善心人士出資興建，進而成為臺灣的民間信仰之一。有應公廟的出現，代表下列何種歷史意義？
(A)社會貧富差距懸殊
(B)清領時期外力入侵頻繁
(C)清領時期臺灣疫病流行
(D)清領初期臺灣民間動亂頻繁
25. () 清領時期，隨著來臺移民的子孫逐漸開枝散葉，人丁愈來愈旺盛，於是開始建祠堂、編祖譜，這時主要的祭祀對象為下列何者？
(A)唐山祖 (B)地藏王菩薩 (C)開臺祖 (D)福德正神
26. () 清領後期有幾場戰爭影響到臺灣，下列哪一場戰爭促使清廷開放臺灣港口，外國勢力正式進入臺灣？
(A)戴潮春事件 (B)清法戰爭 (C)牡丹社事件 (D)英法聯軍
27. () 承上題，當時是開放下列哪些港口？
(A)雞籠、淡水、安平、艋舺
(B)雞籠、淡水、鹿港、打狗
(C)艋舺、淡水、鹿耳門、打狗
(D)雞籠、淡水、安平、打狗
28. () 彰化縣某一港市有著名的「不見天」街屋。據說在清乾隆年間，此地貿易發達，移民多數為經商之富家，這些經商的富家，為免顧客夏日遭受烈日、雷雨之侵，也為了運貨的方便，遂有建築不見天的構想。想要一見這具有特色的街道應到下列何地？
(A)鹿耳門 (B)萬華 (C)鹿港 (D)安平
29. () 佩文看到一張臺灣在清領後期的重要出口商品統計表，如附圖所示，由圖中可知當時最重要的出口商品為甲、乙、丙商品，這三樣商品按照順序來看應該是下列何者？
(A)茶、糖、樟腦 (B)糖、茶、樟腦
(C)樟腦、茶、糖 (D)香蕉、鳳梨、糖



30. () 約翰是十九世紀後期的英國商人，想要採購臺灣的特產商品運往歐洲銷售；經考察後，他決定在靠近

產地的淡水設置貿易據點，以便降低運輸成本。以此研判，約翰最有可能從事何種商品的貿易？

(A)蔗糖 (B)樟腦 (C)稻米 (D)中藥材

31. () 清領後期，臺灣在開港通商後，由於何項物品的大量輸入，造成臺灣人民身體衰弱，精神萎靡？

(A)古柯鹼 (B)鴉片 (C)烈酒 (D)香菸

32. () 臺灣的經濟重心逐漸往北部轉移大約是在何時？

(A)開港通商後 (B)朱一貴事件後
(C)頒布渡臺禁令後 (D)甲午戰爭後

33. () 臺灣史上，被稱為「口腔外科先驅」是何人？

(A)羅慧夫 (B)費正清 (C)狄百瑞 (D)馬偕

34. () 就讀真理大學的小胖在閱讀校史資料時發現，原來母校的前身是理學堂大書院，成立於西元1882年。依此判斷，真理大學應該是位於現今何處？

(A)高雄左營 (B)臺南安平 (C)新北市淡水
(D)臺北大稻埕

35. () 臺灣史上有一種人，因為精通多種語言，在臺灣開港後，深受外商信任，經手多項業務，累積可觀的財富，這些人通常被稱為？

(A)通事 (B)巡撫 (C)總督 (D)買辦

36. () (甲)曹公圳 (乙)瑠公圳 (丙)八堡圳 (丁)貓霧揀圳。上述早期臺灣的水利工程，依其位置由南而北加以排列，下列何項正確？

(A)甲丙丁乙 (B)乙甲丙丁 (C)乙丁丙甲
(D)丙乙丁甲

37. () 「引水灌溉彰化一帶平原，其灌溉面積一萬二千餘甲地，涵蓋一半以上的彰化縣域，以及十四個鄉鎮市，堪稱孕育著彰化大地的母親河。」上文所指為下列哪一水利工程？

(A)曹公圳 (B)八堡圳 (C)貓霧揀圳
(D)瑠公圳

38. () 承上題，此一水圳是利用哪一條河灌溉？又是誰主持開鑿工程？

(A)高屏溪、施琅 (B)曾文溪、施世驤
(C)大甲溪、施世綸 (D)濁水溪、施世榜

39. () 十八世紀，臺灣漢人張達京與平埔族合作興建一座水圳，這是指下列何者？

(A)八堡圳 (B)曹公圳 (C)貓霧揀圳
(D)瑠公圳

40. () 若校外教學想要參觀瑠公圳的遺跡，可以到下列哪所大學參訪？

(A)國立清華大學 (B)國立臺灣大學
(C)國立成功大學 (D)國立政治大學