

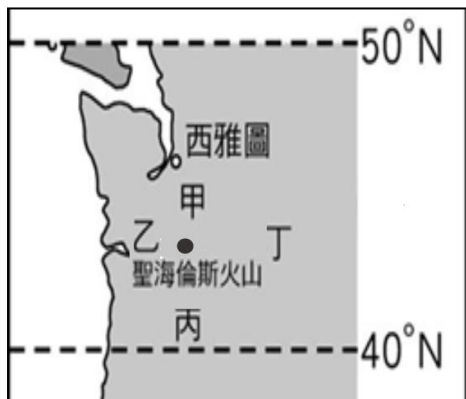
臺北市立誠正國中 108 學年度第一學期九年級地理科第三次段考試題

範圍：地理第五冊 單元 5~6

班級：____ 座號：____ 姓名：_____

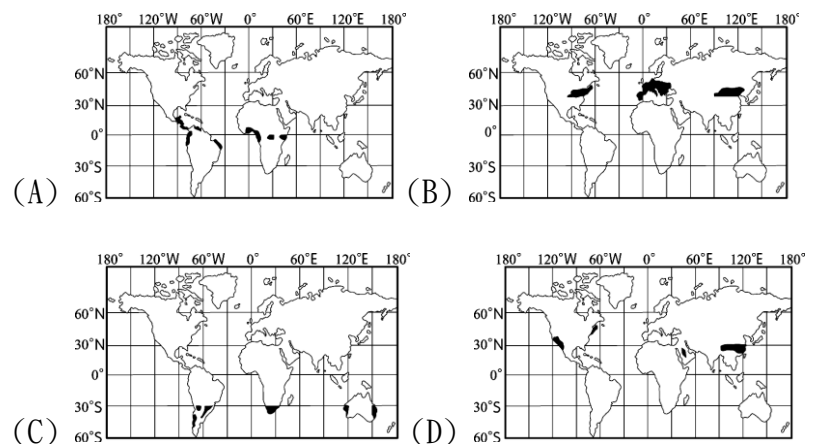
一、選擇：(每題 2 分)

- 紐約時代廣場已經在跨年倒數，洛杉磯卻還得再等上三個小時才跨年，形成這種差異的主要原因為何？(A)美國位居中緯度地區(B)美國氣候多樣(C)美國族群眾多(D)美國東西幅員廣
- 十六世紀以來，中南美洲的語言、文化受拉丁文化影響，因此又被稱為「拉丁美洲」，巴西曾經是何國的殖民地？(A)法國(B)西班牙(C)義大利(D)葡萄牙
- 下圖為美國境內落磯山脈的聖海倫斯火山位置圖，若有一天火山爆發，依據火山所在的位置研判，火山灰大部分將會吹向圖中的哪一方向？(A)甲(B)乙(C)丙(D)丁



- 聖保羅、布宜諾斯艾利斯到處可見擁擠的人潮及貧民區，和世界其他大都市欣欣向榮的景象不同。同樣都市化程度高，景象卻不同，其原因為何？(A)鄉村經濟蕭條，推力強大所致 (B)政府政策鼓勵移入都市所致 (C)都市交通便利，吸引人口聚集所致(D)都市工商業發展，拉力太強所致
- 敏誠上網找加拿大的資料，但是太累以致於從網路上複製下來時有錯，請幫他保留正確者(A)首都溫哥華亦是華人主要的分布區之一(B)早期德、法移民，造成現今為雙語系國家(C)法裔為主的魁北克省曾以公民投票表決爭取獨立(D)主要工業區在哈德孫灣沿岸
- 小涵利用假期參加「魅力極光八日遊」，主要的行程有參觀北方極地博物館、狗拉雪橇大賽等，更可以到安克拉治欣賞難得一見的極光美景，小涵去的是何處？(A)阿拉斯加(B)洛杉磯(C)夏威夷(D)芝加哥
- 南美洲的東南端形成溫帶沙漠氣候區。造成此氣候的主因為何？(A)位於信風背風坡、距海遙遠(B)位於東風背風坡、暖流經過(C)位於西風背風坡、寒流經過(D)位於西風背風坡、距海遙遠
- 加拿大、美國、墨西哥等三個國家共同簽訂了「北美自由貿易協定」(NAFTA)，在跨國經濟體的產業分工上，美國主要提供何種優勢(甲)勞力(乙)資金(丙)原料(丁)技術，以利鄰近國家設置工業區，期望可提升國際競爭力與區域經濟的合作？(A)甲乙(B)乙丙(C)丙丁(D)乙丁
- 安地斯山北段的山間盆地，是人口、都市集中的精華區，其原因為何？(A)戰略考量(B)氣候涼爽(C)腹地廣大(D)水源充足
- 1872 年成立的黃石公園是世界第一座國家公園，其以溫泉、間歇噴泉聞名於世。這個現象與下列哪個事實關係密切？(A)西風終年吹拂(B)四周山地高聳(C)緯度位居中緯度(D)居板塊交接帶上

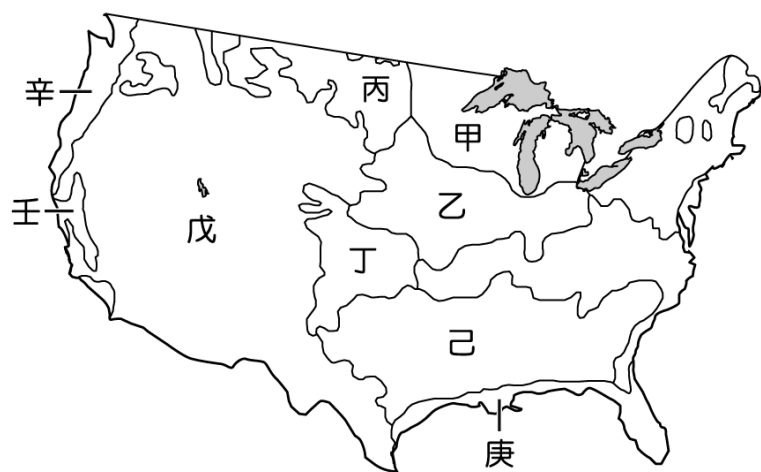
- 阿宇到南美洲某個國家因為所跨的緯度極大，在當地由低緯到高緯，依序看到沙漠、葡萄園、峽灣，此國家為？(A)秘魯 (B)智利 (C)墨西哥 (D)巴西
- 世界知名童話〈綠野仙蹤〉裡，陶樂絲和叔叔、嬸嬸住在堪薩斯州的大草原上，因為被龍捲風捲走，到了不知名的地方，和稻草人、獅子、機器人展開一場奇幻的旅程。本故事的開頭應是在什麼時節？(A)冬末春初 (B)秋末冬初 (C)春夏之交 (D)夏秋之交。
- 瑋婷在複習地理遇到到一些問題，就找佳芸和明霓一起複習。請判斷根據她們討論的內容正確與否。瑋婷：「南美洲沒有溫帶大陸性氣候，為什麼？」佳芸：「因為南美洲陸塊輪廓北寬南窄，中緯度地區陸塊不夠大。」明霓：「對阿！而且中緯度地區的人口集中區跟低緯度地區不一樣。」瑋婷：「我知道中緯度地區多分布在東南沿海，那低緯度呢？」佳芸：「低緯度地區也分布在東南沿海啊！」明霓：「我忘了，我查一下課本…」(A)討論的內容都正確無誤(B)佳芸都說對了，明霓不必查課本(C)佳芸說錯低緯度的人口分布(D)討論的內容都錯誤。
- (甲)規模小(乙)商業化(丙)機械化(丁)自給自足(戊)粗放農業(己)集約農業。北美農民的農業屬於專業化經營方式，上列哪些屬於它的經營特色？(A)甲丁己 (B)丙丁戊 (C)乙丙戊(D)丁戊己
- 種植單一作物可節省支出、降低生產成本，但也容易產生哪些問題？(A)二氧化碳的排放量增加(B)土壤鹽鹼化的機會增加(C)農場工人工作時數增加(D)國際價格影響程度增加
- 國際組織內的會員國常會利用各自的優勢，以分工的方式進行生產活動，例如加入歐盟後的東歐各國，透過低廉的勞力等優勢，成為歐盟的「組裝基地」。相較於歐盟，北美自由貿易區中的哪一個國家，所扮演的角色與東歐各國類似？(A)巴西(B)墨西哥(C)美國(D)加拿大
- 北美洲與中南美洲在自然環境方面互有異同，下列哪項特徵是兩區共同的地理現象？(A)印第安人為主要原住民(B)領土有極圈通過(C)橫跨南北半球(D)地形破碎島嶼眾多
- (甲)加劇溫室效應 (乙)許多動植物面臨滅絕 (丙)增加全球二氧化碳的濃度 (丁)加速臭氧層的破洞。近年來，巴西政府大規模開發亞馬孫河流域，此一舉動不僅對巴西國內產生影響，也將導致全球性的問題，上述正確的有哪些？(A)甲乙丙 (B)甲乙丁 (C)甲丙丁 (D)乙丙丁
- 「熱巧克力是受大眾喜愛的飲料，它濃郁的口感與香氣，易使人產生幸福的感覺。巧克力的原料「可可」，屬於熱帶栽培業作物。」文中提到的原料，依其生長條件判斷，最可能分布於下列哪一幅圖標示的區域中？



20. 美國東北部經五大湖南側至密西西比河流域一帶和加拿大東南部的聖羅倫斯河谷地是北美洲最早發展的工業帶，也是目前世界主要的工業分布密集區之一。(甲)工業原料豐富(乙)交通運輸便利(丙)勞動人口充足(丁)土地租稅優惠，上列哪些是其工業發展的主要有利條件？(A)甲丙丁(B)乙丙丁(C)甲乙丁(D)甲乙丙
21. 十五世紀時哥倫布為了尋找通往亞洲的新航線，橫渡大西洋後抵達美洲，哥倫布以為到了印度，便將該地命名為「西印度群島」。請問「西印度群島」位於哪個海域？(A)愛琴海(B)地中海(C)加勒比海(D)波羅的海
22. 礦產輸出是中南美洲許多國家的重要收入，其中委內瑞拉最主要的輸出礦產為何？(A)鐵礦(B)銅礦(C)石油(D)鋁土
23. 之尹以無動力船順著南美的東南沿海由巴西一路航行到阿根廷，沿途停靠在許多港埠型的都市休息並做記錄，下列哪個城市不會出現在她的紀錄上？(A)聖保羅(B)巴西利亞(C)里約熱內盧(D)布宜諾斯艾利斯

二、題組：(每題 2 分)

※ 美臺的商業貿易往來十分頻繁，其中美國許多農牧產品進口至國內銷售且廣受歡迎。請依下圖回答問題：



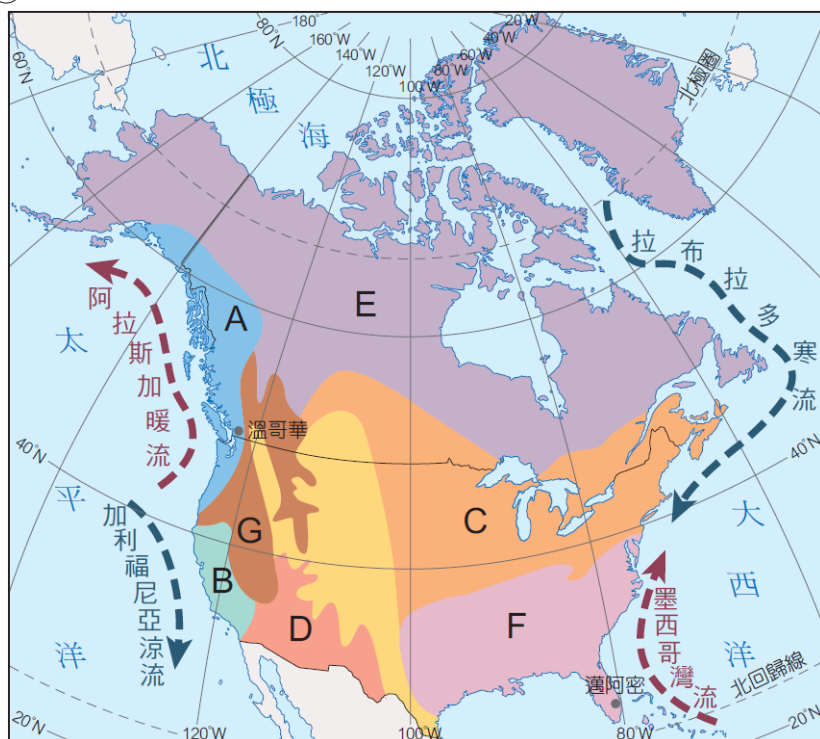
24. 美國牛肉為臺灣重要的進口肉品，美國的畜牧業主要分布於圖中何處？(A)乙(B)丙(C)戊(D)己
25. 美國以商業性生產方式，各地區皆有其特殊產物。請問：圖中丁區的主要產物為下列何者？(A)咖啡(B)小麥(C)乳酪(D)棉花
26. 美國境內的傳統工業以充足的水力提供工業所需的動力資源，再加上礦藏的開採，因此以鋼鐵、機械等傳統重工業為主。請問：其主要分布地區以圖中何處為主？(A)甲(B)丁(C)己(D)戊
27. 棉花生產主要分布在氣候溫暖、乾溼分明的地區，以免採收時受到水氣侵襲。圖中的哪一個區域最適合棉花的生產條件？(A)壬(B)戊(C)己(D)甲
28. 美國酪農帶主要分布在五大湖區周邊一帶，其原因和下列哪一項最為相關？(A)臨近市場(B)土地廣闊(C)勞力充足(D)地價便宜

※ 小恩到書店看到某雜誌介紹巴西的風土民情，覺得相當有趣，請回答下列問題：

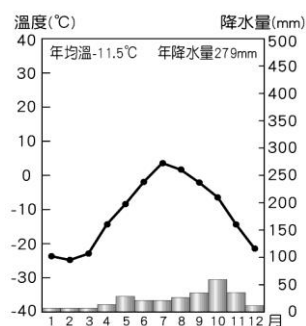
29. 小恩看完書很嚮往巴西，決定訂機票前往里約熱內盧（45°W）參加嘉年華會，小恩於臺北時間2月14日下午2點到達里約熱內盧，請問當地為幾號幾點？(A)2月15日早上9：00(B)2月14日凌晨3：00(C)2月14日晚上11：00(D)2月15日下午6：00
30. 文中描述巴西盛產甘蔗、咖啡、香蕉等產物，下列哪一個國家外銷的產物也與巴西相同？(A)加拿大(B)印尼(C)葡萄牙(D)伊拉克

※ 小童預計暑假時，要到美洲觀光旅遊，出發之前，小桐想對美洲的國家、地形、氣候有基本的了解。請依據美洲相關主體地圖，回答下列問題：

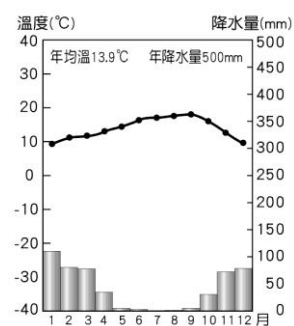
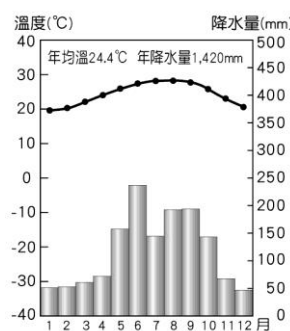
①



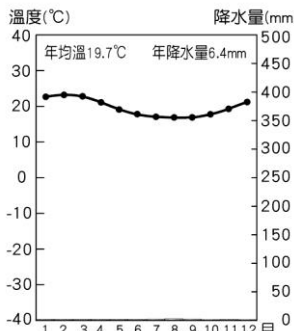
31. 1912年的鐵達尼沉船事件，是受到哪股洋流帶來高緯度的冰山影響造成？(A)墨西哥灣流(B)拉布拉多寒流(C)阿拉斯加暖流(D)加利福尼亞涼流
32. 小童想看到永晝的景觀，請問：她應該前往何處？(A)E(B)F(C)G(D)D
33. 美國加州的矽谷因為優越的溫帶地中海型氣候，聚集許多的高科技廠商，已成為美國境內的主要經濟發展來源。請問：這個高科技工業園區位於圖中的哪一個地區？(A)A(B)B(C)E(D)F
34. 溫帶海洋性氣候溫和溼潤，全年有雨、年溫差小、相當適宜人居，分布位於圖中何處？(A)A(B)B(C)C(D)D
35. 圖中的E為寒帶氣候分布範圍，東部沿海位於50°N 以北地區，而西部沿海則位於60°N 以北地區，造成此種分布差異的主要影響因素為何？(A)雨量多寡(B)地勢高低(C)盛行風向(D)洋流性質
36. 下列的哪張氣候圖，所代表的氣候最不可能出現於北美？(A) (B)



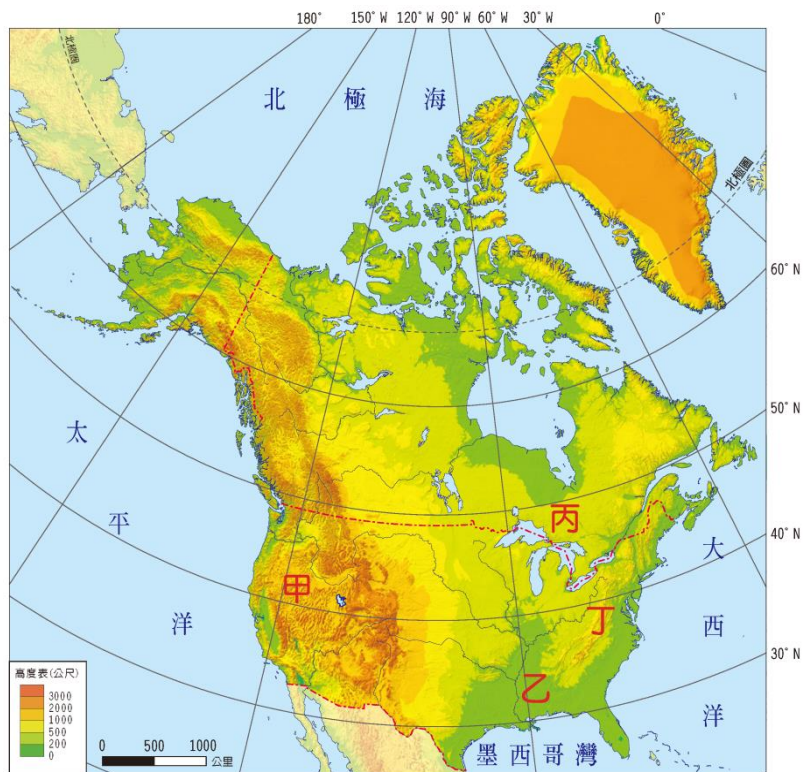
(C)



(D)

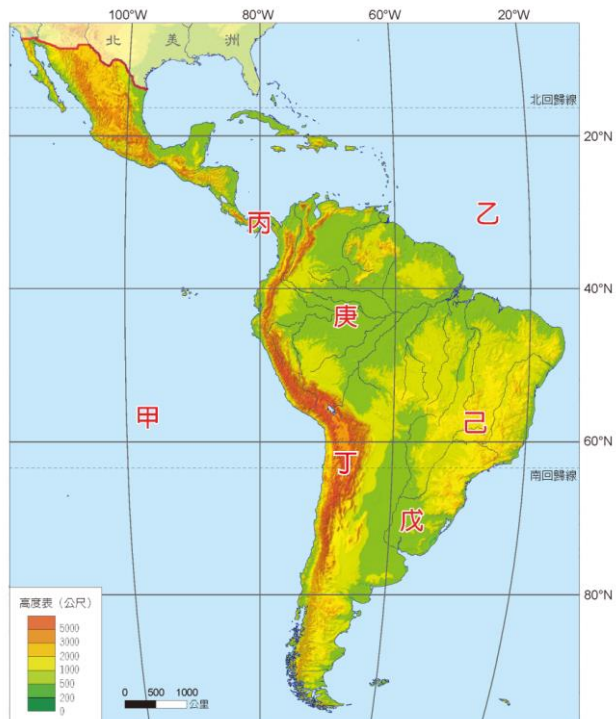


②



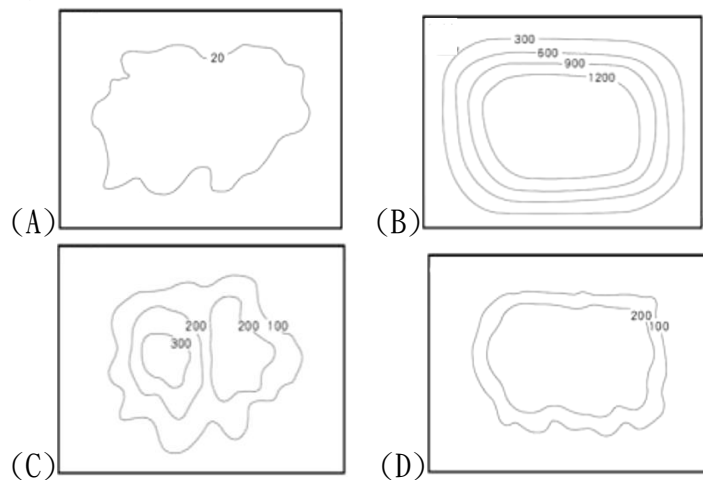
37. 美國境內哪一個地區位於環太平洋火山地震帶上，因此容易出現地震活動，常造成生命財產的損失？(A)甲(B)乙(C)丙(D)丁
38. 乙區主要是由河川沖積的平原區，南側有世界上最大的三角洲。請問：此三角洲是哪條河川沖積而成？(A)育空河(B)聖羅倫斯河(C)密西西比河(D)科羅拉多河
39. 丙區是世界上最大的淡水湖群，請問此湖群形成主要原因為何？(A)河流侵蝕(B)斷層陷落(C)冰河侵蝕(D)人工湖泊

③

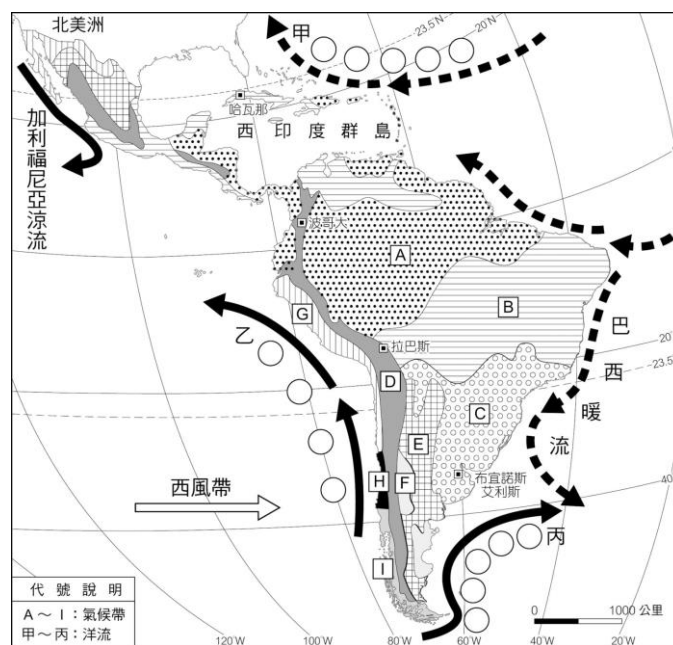


40. 古印加文明位於安地斯山脈中，其氣溫隨高度呈垂直變化。古印加文明位於圖中何區？(A)乙(B)丙(C)丁(D)戊
41. 丙為世界上唯一的聯洋運河，請問甲、乙分別為什麼海洋？(A)印度洋、太平洋(B)太平洋、大西洋(C)大西洋、印度洋(D)大西洋、太平洋
42. 丁是世界陸地上最長的山脈，也是中南美洲的地形脊梁，請問是下列哪一座山脈？(A)喜馬拉雅山(B)安地斯山脈(C)落磯山脈(D)阿爾卑斯山脈
43. 戊是阿根廷主要的農牧區，請問是哪一個地區？(A)彭巴草原(B)巴塔哥尼亞高原(C)亞馬孫盆地(D)圭亞那高地

44. 庚有世界流量最大、流域面積最廣的河川流貫其中，請問是下列哪一河川？(A)密西西比河(B)聖羅倫斯河(C)拉布拉他河(D)亞馬孫河
45. 上圖中的己為巴西首都的所在地，其所屬的地形為下列何者？



④



46. 圖中的甲乙丙為影響中南美洲氣候的洋流，請問：下列選項中，何者分類是正確的？(A)甲、丙皆為寒流(B)甲、乙皆為暖流(C)甲為暖流、乙為涼流(D)甲為涼流、丙為寒流
47. 圖中的乙為哪一股洋流？(A)阿拉斯加暖流(B)福克蘭寒流(C)北大西洋暖流(D)秘魯涼流
48. 巴西首都巴西利亞位於B區，屬於哪種氣候類型？(A)夏雨型暖濕氣候(B)熱帶雨林氣候(C)溫帶地中海型氣候(D)熱帶莽原氣候
49. (甲)西風(乙)暖流(丙)赤道低壓(丁)副熱帶高壓。H區夏季乾燥、冬季多雨，主要受上述哪兩個因素影響？(A)甲丁(B)甲丙(C)乙丁(D)乙丙
50. 根據氣候圖的氣候資料，判斷該氣候最有可能出現在上圖中何處？(A)A(B)B(C)E(D)I

