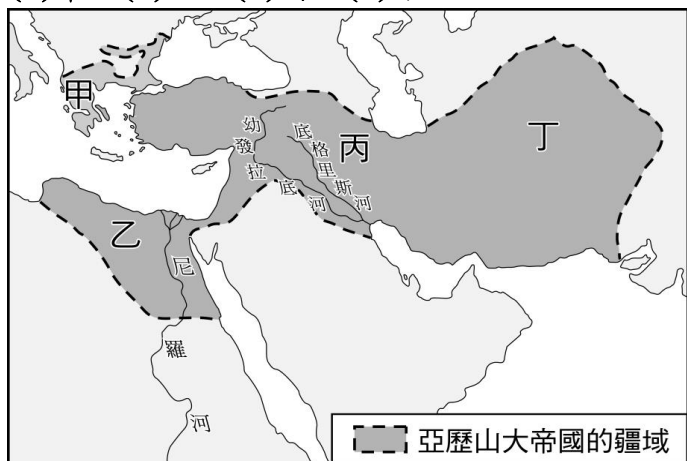


一、單選題：(1~50題，每題2分，總分100分)

1. () 亞歷山大帝國是歷史上第二個橫跨歐、亞、非三洲的大帝國。請問：亞歷山大帝國的發源地馬其頓，位在附圖中的何處？

(A)甲 (B)乙 (C)丙 (D)丁



2. () 承上題，歷史上第一個橫跨歐、亞、非三洲的大帝國是下列何者？

(A)羅馬帝國 (B)西羅馬帝國 (C)東羅馬帝國
(D)波斯帝國

3. () 西亞某個民族精於航海貿易，活動範圍遍及地中海海域，請問這個民族應是下列何者？

(A)猶太人 (B)希臘人 (C)波斯人 (D)腓尼基人

4. () 古代西亞某一宗教崇拜光明，他們相信世上有善神和惡神，也相信邪不勝正。請問：這應是哪個宗教的特色？

(A)佛教 (B)祆教 (C)猶太教 (D)印度教

5. () 《聖經·創世紀》曾經提到上帝花六天時間創造世界，第七天休息，成為日後基督教國家一週七天制的由來，請問：基督教一週七天制的構想是受到下列哪一民族的影響？

(A)蘇美人 (B)埃及人 (C)加爾底亞人
(D)波斯人

6. () 若要研究耶穌及其門徒的生平事蹟，應該要參考下列哪一部作品？

(A)《新約聖經》(B)《舊約聖經》
(C)《理想國》(D)《希臘神話》

7. () 電影《出埃及記》描寫摩西帶領猶太人逃離埃及，途中他得到上帝協助分開紅海隔離追兵，最後成功逃出埃及。請問：關於猶太人宗教之敘述，下列何者正確？

(A)聲稱自己為上帝的選民 (B)堅定信奉祆教
(C)以阿拉為唯一真神 (D)對佛教與印度教有深刻影響

8. () 關於西方文明大致的起源與傳播途徑，下列哪一張地圖的表示內容較為正確？

(A)



(B)



(C)



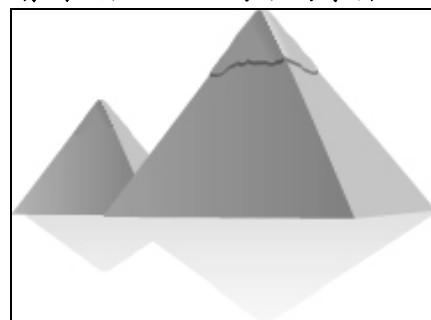
(D)



9. () 希臘的帕德嫩神廟是為了紀念哪一位神明所建立？

(A)雅典娜(Athena) (B)阿波羅(Apollo)
(C)波塞頓(Poseidon) (D)宙斯(Zeus)

10. () 佩文寒假時出國旅遊，參觀了下图的巨大建築物。請問：佩文該如何跟同學介紹這個建築物的歷史？



(A)蘇美人存放食物的穀倉
(B)羅馬人戰勝的紀念碑 (C)猶太人聚會的場所
(D)埃及法老死後的陵寢

11. () 志堅到埃及旅遊，一路上領隊熱心為他講解埃及主要的景點。請問：志堅在這趟旅遊中最可能聽到哪些故事？

(A)埃及法老以尼羅河神象徵其權力的來源
(B)人死後亡魂須接受尼羅河神的審判
(C)古埃及在法律與占星學上極有成就
(D)金字塔主要是在新王國時期建立

12. () 下列關於亞里斯多德的敘述，何者錯誤？

(A)他與蘇格拉底和柏拉圖被稱為希臘三哲人
(B)他著有《幾何原本》，對後世影響深遠
(C)他曾擔任亞歷山大大帝的老師

(D)強調「吾愛吾師，但吾更愛真理」

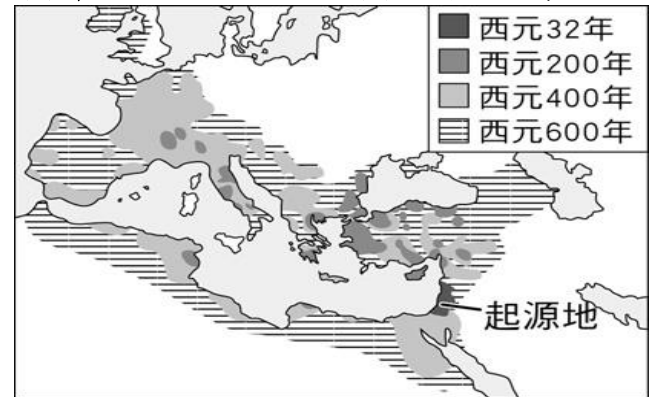
13. () 關於奧林匹亞運動會的敘述，下列敘述何者有誤？
(A)起源於希臘城邦 (B)是現代奧運會的起源
(C)為了慶祝亞歷山大大帝東征勝利而成立
(D)為讚美天神宙斯(Zeus)而舉行
14. () 南歐巴爾幹半島地形崎嶇，使得古希臘城邦獨立發展，各城邦文化差異甚大，下表為雅典與斯巴達的比較，請找出何者有誤？

項目	雅典	斯巴達
(A)	農業	商業貿易
(B)	民主	軍國主義
(C)	公民參與	紀律服從
(D)	文化藝術 豐富	戰鬥實力 堅強

15. () 下列關於希臘古典文化與希臘化文化的比較，何者正確？
(A)前者以科學最有成就，後者文史藝術哲學發達
(B)前者為大一統帝國，後者屬於城邦政體
(C)兩者皆曾施行過民主政治
(D)前者源於愛琴海文明，後者融合希臘、埃及與西亞地區的文明
16. () 下列何人發現槓桿、浮力原理，奠定物理學的基礎？
(A)歐幾里德 (B)阿基米德 (C)畢達哥拉斯
(D)亞里斯多德
17. () 電影「亞歷山大」曾引起正反兩極的反應，有人認為戰爭場面壯觀，有人則不滿片中對同性戀的描述。請問：電影若要符合史實，劇情最不可能出現下列哪一情節？
(A)亞歷山大東征七年，最遠抵達恆河流域
(B)亞歷山大向部屬宣導「世界一家」的觀念
(C)亞歷山大東征滅波斯帝國，迎娶波斯公主
(D)亞歷山大在帝國境內建立希臘化城市
18. () 亞歷山大帝國雖然分裂，但「希臘化文化」的榮光仍然在世界史上璀璨閃耀。其中以托勒密王國的亞歷山卓城，學術風氣鼎盛。請問：托勒密王國位於何處？
(A)兩河流域 (B)印度恆河 (C)馬其頓 (D)埃及
19. () 《伊斯坦堡：一座城市的記憶》為知名作家帕慕克的作品，曾獲得西元2005年諾貝爾文學獎，帕慕克以細膩的筆觸描寫這座輝煌與慘淡並陳的千年古都。請問：下列對伊斯坦堡敘述何者正確？
(A)伊斯坦堡最早由亞歷山大大帝所擴大修建
(B)羅馬帝國晚期，改名為君士坦丁堡
(C)羅馬帝國分裂後，伊斯坦堡為西羅馬帝國首都
(D)伊斯坦堡位於伊比利半島上，地形易守難攻
20. () 「定罪須以條文為準，在未確立一個人有罪前，當事人都是無罪的。」這個我們耳熟能詳的「無罪推定」觀念，最早可在哪一法典中找到？
(A)《摩西十誡》 (B)《漢摩拉比法典》
(C)《十二表法》 (D)《查士丁尼法典》
21. () 羅馬共和政體建立初期，政治大權由下列哪個機構所掌握？
(A)參議院 (B)議會 (C)立法院 (D)元老院
22. () 請問「羅馬和平」是出現在羅馬的哪一個時期？
(A)帝國時期 (B)共和時期 (C)王政時期
(D)君士坦丁在位時期
23. () 恩琦在課堂上報告：「此人是羅馬『帝國時期』創始者，被尊稱為奧古斯都，奠定了帝國盛世的基

礎。」她應該是在描述哪一個歷史人物？

- (A)屋大維 (B)亞歷山大 (C)君士坦丁
(D)凱撒
24. () 羅馬帝國的君士坦丁大帝有許多作為，對後世影響甚大。請問：下列哪些事件與君士坦丁有關？
(甲)基督教被立為國教 (乙)帝國正式分裂為東、西兩部 (丙)使基督教成為合法宗教 (丁)擴建拜占庭為新都並為其改名
(A)甲乙 (B)甲丁 (C)乙丙 (D)丙丁
25. () 下圖描繪某一重要史事演變及擴展的過程，根據年代與分布範圍的改變判斷，此圖片的主題最可能是下列何者？
(A)羅馬帝國的擴張 (B)日耳曼民族的遷徙
(C)希臘化文化的發展 (D)基督教的傳播



26. () 歐洲的英國、法國、西班牙及義大利，今日各有不同文化。但在歷史上，這些國家曾同在下述哪一帝國的統治之下？
(A)羅馬帝國 (B)波斯帝國 (C)亞歷山大帝國
(D)東羅馬帝國
27. () 下圖為冠儀出國旅遊時，所聽到的對話內容：



請問：冠儀所參訪的國家，主要信奉哪個宗教？

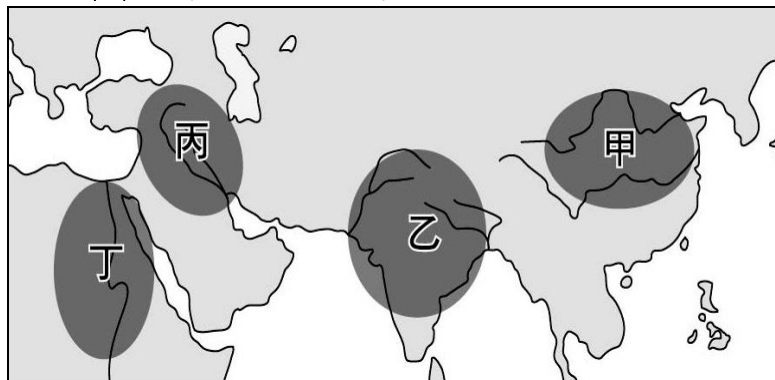
- (A)基督教 (B)印度教 (C)佛教 (D)伊斯蘭教
28. () 立文對凱撒的事蹟充滿好奇；如果他想多了解凱撒的生平，下列哪本書最適合他閱讀？
(A)《木馬屠城記》 (B)《羅馬共和衰亡史》
(C)《耶穌基督的生平》 (D)《希臘化文化的源由》
29. () 考古學家發現某一碑文刻有防守帝國疆域的軍團名稱，經研究確認碑文上的軍團分別駐紮於今日英國、西班牙、埃及、敘利亞等地，以及多瑙河、萊因河沿岸。該碑文應是記錄下列哪一帝國的軍團？
(A)二世紀的羅馬帝國 (B)五世紀的西羅馬帝國
(C)八世紀的東羅馬帝國 (D)西元前五世紀的波斯帝國
30. () 下圖是呈現某古代文明政治運作特色的示意圖，此古文明最可能是下列何者？
(A)羅馬 (B)埃及 (C)斯巴達 (D)雅典



31. () 文字的使用為古文明的特色之一。下列對於各古文明文字的敘述，何者錯誤？
 (A) 巴比倫人發明楔形文字，在西亞地區廣為流傳
 (B) 中國的甲骨文是今日漢字的源流
 (C) 圓周率的符號 π 是希臘文字母
 (D) 腓尼基人改良埃及文字，成為歐洲拼音文字的源頭
32. () 在古代西亞地區，最早使用鐵器的是哪一民族？
 (A) 波斯人 (B) 巴比倫人 (C) 猶太人 (D) 西臺人
33. () 承上題，臺灣與中國分別從何時開始使用鐵器？
 (A) 卑南文化、唐朝 (B) 圓山文化、商朝
 (C) 長濱文化、漢朝 (D) 十三行文化、春秋晚期
34. () 英文 Democracy 源自於希臘文，中文翻譯為「民主」請問：民主的觀念大約是在何時介紹到中國？
 (A) 自強運動 (B) 百日維新 (C) 十年建設
 (D) 新文化運動
35. () 承上題，民主思想傳入中國，逐漸受到知識份子重視，下列何人扮演重要推手？
 (A) 魯迅 (B) 孫中山 (C) 胡適 (D) 宋教仁

題組一

四大古文明運用其先天的優勢環境，加上後天人為的努力，奠定了人類最早的文明基礎，並在宗教、科技、政治上等各個領域取得高度的成就，其影響力依舊滲透當今世界。請看地圖回答 36~39 題：



36. () 下列哪一個民族原先定居於高加索山一帶，後來入侵圖中乙地區，征服當地土著並建立新政權？
 (A) 波斯人 (B) 阿利安人 (C) 羅馬人
 (D) 西臺人
37. () 制定「陰曆」和「六十進位法」的民族，位於圖中何處？ (A) 甲 (B) 乙 (C) 丙 (D) 丁
38. () 若要參觀金字塔或獅身人面像，應該到圖中何處？
 (A) 甲 (B) 乙 (C) 丙 (D) 丁
39. () 某一地區的古文明有嚴格的社會階級，此地區在數學方面，發展出「零」的概念以及阿拉伯數字，此地區最可能位於圖中何處？
 (A) 甲 (B) 乙 (C) 丙 (D) 丁

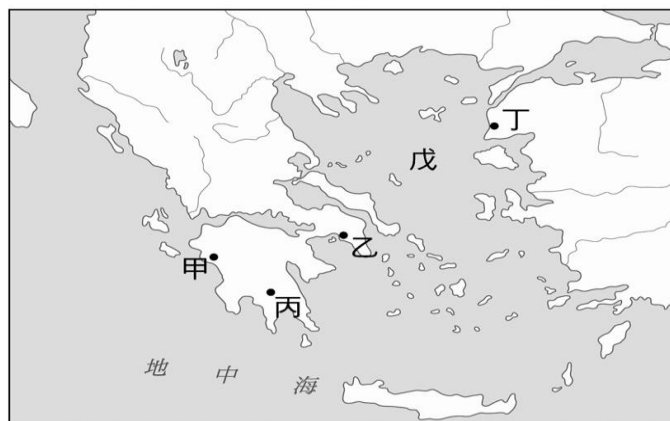
題組二

他是某個王國的王子，屬於貴族階級。青年時的他養尊處優，但他愈來愈不滿於世俗奢侈的生活。29 歲時他出城巡視，分別遇見一老者、一病患、一具往生者的遺體和修道者，他有感於人世間生老病死，決心出家探索解脫人生痛苦之道，後來他在菩提樹下悟道，開創了新宗教。請回答 40~42 題：

40. () 這位在菩提樹下悟道的王子是下列何人？
 (A) 耶穌 (B) 阿育王 (C) 漢摩拉比
 (D) 喬達摩·悉達多
41. () 最後這位王子創立了哪個新的宗教？
 (A) 佛教 (B) 祆教 (C) 印度教 (D) 婆羅門教
42. () 承上題，該宗教大約在何時經由絲路傳入中國？
 (A) 南北朝 (B) 西漢晚期 (C) 戰國時期
 (D) 唐代

題組三

附圖為希臘文明的發源地，請回答 43~46 題：



43. () 愛琴海海域在希臘歷史上扮演重要的角色，是希臘文明的源頭，請問：愛琴海文明以哪兩個地區為代表？
 (A) 克里特島、邁錫尼 (B) 雅典、斯巴達
 (C) 馬其頓、羅德島 (D) 耶路撒冷、羅馬
44. () 著名的特洛伊木馬屠城記發生在圖中何處？
 (A) 甲 (B) 乙 (C) 丙 (D) 丁
45. () 承上題，若想要了解特洛伊戰爭的英雄人物，如阿基里斯(Achilles)、奧德修斯(Odysseus)等人的事蹟，必須參考哪些作品？
 (A) 《理想國》、《神曲》
 (B) 《羅馬史》、《十日談》
 (C) 《伊里亞德》、《奧德賽》
 (D) 《羅蘭之歌》、《奧賽羅》
46. () 世界上最早的民主政治發源地在圖中何處？
 (A) 甲 (B) 乙 (C) 丙 (D) 丁

題組四

電影《斯巴達三百壯士》讓人熱血沸騰，這部電影是以溫泉關之役為題材，描述斯巴達國王雷奧尼達率領三百名勇士英勇抗敵，最後集體殉難的故事。請回答 47~48 題：

47. () 該部電影主要是以哪一場戰爭為時代背景？
 (A) 亞歷山大東征 (B) 布匿克戰爭
 (C) 高盧戰役 (D) 波希戰爭
48. () 承上題，若想要對該戰役有更深入的理解，應該參考下列何人的作品？
 (A) 荷馬 (B) 蘇格拉底 (C) 希羅多德 (D) 凱撒
49. () 羅馬帝國的全盛時期，時間相當於中國歷史上的漢朝，請問：當時的中國是如何稱呼羅馬帝國？
 (A) 大秦 (B) 貴霜 (C) 大食 (D) 天竺
50. () 羅馬帝國的衰亡一般認為與日耳曼民族入侵有關，但是迫使日耳曼民族大遷徙的動力卻是來自亞洲，請問是哪一個亞洲民族壓迫日耳曼民族，迫使其南遷？
 (A) 突厥人 (B) 蒙古人 (C) 匈奴人 (D) 鮮卑人