

臺北市立誠正國中 108 學年度第一學期 九年級地理科 第一次定期考查試題

範圍：地理第五冊 單元 1~2

年

班 座號

姓名

一、選擇題(25 題，每題 2 分，共 50 分)

1. () 歐洲被譽為最得天獨厚的一洲，全境無沙漠，氣候溫和，下圖的甲和乙的年均溫差不多，請問造成此種優勢的原因為何？(甲)距離赤道低壓帶遙遠 (乙)外海有北大西洋暖流經過 (丙)緯度介於北緯 40 度~60 度的西風帶 (丁)沒有新褶曲山地的分布。



(A)甲乙 (B)丙丁 (C)乙丙 (D)乙丁。

2. () 地震災害對人類來說是個無情的噩夢，根據西亞地區的地質特色判斷，下列何處是發生地震可能性最大的地區？(A)美索不達米亞平原 (B)阿拉伯高原 (C)波斯灣沿岸 (D)阿富汗高原。

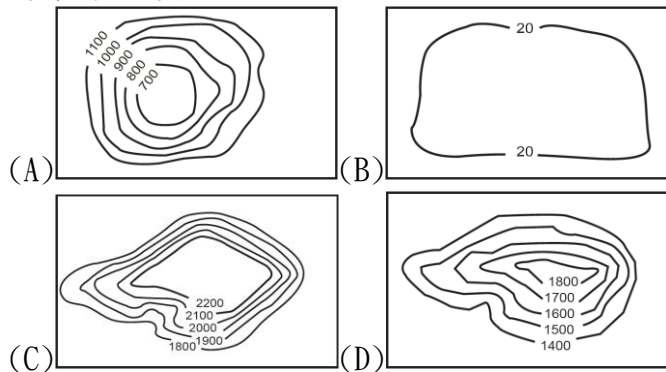
3. () 歐洲地區有不少地形都跟冰河有關，請問下圖中哪個地區有冰蝕形成的峽灣地形，利於航運與漁業的發展？(A)丁 (B)丙 (C)乙 (D)甲。



4. () 聖經故事中，摩西率領希伯來人穿越此處，到達所謂的「應許之地」，其實以前並沒有這個海域的存在，是後來因板塊運動陷落而分離。請問：西亞與非洲之間是哪個海域？(A)黑海 (B)地中海 (C)阿拉伯海 (D)紅海。

5. () 歐洲物產豐饒，其中的歐洲大平原可是功不可沒，但下列哪個地區並非位於大平原的範圍內？(A)歐俄平原 (B)義大利波河平原 (C)德國北部平原 (D)法國北部平原。

6. () 中亞的地形也間接影響氣候的發展，請問下列等高線圖誰是中亞的地形主體？



7. () 西亞部分地區雖深受伊斯蘭教的影響，甚至有些國家籠罩在恐怖主義的陰影下，但近年來開始慢慢改變價值觀，請問下列何者正確？(A)半島電視台禁止轉播他國時事新聞 (B) 2015 年地方市議會開放女性有投票權 (C)強烈限制各國女性必須完全遮蔽臉部才能出門 (D)不再販售西方

各國的高端精品。

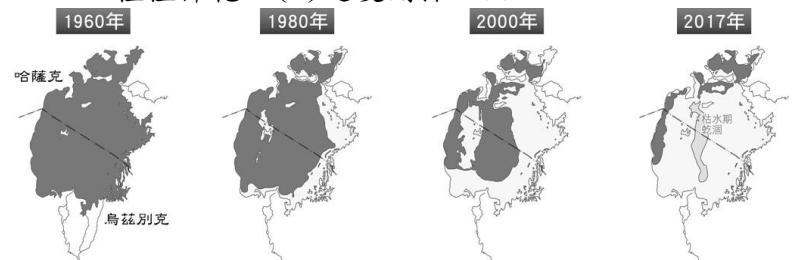
8. () 地理老師上課介紹到冰河地形時，有特別解釋大陸冰河跟山岳冰河的不同，請問下列比較表格何者錯誤？

選項	甲中心	乙特色	丙影響	丁分布
大陸冰河	北歐	都有 U 型谷	面積大	高海拔
山岳冰河	南歐	都有 U 型谷	面積小	高緯度

(A)甲 (B)乙 (C)丙 (D)丁。

9. () 由於臺灣沒有乾燥氣候，行政院特別派農業考查團前往勘察。請問考查團無法觀察到下列何種農業型態？(A)熱帶栽培業 (B)綠洲農業 (C)灌溉農業 (D)地中海型農業。

10. () 下圖為鹹海不同年代範圍的變化(深色部分為水體)。請問：此一變化與下列何者關係最密切？(A)實施圍湖造田 (B)發展養殖漁業 (C)大量種植棉花 (D)過度開採石油。



11. () 某處的政府有要求沿海居民必須定期粉刷油漆，以維持藍白耀眼的房舍與海洋相呼應的美景，也吸引世界各地的網紅前來拍照打卡。如果也想得到超多的按讚數，請問應到下列哪個海洋的島嶼上出外景？(A)北極海 (B)愛琴海 (C)黑海 (D)大西洋。

12. () 阿仁跟小佳即將去蜜月旅行，在行前說明會上導遊提到：「這個國家是世界上最多古蹟的國家，並且盛產大理石，也是時尚產業的指標，擁有許多名牌精品，米蘭更是個容易讓荷包瘦身的城市。」請問：該國應該是指下列何者？(A)法國 (B)西班牙 (C)義大利 (D)希臘。

13. () 某一個少數民族主要散居兩河流域上游(如下圖深色區域)，他們是世界上自認「沒有自己國家」的族群中，人數最多的民族。由於此區域資源豐富，現居國為了自身利益，都不樂意見到此族合併獨立。請問此少數民族是哪一族？(A)貝都因人 (B)猶太族 (C)哈薩克族 (D)庫德族。




14. () 中亞地區的地理環境大多為內流河，近年來因為水資源調配不均勻，導致鹹水湖大為縮減，請問影響最嚴重的是下列哪兩條河？(A)伊黎河、錫爾河 (B)錫爾河、阿母河 (C)額爾濟斯河、阿母河 (D)烏拉河、額爾濟斯河。

《請翻頁！！下頁尚有試題！！》

15. () 教廷是臺灣在歐洲唯一的邦交國，其境內的聖彼得大教堂是世界天主教的中心，其中的西斯汀禮拜堂甚至還成為電影「天使與惡魔」的取景地。若要欣賞這些結合宗教與藝術的名家大作，遊客應前往下圖中的哪座城市？
(A)丙 (B)乙 (C)丁 (D)甲。



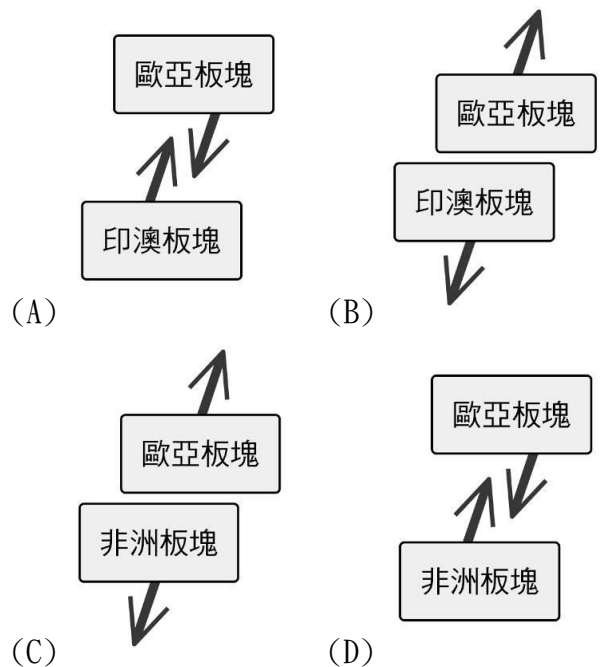
16. () 下圖是小白菜老師到新疆地理考察時所見到的引水設施，目的是為了能更有效的利用水源。下列哪個地區的居民為了適應當地環境，也發展出類似的設施？ (A)阿富汗高原 (B)阿拉伯高原 (C)伊朗高原 (D)安納托利亞高原。



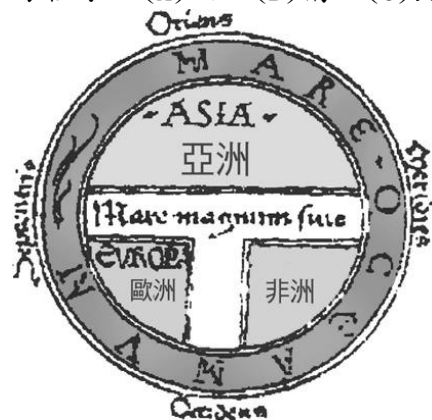
17. () 下圖此城市在希伯來語為「和平之城」之意，它也是世界三大宗教的聖地，每年吸引眾多信徒前來朝聖，但也容易成為產生衝突的地點。請問：上述所指的城市為何？ (A)耶路撒冷 (B)伊斯坦堡 (C)巴格達 (D)麥加。



18. () 兩河流域成就不少輝煌的文明，其中的底格里斯河卻也在歷史上發生多次大洪水，造成許多古王國的消逝。請問如果底格里斯河的水位再度變化，下列哪個國家最不需要擔心？ (A)伊拉克 (B)以色列 (C)土耳其 (D)敘利亞。
19. () 下圖的龐貝古城就是因為板塊運動而一夕滅城，若將此區的板塊名稱及活動方向畫成示意圖，應最接近下列哪張？



20. () 歐盟致力於將歐洲各國統合為單一市場，貨幣可自由流通，目前大部分的歐盟會員國所使用的共同貨幣為歐元，但仍有部分會員國基於經濟主權等考量，並未使用此共同貨幣。請問：歐盟有哪些會員國目前並未使用歐元？ (A)英國、德國 (B)法國、瑞士 (C)丹麥、瑞典 (D)葡萄牙、西班牙。
21. () 西亞的居民大多以伊斯蘭教為主要宗教，除了不吃豬肉外，請問下列教規何者正確？ (A)穆斯林男人最多可以娶到三個老婆 (B)一生必須要到聖地麥加朝拜一次 (C)一天有六個時間點要向麥加朝拜 (D)可以在齋戒月的白天吃椰棗乾。
22. () 104 年因印度禁運棉花及美國棉花歉收，造成國際棉花價格上漲，嚴重影響紡織業的發展。臺灣的紡織業者若想解決困境，可考慮從下列哪個國家進口棉花？ (A)土庫曼 (B)烏茲別克 (C)美國 (D)吉爾吉斯。
23. () 下圖是十三世紀羅馬人所繪的古地圖，其中T字型部分為海洋或河流，其餘部分為三大陸塊。根據當時人們對世界的認知，此圖的下方應是哪個方位？ (A)西 (B)南 (C)北 (D)東。



24. () 西亞與中亞地區都屬於氣候乾燥區，但其氣候類型卻不太相同。請問關於兩地的氣候特徵何者正確？ (甲)西亞為熱帶沙漠氣候，因為距海遙遠才形成此氣候 (乙)中亞為溫帶沙漠氣候，因為距海遙遠才形成此氣候 (丙)兩者都終年乾燥少雨，年溫差大 (丁)西亞的副熱帶高壓為下沉氣流。
(A)乙丁 (B)甲丙 (C)甲乙 (D)丙丁。
25. () 自從交通運輸改善後，南歐地區成為西歐地區重要的蔬果、花卉等農產的供應地，也稱為「歐洲菜籃」，這是因為南歐地區在歐洲具有下列哪項環境優勢，利於農業發展？ (A)土壤肥沃 (B)降水豐富 (C)日照時間長 (D)平原廣大。

《請尋找第3頁，試題尚未結束！！》

二、題組題(四大題，13 小題，每小題 2 分，共 26 分)

《題組 1》西元 2020 年世界博覽會主辦城市揭曉，由西亞的城市杜拜以 116 對 47 票，打敗俄羅斯的耶卡特林堡，奪下主辦權。這是西亞地區第一次主辦世博會，不只是杜拜的成功，也是所有穆斯林國家的榮耀，為了更加認識這個地區，小睿找到以下地圖與資料：

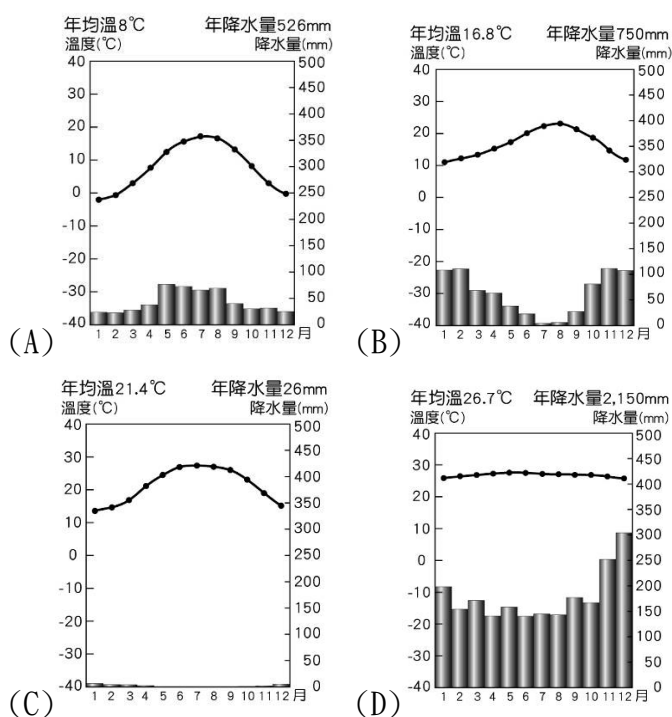


圖(一)

26. () 西元 2010 年，哈里發塔在全世界的關注之下風光啟用，標高 828 米，成為世界第一高樓，從此 508 米的臺北 101 大樓自是「矮了一截」，而哈里發塔也繼帆船飯店之後，成為該國的重要地標。請問：上述國家應位於上頁圖(一)中的何地？
(A)丁 (B)乙 (C)甲 (D)丙。



27. () 請問下列四張氣候圖中，何者最能代表杜拜的氣候類型？



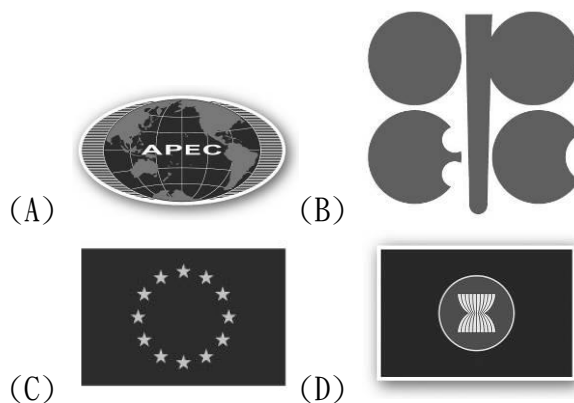
28. () 呈上題，杜拜在這樣的氣候條件下，還可以躍升為國際知名的度假勝地，每年吸引超過五百萬人次以上的遊客。杜拜的經濟成長與下列哪項因素最為相關？
(A)鋼鐵工業 (B)盛產石油 (C)高科技產業 (D)鑽石工業。

《題組 2》在尚未脫歐之前，英國境內約有 300 萬名來自歐盟成員國的移民定居，尤其在西元 2004 年之後，大量勞工進入英國。2016 年 6 月英國公投確定脫歐，有人認為英國脫歐的關鍵原因來自於移民問題。這不僅是英國的問題，歐盟經濟較佳的國家都面臨相似的外籍移民議題，下圖為歐盟成員國分布圖，請根據資料回答以下問題：

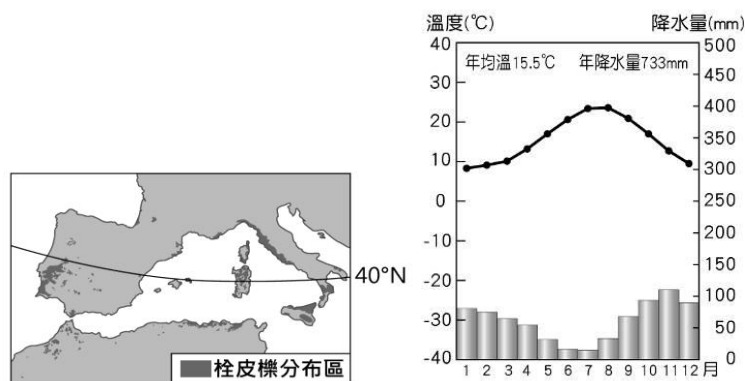


歐盟成員國

29. () 英國如果想跟歐盟重啟談判，必須來到總部進行協商，請問總部位於下列哪個城市？
(A)布魯塞爾 (B)倫敦 (C)阿姆斯特丹 (D)斯德哥爾摩。
30. () 這些在 2004 年以後加入歐盟的會員國，在經濟發展上具有什麼優勢？
(A)資金充足 (B)勞力低廉 (C)技術先進 (D)交通便利。
31. () 某國地跨歐、亞兩洲，極少部分領土在歐洲，但由於之前曾經是 ISIS 最大的兵源國，申請加入歐盟至今尚未通過。請問：某國是哪個國家？
(A)土耳其 (B)保加利亞 (C)捷克 (D)俄羅斯。
32. () 下列何者為歐洲聯盟的旗幟？



《題組 3》Wayne 跟 Eric 是多年的好友，他們兩個的共同嗜好就是品酒，但發現家裡有些沒有放到酒櫃的紅酒開瓶後，軟木塞會有碎屑產生，上網查了得知封裝酒瓶的軟木塞是由栓皮櫟的樹皮製成，他們還找到栓皮櫟的分布區圖與當地的氣溫雨量圖，請回答下列問題：



33. () 栓皮櫟的分布區不多，上圖左為歐洲及非洲的分布範圍，請問當地的氣候特色為下列何者？
(A)乾燥少雨，年降水量 250mm 以下 (B)冬雨夏乾，年降水量 400 至 800mm (C)夏雨冬乾，年降水量 1,000mm 以上 (D)全年有雨，無明顯乾季。
34. () 具有同樣氣候類型的城市最不可能位在下列何處？
(A)土耳其 (B)希臘 (C)西班牙 (D)伊拉克。

《請翻頁！！下頁尚有試題！！》

35. ()該地農業區除了種葡萄以外，還有種植橄欖，請問下列何者為全世界橄欖油產量最高的國家？
(A)葡萄牙 (B)義大利 (C)西班牙 (D)希臘。

《題組 4》韓國外務省為提高在中亞地區的外交地位，以中亞及高加索八國為對象，重建「絲綢之路外交」。請問：

36. ()下列何國不在上述韓國「絲綢之路外交」的範圍內？ (A)烏茲別克 (B)土庫曼 (C)土耳其 (D)哈薩克。
37. ()中亞地區因何種資源的蘊藏量豐富，而為世界各國所重視？ (A)石油 (B)稀土 (C)鐵礦 (D)黃金。
38. ()承上題，如果韓國想參與該資源的開發，應加強和下圖哪個國家的合作？ (A)甲 (B)乙 (C)丙 (D)丁。



三、配合題(兩大題，12 小題，每小題 2 分，共 24 分)
《第一大題》西亞有許多特別的國家，下圖為西亞的國家分布圖，請根據下列提示，從答案欄選出相對應的答案。

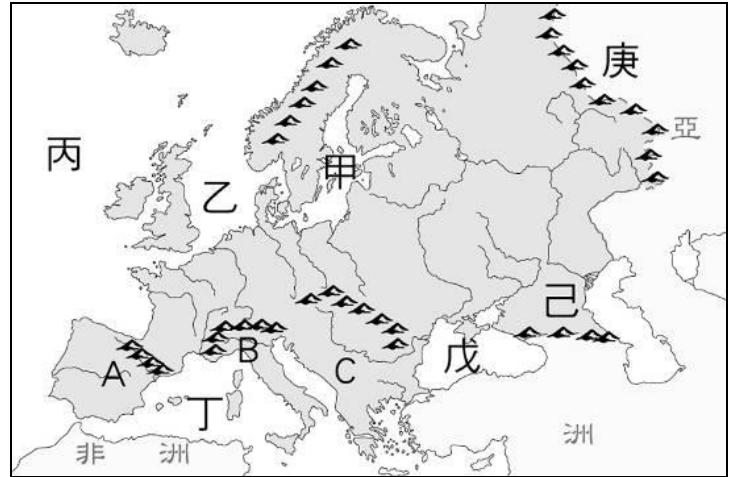


39. ()戊國家為西亞石油存量最多的國家。請問此國是誰？
40. ()呈上題，該國家的主要地形為何？
41. ()丁國雖然小，但石油蘊藏量也不少，甚至因此引爆「波斯灣戰爭」，請問此國是誰？
42. ()辛國研發出滴灌技術，但境內的猶太人和阿拉伯人因領土、宗教等因素常引發衝突，請問此國是誰？
43. ()丙國擁兩河流域的優勢，是西亞古文明的發源地，請問此國是誰？
44. ()承上題，該國的主要地形為何？

39 題~44 題答案欄：

- | | |
|------------|-----------|
| A 安納托利亞高原 | AB 伊朗 |
| B 阿富汗高原 | AC 以色列 |
| C 美索不達米亞平原 | AD 沙烏地阿拉伯 |
| D 阿拉伯高原 | BC 伊拉克 |
| | BD 土耳其 |
| | CD 科威特 |

《第二大題》下圖為歐洲自然環境分區圖，請根據題目從答案欄找到相對應的地形名稱。



45. ()為歐亞界山之一，位於圖上的庚，請問是哪座山？
46. ()代號丙是世界三大洋之一，請問是哪個海洋？
47. ()A 半島擁有聖家堂、葡式蛋塔、奔牛節等特色，請問半島名稱為何？
48. ()傳說九世紀以前，只要你能稱霸於丁海洋，就可說是世界的王，請問是哪個海洋？
49. ()雅典與斯巴達是古希臘最著名的城邦，雅典被稱為西方民主的先鋒，斯巴達則為軍國主義的起源。請問：這兩個城邦皆位於 C 半島，請問此半島名稱為何？
50. ()維京海盜曾於乙海洋叱吒一時，請問此海洋為何？

45 題~50 題答案欄：

- | | |
|---------|-------------|
| A 高加索山 | AB 太平洋 |
| B 地中海 | AC 烏拉山 |
| C 義大利半島 | AD 巴爾幹半島 |
| D 大西洋 | BC 北海 |
| | BD 伊比利半島 |
| | CD 斯堪地那維亞半島 |

《請仔細檢查試題及答案卡！》