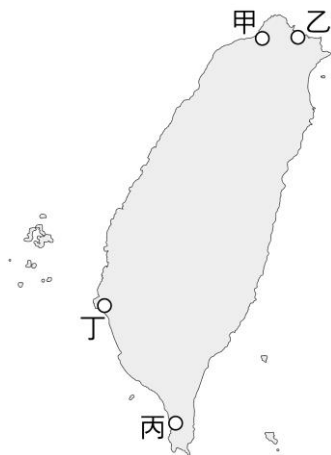


壹、選擇題：每題 2.5 分

1. () 澎湖縣馬公市天后宮有一塊「沈有容諭退紅毛番韋麻郎等」碑。請問：碑中所述的「紅毛番」，指的是哪一國人？
(A)西班牙 (B)葡萄牙 (C)荷蘭 (D)英國。
2. () 成績跟著他的老師前往某處史前文化遺址進行考查，遺址中除了陶器碎片外，也發現了少數鐵渣和青銅器。以此研判，此遺址的年代應該與下列哪個史前文化的時期，最為接近？ (A)卑南文化 (B)長濱文化 (C)圓山文化 (D)十三行文化。
3. () 下列哪個文化遺址出土的陶器頗具特色，表面以繩紋壓印作為裝飾，為新石器時代初期的代表？ (A)大坌坑文化 (B)卑南文化 (C)圓山文化 (D)牛罵頭文化。
4. () 史前時代劃分為舊石器、新石器與金屬器三個時期，其劃分依據為？ (A)文字的有無 (B)使用的工具不同 (C)農業的有無 (D)文明發展的高低。
5. () 十七世紀日本出版的《萬國新話》當中收錄了一幅圖畫，為荷蘭聯合東印度公司派駐臺灣的長官奴伊茲(Nuyts)被一群以濱田彌兵衛為首的日本商人抓捕起來的版畫，同時書中還提及這位荷蘭長官後來被帶到日本平戶拘禁，成為日、荷衝突之下的人質。請問：日本商人之所以有如此反抗舉動，最有可能是下列哪個原因？ (A)日本商人作為日本政府的內應，想從荷蘭手中搶下臺灣的統治權 (B)日本商人被荷蘭聯合東印度公司完全禁止在臺貿易 (C)日本商人同情臺灣的原住民，要與原住民聯合驅逐荷蘭人 (D)日本商人對荷蘭聯合東印度公司的徵稅要求感到不滿。
6. () 明濤完成了一份鄭氏政權統治時期的歷史報告，但章節標題卻搞混了：(甲)以金門、廈門為據點 (乙)鄭經的經營臺灣 (丙)東征攻臺與最後獲勝 (丁)鄭成功棄文從武 (戊)鄭克塽兵敗投降。請問：若按照史實，下列排列順序何者正確？ (A)甲丙乙丁戊 (B)乙戊甲丁丙 (C)丙甲丁戊乙 (D)丁甲丙乙戊。
7. () 臺灣原住民族是至今最早居住在臺灣的居民，對於他們數千年來的文化發展，我們可以抱持著怎樣的態度，才能達到較客觀的理解？ (A)盡力蒐集部落的神話與傳說故事 (B)利用考古與神話傳說的相互輔助 (C)找尋早期原住民族在當時所遺留下來的文字 (D)到部落訪問年紀較大的長老。
8. () 鄭氏政權三代之所以能立足臺灣，對抗滿清，其重要財源來自何處？ (A)農地屯墾 (B)海外貿易 (C)海上劫掠 (D)島內貿易。
9. () 明朝時期，臺灣沿海多有海商活動，與當時政府的哪一項政策有關？ (A)海禁政策 (B)以漢制漢 (C)渡臺禁令 (D)鼓勵拓墾。
10. () 下列何人曾招募漢人，開墾今雲林、嘉義一帶，開啟漢人來臺拓墾的風氣？ (A)顏思齊 (B)施琅 (C)郭懷一 (D)李旦。
11. () 下列哪項商品，是荷蘭人在臺時期到鄭氏在臺政權，一直都相當重要的出口商品？ (A)香料 (B)鹿皮 (C)軍需品 (D)稻米。
12. () 一封呈給西班牙國王的公文：「此島嶼物產豐饒，位處於中國與日本之間，今覓得一天然港灣，據此於北端(今和平島)建立堅固的城堡，並派兵駐守，足以抵抗入侵，且有利於東亞的貿易發展。」請問：文中所指港灣及城堡位於地圖中的何處？ (A)甲 (B)乙 (C)丙 (D)丁。



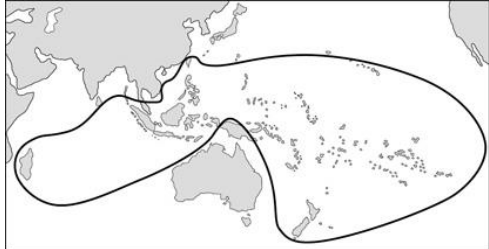
13. () 十六世紀之後，許多日本海盜與漁民來到臺灣沿海，當時他們稱呼臺灣的名稱為何？ (A)琉球 (B)大員 (C)高砂國 (D)福爾摩沙。
14. () 芷棋除了唱歌之外，還對歷史非常有興趣，某日在《臺灣歷史圖說》中看到圖(一)的照片，圖片是某個文化遺址出土的貝類殘骸，夾雜時人的生活用具，請問這應該是史前文化的何者？

圖(一)

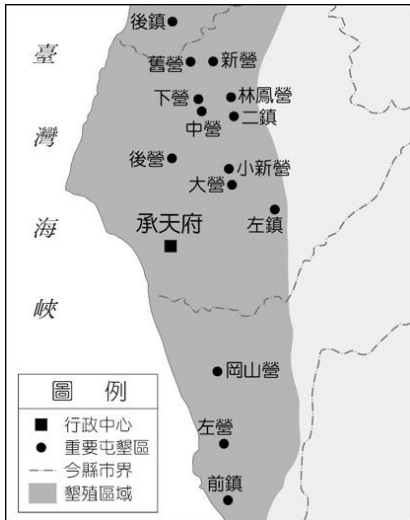


(A)長濱文化 (B) 靜浦文化 (C)圓山文化 (D)卑南文化

15. () 清帝國統治時期，清廷依照什麼標準將原住民分為熟番及生番？ (A)是否納稅、服勞役 (B)識字程度 (C)財產多寡 (D)與漢人熟識程度。
16. () 臺灣因為地理位置的關係，因緣際會地成為國際貿易的轉運站，歷史上某時期的貿易交易對象主要有日本、東南亞、英國、中國，進口商品則是以軍需品為大宗。請問：綜觀臺灣該時期的國際貿易特色，與以下列哪一因素有關？ (A)用軍需品拓展海外殖民地 (B)以軍需品作為與亞洲各國進行軍事合作的媒介 (C)以軍需品與歐美國家交換所需物資 (D)利用貿易收入作為抗清的重要財源。
17. () 鄭氏治臺歷經三代，其政權繼承順序為何？ (A)鄭芝龍→鄭成功→鄭經 (B)鄭成功→鄭芝龍→鄭克塽 (C)鄭經→鄭芝龍→鄭克塽 (D)鄭成功→鄭經→鄭克塽。
18. () 十六世紀後，明朝政府加強澎湖的防務，中國東南沿海兼具海盜與商人特性的海商集團，漸漸轉移到臺灣活動。十七世紀初縱橫東亞的海商集團，是以下列何人為代表？ (A)李旦 (B)施琅 (C)陳永華 (D)沈有容。
19. () 宜真在曾經參考下圖，完成某一主題的研究。請問她所研究的主題最有可能是？ (A)南中國海島嶼分布圖 (B)臺灣原住民族的起源 (C)美日太平洋戰爭重要戰場 (D)史前人類分布。



20. () 西班牙人原先計畫以台灣做為發展與日本貿易的跳板，但是卻不甚成功。原因是當時日本推出了什麼政策的關係？ (A)漢化政策 (B)殖民政策 (C)鎖國政策 (D)海禁政策。
21. () 西元 1662 年，鄭成功擊敗荷蘭人，進占臺灣，引進漢人典章制度。鄭成功此舉對臺灣的歷史造成何種影響？ (A)在臺灣建立漢人政權 (B)漢人首次擊敗荷蘭人 (C)奠定漢人反清復明的基礎 (D)促使臺灣的原住民積極漢化。
22. () 下列何者可以說是臺灣史前文化的特徵？ (A)以北部遺址出現的年代最早 (B)留下許多文字紀錄 (C)西部史前文化的出現較東部為早 (D)全臺都有史前文化遺址的分布。
23. () 將台灣的原住民區分為「平埔族」與「高砂族」，是台灣哪一時期的事情？ (A)史前時期 (B)大航海時代 (C)日本殖民統治時期 (D)中華民國時期。
24. () 荷蘭人統治臺灣之後，積極與四周國家展開貿易。以下哪一個並非當時荷人的主要貿易夥伴？ (A)日本 (B)朝鮮 (C)東南亞 (D)中國大陸。
25. () 南太平洋群島的諸多族群中，不乏看見有台灣基因的構樹皮所製造的衣服，由此可以推測台灣的原住民很可能屬於哪一族群？ (A)印歐民族 (B)尼日剛果語族 (C)南島語族 (D)漢藏語族。
26. () 歷史老師上課時，在投影片上放了一張如附圖的地圖，圖中顯示了臺灣地區的許多地名，這些地名有何共同特色？ (A)台灣南部原住民部落仇殺地點 (B)海盜活動地點 (C)軍屯的地點 (D)貿易轉運地。



27. () 鄭氏在臺時期，臺灣與東南亞各地有貿易關係，尤其是前往呂宋島的船隻最多。呂宋島屬於現今的哪一國？ (A)越南 (B)印尼 (C)菲律賓 (D)泰國。
28. () 以下哪位學生所說的内容，不屬於長濱文化人的生活方式？ (A)延和：以打製方法製作石器 (B)淑君：種植稻米作為糧食 (C)潔好：使用獸骨或獸角製成的工具 (D)凱鈞：用火燒烤肉類。
29. () 有關新石器時代之敘述，下列何者錯誤？ (A)距今七千年前，臺灣進入新石器時代 (B)懂得飼養家畜，作為食物的來源 (C)開始從事農業活動，食物來源穩定 (D)由採食進入產食，進行居無定所的游牧生活。
30. () 荷蘭的大員總督曾說：「臺灣真是公司的一頭好乳牛。」請問他所說的意思是？ (A)臺灣人民有著刻苦耐勞的精神 (B)臺灣生產的牛奶既新鮮又好喝 (C)臺灣商館的獲利高於日本商館 (D)臺灣商館為公司帶來鉅大的利潤。
31. () 葡萄牙在東亞的貿易據點是？ (A)巴達維亞 (B)長崎 (C)澳門 (D)馬尼拉。
32. () 荷蘭人占領臺灣之後，建立了哪一個城市，作為政治中心？ (A)熱蘭遮城 (B)普羅民遮城 (C)聖多明哥城 (D)聖薩爾瓦多城。
33. () 下列關於所謂「海商集團」的敘述，何者為非？ (A)活躍於中國東南沿海 (B)由於明朝政府派兵進駐臺灣，海商的活動地點遂轉移到澎湖 (C)顏思齊及鄭芝龍是其中的代表人物 (D)性質介於半商半盜之間。
34. () 下表為莉芳從書中整理出來的某地大事記，請從內容判斷該地應為何處？ (A)澎湖 (B)打狗 (C)大員 (D)雞籠。

年代	大事
十四世紀後期	明朝實行海禁，此地活動人員銳減
十六世紀	逐漸成為漢人捕魚、走私之地
十七世紀初期	明朝將領逼退想在此地建立基地的荷蘭人

35. () 卑南文化遺址出土的人獸型玉質耳飾、石板棺，及豐富的陪葬品，說明卑南文化可能具有何種特色？ (A)工藝技術已經有相當水準 (B)不分男女普遍愛美 (C)已經使用金屬器具 (D)地理環境封閉，與外界極少交流。

貳、題組：每題 2.5 分

甲、請閱讀國姓爺與荷蘭長官揆一往返的書信，並回答問題：

資料一
這是一封大明招討大將軍國姓爺寄給荷蘭長官揆一閣下的信，信件內容節錄說明如下：「澎湖島離漳州不遠諸島不遠，所以屬於漳州；大員因為接近澎湖島，所以此地應該屬於中國統治，我的父親一官將此地借給荷蘭人，但只是借用而已。我跟家父一樣，也用友善的態度繼續跟公司交易來往，為此，我們釋放所有的荷蘭俘虜，讓他們回家……若您想要繼續占領別人的土地(原本是我父親，現在屬於我的土地)是不應該的，這個道理閣下和貴評議會應當都清楚……如果你們及早來向我彎腰低頭，用商談的方式，將你們的城堡移交給我，我不但會讓你們這些評議員的地位升高，使婦女兒童都得保全生命……」

資料二
這是一封長官揆一和福爾摩沙評議會寄給大明招討大將軍國姓爺的信，信件內容節錄說明如下：「我們同意殿下，將這城堡，以及公司的現金和貨物都交給你，但是，公司在這個地方的簿記、文件、和奴隸要除外……」

36. () 下列有關資料一的敘述，何者正確？ (A)信件寄件人是鄭經 (B)信件內容提到我的父親「一官」是指鄭克塽 (C)信中談到的「此地」是指福建 (D)這封信應該是在西元 1661 年寫成的。
37. () 資料一和資料二中所提到的「城堡」，有可能是指下列何者？ (A)熱蘭遮城 (B)聖多明哥城 (C)聖薩爾瓦多城 (D)紅毛城
38. () 下列有關資料一和資料二的敘述何者有誤？ (A)資料一的信件寫成的時間應該早於資料二信件完成的時間 (B)資料二信件完成的時間早於資料一信件完成的時間 (C)資料一中談到「此地應該屬於中國統治」，「此地」是指澎湖 (D)資料二中談到的「公司」是指荷蘭聯合東印度公司。

乙、請閱讀以下三則關於鄭成功的材料，並請閱讀後回答問題：

資料一：鄭成功起兵抗清之初，清朝的順治皇帝曾有如下的批評(翻成白話文)：「叛徒鄭成功藏匿在天涯海角，阻擋我大青天子的教化，實在是兇殘狡猾罪大惡極。

資料二：國姓爺為了攻下城堡，除了憑藉長期圍城，等待城中軍民因飢病投降外，還派遣先前被俘的亨布魯克牧師前來城堡招降，亨布魯克被迫將他的妻子與兩名兒女留在國姓爺軍中當作人質。當他回來向國姓爺報告說城堡內的軍民堅決不降之後，國姓爺勃然大怒，立即將所有俘虜全部屠殺……。

資料三：當明鄭政權被清帝國打敗之後，清朝的康熙皇帝曾經寫了一幅輓聯給鄭成功。大意是這樣的(翻成白話文)：「當清軍南下之際，南明各陣總兵多懷抱貳心，紛紛投降清朝。唯有鄭成功依託金門廈門兩地揮軍北伐，威震中國東南半壁江山。當南明諸王相繼滅亡之際，只有鄭成功仍能以台灣一地，懷抱忠於明朝抗清復明的志向。

39. () 同樣都是提及鄭成功，三則資料呈現的鄭成功形象卻是天差地遠，對此我們應當如何看待？ (A)只要是鄭成功的政敵，資料便完全不值得相信 (B)即便是同一個人物，也有可能因為時空背景與立場的不同而產生不同的解釋與評價 (C)只要能讓鄭成功投降，清朝的統治者對於鄭成功的評價是可以隨時改變的 (D)政治人物都是同一個模樣，不論如何評價都差異不大。
40. () 順治、康熙這對皇帝父子對鄭成功的看法明顯有所不同，下列哪一種解釋最不可能被接受？ (A)兩位皇帝的不同評價，反映了時空背景的不同 (B)清朝以少數民族統治中國，出於籠絡多數人的政治需要，康熙皇帝給予鄭成功正面的評價完全是可能的事 (C)鄭氏政權的投降與否，多少會影響兩位皇帝的評價 (D)康熙皇帝不吝高度評價鄭成功，完全是因為鄭成功主動放棄反清復明的緣故。