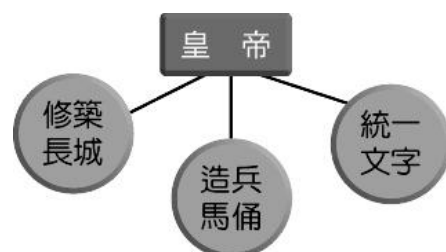




# 臺北市立誠正國中 108 學年度第一學期第一次定期考查八年級歷史科試卷

## 一、選擇題(每題 2.5 分)

- 下列關於舊石器與新石器時代的敘述，何者「正確？」(甲)舊石器時代的人不會用火，新石器時代的人開始學會用火 (乙)舊石器時代的人懂得磨製石器 (丙)新石器時代的人類開始種植農作物了 (丁)舊石器時代的人不懂得審美觀念，新石器時代的人類才具有審美觀念 (A)甲乙丙丁 (B)乙丙 (C)丙 (D)丁。
- 由右圖中的內容可知，此圖的主題「？」最可能為下列何者？  
(A)秦末的政治發展 (B)西周初年的政治型態 (C)新莽的建立與衰亡 (D)東漢衰亡的原因。
- 歷史課堂上同學們正在討論「商朝的歷史文化」。請問：下列哪一個同學的說法符合史實？ (A)小玉：商朝是個封建社會，只有「嫡長子」才享有繼承權 (B)小美：由於開國君主商湯定都於「殷」的關係，所以商朝又稱為殷商 (C)小君：因為桀的暴虐無道，使得商朝最後被周武王消滅而亡國 (D)小華：甲骨文是商朝最著名的文字，今天的漢字，就是從甲骨文發展而來的。
- 某日，在天堂，四個生存年代不同的人聊著自己的身世。  
甲說：因為我的父母是奴隸，我註定一輩子都是奴隸。  
乙說：我是個辛苦耕種的農夫，可是我一直沒有自己的土地，因為土地全部屬於貴族。  
丙說：我苦讀向上，積極學習，終於被國君重用，當上高官。  
丁說：我們每個人都有自己的身分該遵守的禮樂和規矩，整個社會因此非常有秩序。  
請問，以上四人哪一個最有可能生活在東周？ (A)甲 (B)乙 (C)丙 (D)丁。
- 一本東漢人物傳記中提到：「他認為大丈夫應該立功異域，藉此得官封侯，而不該僅從事一些文字抄寫的工作，於是決定投筆從戎，最後真的威震西域諸國。」上述應該是下列何人的傳記？ (A)司馬遷 (B)班超 (C)張騫 (D)班固。
- 右圖中的丙應該是哪個朝代？(A)秦朝 (B)東漢 (C)西漢 (D)新朝。
- 每次要考論語，總讓同學哀怨不已，但對儒家思想的重視其實不是現代的事。請問，儒家思想成為中華文化學術的主流是誰主政時的措施？ (A)漢武帝 (B)秦始皇 (C)周公 (D)周武王。
- 中華民國在 2019 年 9 月接連損失兩個邦交國，究其原因，可說受西方某強國的影響極大。漢朝時，其北方也有一強國對其威脅不小，漢武帝便曾想連絡西域各國，共同抵抗此威脅。請問，這個威脅漢朝的強敵是何國？ (A)大月氏 (B)蒙古 (C)犬戎 (D)匈奴。
- 關於圖右的房屋建築形式，下列何者敘述「正確」？ (甲)這是舊石器時代北京人所蓋的房子 (乙)這種房屋稱為干欄式房屋 (丙)這種房屋出現在長江流域 (丁)這種房屋出現在黃河流域 (A)甲乙丙 (B)甲乙丁 (C)乙丙 (D)丁。
- 西周有一位諸侯王小華，因為病重快要去世了，他有三個兒子。請問，若是按照宗法制度，誰會是他的接班人？  
甲：20 歲，年齡最長，能力最強，媽媽是王小華青梅竹馬的戀人。  
乙：18 歲，長相與個性最像王小華，媽媽是王小華最疼愛的小妾。  
丙：10 歲，好吃懶做，媽媽是王小華的元配。  
(A)甲 (B)乙 (C)丙 (D)由人民選舉決定。
- 歷史上諸位領導人得位的方式可說百百種，有的靠搶，有的靠武力，有的透過推選，有的來自繼承。請問，下列哪一組古代的領導人間傳位的方式與其他三組不同？ (A)秦始皇—秦二世 (B)禹—啓 (C)堯—舜 (D)周武王—周成王。
- 秦始皇終結春秋戰國五百多年的混亂，為了重建秩序，採取嚴刑峻法，並焚書坑儒，控制思想。請問，秦始皇的所作所為比較接近春秋戰國哪一家的學說？ (A)儒家 (B)道家 (C)墨家 (D)法家。
- 承上題，秦朝末年天下大亂，人民流離失所，民生凋蔽。請問，漢高祖若因為國家初建，想減少人民的負擔，讓人民休養生息，最適合採行春秋戰國哪一家的學說？ (A)儒家 (B)道家 (C)墨家 (D)法家。
- 許多的成語都與歷史事件相關，下列的成語，請按照先後順序排列？(甲)投筆從戎 (乙)蕭規曹隨 (丙)四面楚歌 (丁)指鹿為馬 (A)丁丙乙甲 (B)甲乙丙丁 (C)丁丙甲乙 (D)丙丁乙甲。
- 周朝約有 800 多年的歷史，期間發生過許多大事，請按照先後順序排列？(甲)管蔡之亂 (乙)周武王實行封建制度 (丙)周公東征 (丁)齊桓公稱霸天下 (戊)周平王將首都東遷 (A)乙丙甲丁戊 (B)乙甲丙戊丁 (C)甲乙丙丁戊 (D)乙丁甲丙戊。
- 古話有云：「周公吐哺，天下歸心。」周公對西周初期的基礎規畫極多，貢獻極大。但是，下列哪一件事並不是周公所為？ (A)輔佐成王 (B)將首都遷到雒邑 (C)平定管蔡之亂 (D)制禮作樂。
- 西元 1894 年，中國與日本發生甲午戰爭，隔年簽訂條約將臺灣割讓給日本。請問：「甲午年」這種記年方式，源自於中國哪一個時期？ (A)夏朝 (B)商朝 (C)周朝 (D)漢朝。
- 小軒翻開了他的筆記本，上面記錄著以下內容：「商鞅變法」、「布衣卿相的局面」、「養士風氣的盛行」。請問：由這些重點判斷，老師上課的主題可能是下列何者？ (A)秦朝的發展局勢 (B)兩漢的盛衰 (C)西周的統治 (D)春秋戰國時代的政治狀況。
- 右圖的措施，是哪一位皇帝的作為？ (A)周武王 (B)秦始皇 (C)漢高祖 (D)漢武帝。



- 20.曉明是生活在漢武帝時代的平民百姓。請問：他可以有什麼生活經驗？(甲)被徵召修築馳道、長城 (乙)參與黃巾之亂，反抗朝廷暴政 (丙)因為孝順父母，被推薦為官吏 (丁)可以販賣鹽、酒賺取生活費用 (戊)可以運送絲綢到歐洲做生意。 (A)甲乙丙戊 (B)甲丙丁 (C)丙丁 (D)丙戊。
21. 小丸子與同學玩桌遊拿到下圖的四張牌，如果遊戲規則是要按照事件發生先後出牌。請問：小丸子出牌的順序應為何？



- (A)甲丙乙丁 (B)丙甲乙丁 (C)乙丙甲丁 (D)丁甲乙丙。
22. 某日，在課堂上，四位同學扮演著來自不同朝代的角色。大家聊著自己朝代的滅亡情況。
- 甲說：我們皇上好大喜功又嚴刑峻法，繼位的兒子又昏庸暴虐，使得人民怨恨反抗，國家因此滅亡。
- 乙說：我們的政治長期被外戚把持，最後終於被外戚搶去了皇位。
- 丙說：我家更慘，皇上們都年紀小小便即位，來亂的不止外戚還有宦官，政治的腐敗終於激起民亂，以致群雄割據。
- 丁說：我們大王喜愛美女，以至於外族犬戎入侵又求救無門，最後國破身亡。
- 請問，若將以上四人活著時所處的年代案時間先後排列，何者正確？
- (A)丁甲乙丙 (B)甲乙丙丁 (C)丁甲丙乙 (D)丁丙甲乙。
23. 小英與小美上完歷史課之後，有了以下對話。小英說：中國歷史上的第一個皇帝是秦始皇耶，他好厲害喔！。小美說：可是他竟然焚書坑儒，使得古代典籍大量失傳。如果我們想要了解秦始皇更多的歷史事件，可以去查閱哪一本書？ (A)《論語》(B)《漢書》(C)《史記》(D)《春秋》。
24. 下列關於夏朝的敘述，何者「正確」？(甲)是中國信史的開始 (乙)學者所發現的河姆渡文化遺址，可能是夏朝的人所留下的 (丙)夏朝人所使用的是鐵器 (丁)夏朝是中國的第一個朝代 (A)甲乙丙丁 (B)乙丙 (C)乙 (D)丁。
25. 商朝的文化非常燦爛，有許多相關的文物對後代有極大的影響，影響力甚至延續至今日。請問，下列何者並不是商朝的發明？ (A)占卜用的甲骨文 (B)現今的農曆 (C)作為食器的青銅器 (D)祭祖的傳統。
26. 東漢時，造紙技術得到了改良，這技術在數百年後傳入中亞，再數百年後又傳入歐洲，一次次推動人類知識上的革命。請問，東漢時這位推動文化進步的重要人物是誰？ (A)司馬遷 (B)張衡 (C)張機 (D)蔡倫。

二、題組【每題 2.5 分】

(一)請參考附圖，回答下列問題：

- 27.圖(二)的陶器具有彩色的紋飾，最有可能出土於圖(一)中的哪一個地方？ (A)甲 (B)乙 (C)丙 (D)丁。

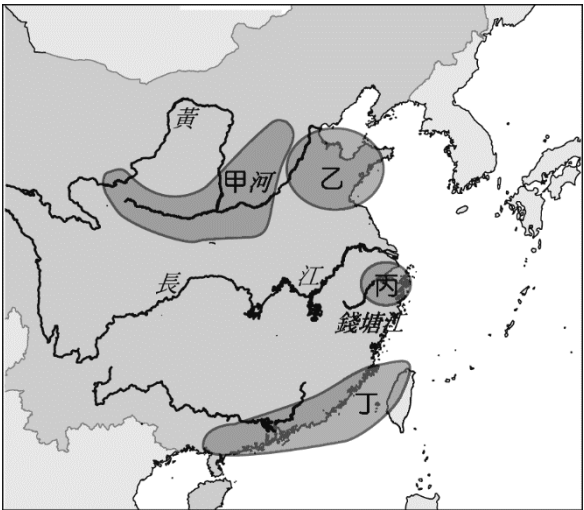


▲圖(二)

- 28.圖(三)的陶器，顯示出該文化具有很進步的製陶技術，最有可能出土於圖(一)中的哪一區？ (A)甲 (B)乙 (C)丙 (D)丁。



▲圖(三)




圖一

- 29.承上題，這個文化最有可能是什麼文化？ (A)龍山文化 (B)仰韶文化 (C)河姆渡文化 (D)二里頭文化。
- 30.圖(一)中丙區，曾發現一種為了適應地理環境，所發展出的住屋型態（如圖(四)）。請問：此住屋的最大特色，在於具



下列哪一功用？ (A)採光良好 (B)冬暖夏涼 (C)防禦外敵 (D)防潮避蟲。



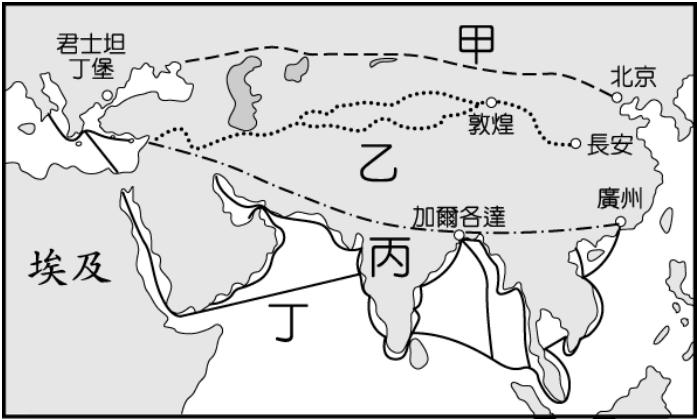
▲圖(四)

(二)春秋戰國時代，中國的政治、社會、經濟、思想等方面，經歷了重大的變遷。  
請參考右圖回答問題。

- 31.蘇秦是六國的卿相，他曾提出合縱策略，其主要用意是為對抗右圖中的哪個國家？ (A)甲 (B)乙 (C)丙 (D)丁。
- 32.在春秋時代，第一個稱霸的諸侯是哪一個國家的？ (A)甲 (B)乙 (C)丙 (D)丁。
- 33.最後打敗六國，統一天下的是哪一國？ (A)甲 (B)乙 (C)丙 (D)丁。



(三)附圖是中國歷代以來，東西往來的交通與文化交流的重要路線圖。請問：



- 34.圖中哪一條路是「絲路」？(A)甲 (B)乙 (C)丙 (D)丁。
- 35.承上題，這一條路與下列何人有關？ (A)班固 (B)張騫 (C)張儀 (D)司馬遷。
- 36.請問，哪個宗教便是在漢代經由絲路傳入中國，對中國文化影響深遠？ (A)道教 (B)佛教 (C)天主教 (D)基督教。

(四)春秋戰國時代百家爭鳴，是中國學術思想上的黃金時代。請依據以下四個人所說的內容，回答以下問題：

- 甲：我主張兼愛、非攻，要追求天下和平。
- 乙：我主張小國寡民、無為而治。
- 丙：我主張以仁為本。
- 丁：我認為國君要用刑罰、權術和威勢來統治臣民。

- 37.乙學者應該是指何人？ (A)孔子 (B)老子 (C)莊子 (D)孟子。
- 38.下列哪一個人與丙學者屬於同一個學派？ (A)荀子 (B)韓非 (C)墨子 (D)商鞅。
- 39.甲學者應該是屬於哪一個派別？ (A)儒家 (B)墨家 (C)道家 (D)法家。
- 40.最受國君重視的是哪一位學者的想法？ (A)甲 (B)乙 (C)丙 (D)丁。