

臺北市立誠正國民中學 108 學年度第一學期八年級第一次定期考查地理科試卷

範圍：中國的疆域與區域畫分、中國的地形

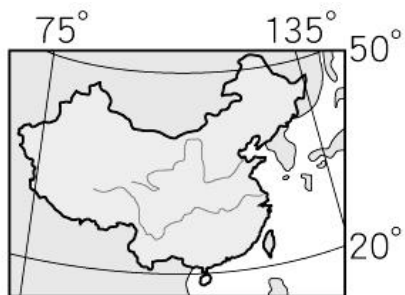
班級：_____ 座號：_____ 姓名：_____

一、單一選擇題：48%（每題 2 分）

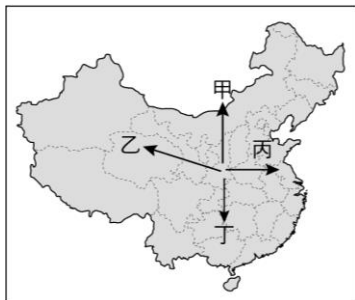
1. () 附圖為世界各大洲分布圖，黑色部分為中國位置所在地。請問：從圖中可判斷中國位於哪些半球？
(A)東半球、北半球 (B)東半球、南半球 (C)西半球、北半球 (D)西半球、南半球。



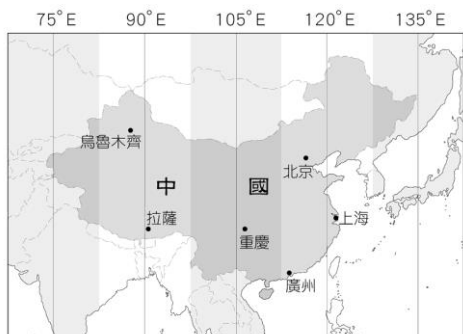
2. () 中國疆域遼闊，面積位居世界第四，僅次於俄羅斯、加拿大與美國。附圖為中國疆域圖，請問：從下圖可看出中國疆域的何種特色？
(A)位於亞洲大陸的西南側 (B)背海面陸，交通不易 (C)大部分的疆域位於中緯度地區 (D)高山深谷，地形複雜。



3. () 古代將東方絲綢、瓷器等商品，運送至西方的交通路線，稱為『絲路』，是一條著名的歐亞商旅路線，藉由這條路線，東西文化得以交流。現代利用東西向的鐵路串連，從中國的隴海鐵路出發，經由蘭新鐵路，出新疆國界後接中亞的鐵路，直通歐洲的路線，又稱新絲路。請問：圖中哪個路徑最符合上述路線的方向？
(A)甲 (B)乙 (C)丙 (D)丁。



4. () 附圖為中國時區圖。根據圖中資訊判斷，下列敘述何者正確？
(A)北京與新疆烏魯木齊的標準時間和生活作息皆相同 (B)住在拉薩的人會較住北京的人提早 2 個小時看到日出 (C)中國領土遼闊，共跨 4 個時區 (D)為方便管理，全國統一以北京時間為標準。



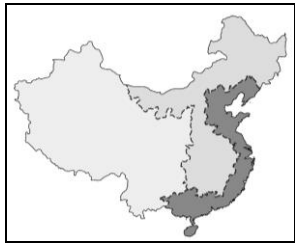
5. () 承上題，在北京工作的迪麗熱巴看到新聞報導家鄉新疆烏魯木齊氣候不佳，她急忙打電話回家確認親人是否平安。此時她看到牆上時鐘顯示為晚上 8 點，請問：烏魯木齊的時間為何？
(A)晚上 8 點 (B)晚上 6 點 (C)晚上 10 點 (D)下午 4 點。
6. () 下列關於中國的相對位置描述，何者正確？
(A)中國在俄羅斯北方 (B)中國在印度東北方 (C)中國在中南半島南方 (D)中國在日本東方。
7. () 中國宣稱在南海島礁海域擁有 90% 的領土主權，也因此中國在南海填海造陸、架設鑽井平臺、於永暑礁完成飛機跑道等，遭到南海附近國家的抗議。請問：下列何國並非位於南海，故無法反駁中國的領土主權主張？
(A)菲律賓 (B)越南 (C)馬來西亞 (D)北韓。
8. () 中國設置五個自治區，自治區有自成一格的政府組織，以保障少數民族的政治、經濟、社會與文化體系，兼顧族群與文化的完整性。請問：從附圖來看，中國的自治區分布的地區主要在哪兩區？
(A)甲乙 (B)乙丙 (C)丙丁 (D)甲丁。
9. () 關於中國地理區域劃分的敘述，下列何者正確？
(A)黃土高原與華北平原的分界是大興安嶺 (B)依據經濟發展狀況，劃分成南部、北部、西部三大經濟帶 (C)依地勢高到低，由西而東依序分成一、二、三級階梯 (D)綜合自然與人文的條件，目前主要將中國分成六大地方。
10. () 地理區劃因劃分因素不同，如依地勢、經濟發展、或綜合考量等，範圍與界線也有所不同。請問：中國按照自然及人文因素，畫分南部地方與北部地方兩地的界山為下列何者？
(A)甲：喜馬拉雅山 (B)乙：天山 (C)丙：大興安嶺 (D)丁：秦嶺。



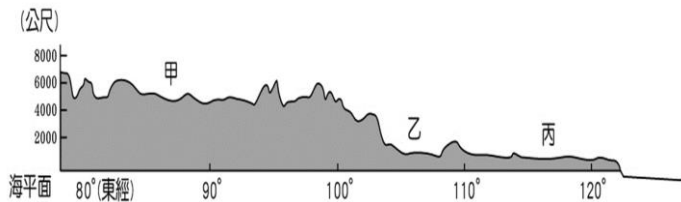
11. () 中國有四個直轄市，請問：下列關於各直轄市的位置與特色敘述，何者配對正確？
(A)甲：北京市，中國的首都，政治與文化中心 (B)乙：上海市，位長江出海口，是中國的經濟、金融、貿易和航運中心 (C)丙：天津市，位海河流域，是中國北方重要港口 (D)丁：重慶市，是中國面積最大的直轄市，為黃河上游經濟中心與交通樞紐。



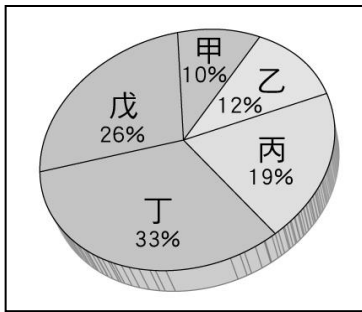
12. () 柯南畫了一張中國地理區圖，如圖所示，結果忘記寫上地圖的名稱。請問：根據圖中界線判斷，下列哪個圖名最適合？
 (A)中國三大區域
 (B)中國三大經濟帶
 (C)中國三大氣候區
 (D)中國地勢三級階梯。



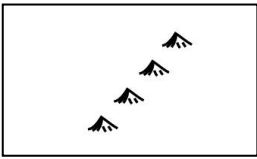
13. () 附圖為中國的地形剖面圖。請根據圖中特色（地勢高低與經度）加以判斷，由丙到甲的方向為何？
 (A)由北到南 (B)由南到北 (C)由西到東 (D)由東到西。



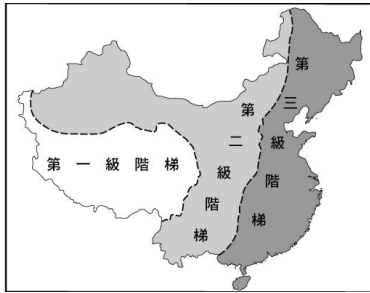
14. () 中國地形複雜，有平原、盆地、丘陵、高原與山地。附圖為中國地形面積比例圖，請問：中國地形比例最高的兩種地形分別是哪兩項？
 (A)平原、高原 (B)盆地、丘陵
 (C)山地、高原
 (D)平原、盆地。



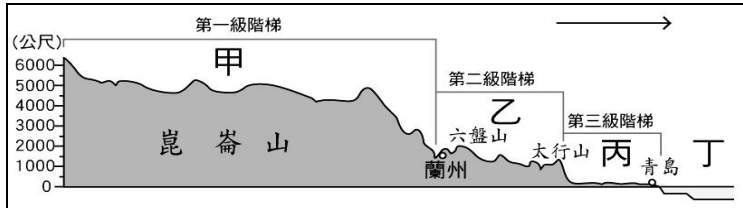
15. () 中國山脈走向，因板塊擠壓方向不同而呈現空間差異。請問：東半部的大興安嶺、長白山、武夷山等山脈呈東北—西南走向（震旦方向，如圖），是因為哪兩個板塊擠壓所造成的？
 (A)太平洋板塊、菲律賓板塊 (B)印澳板塊、非洲板塊
 (C)歐亞板塊、印澳板塊 (D)太平洋板塊、歐亞板塊。



16. () 附圖為中國地勢三級階梯圖。請問：下列有關中國三級階梯的地形特色，何者敘述正確？
 (A)第二級階梯與第三級階梯的分界為大興安嶺、太行山、巫山
 (B)第一級階梯最高，中國的四大高原皆位於此處
 (C)第二級階梯的地形主體為高原和丘陵
 (D)第三級階梯的地勢最低，所以中國的四大盆地都位於此處。



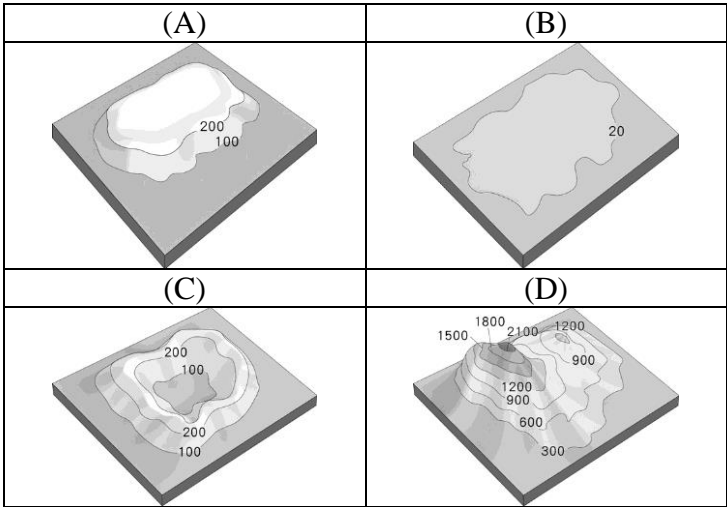
17. () 附圖為中國地勢三級階梯示意圖。請問：圖中甲～丁的地形區何者錯誤？
 (A)甲：青藏高原 (B)乙：四川盆地
 (C)丙：華北平原 (D)丁：黃海。



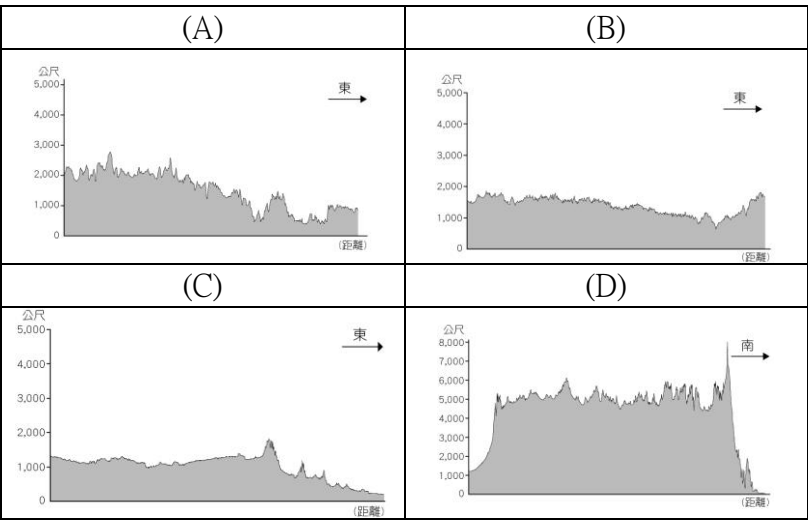
18. () 中國古詩詞中「滾滾長江東逝水」、「大江東去浪淘盡」、「恰似一江春水向東流」都在描述中國河川向東流的特色，請問：此種河川流向和下列哪項

因素關係最密切？
 (A)領土位於中緯度 (B)地處歐亞大陸東南側
 (C)地勢西高東低 (D)每年夏秋季節好發颱風。

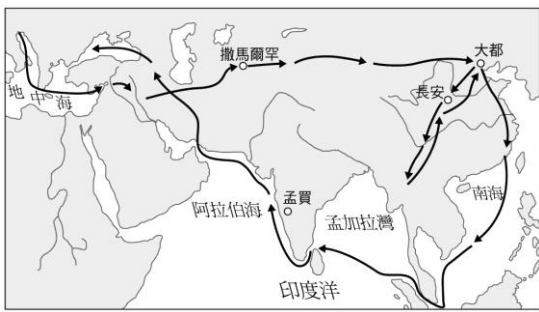
19. () 地形的起伏影響人口與產業的發展，亦是影響交通建設的重要因素之一。請問：下列哪種地形最有利於各種交通的建設？



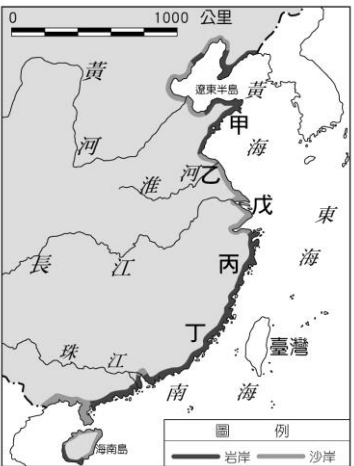
20. () 下列為中國四大高原的地形剖面圖。請問：下列何者最可能是青藏高原（位於第一級階梯）的地形剖面圖？



21. () 七百年前，義大利威尼斯商人馬可波羅從陸上絲路來到中國，從海上絲路返國，對促進東西文化交流貢獻頗大，他的遊記也促使西方人開闢新航路來到亞洲。附圖為當時馬可波羅所走的路線，請問：由圖研判，當時馬可波羅從撒馬罕來到中國的大都（現今的北京），最可能經過下列哪個地形區？
 (A)塔里木盆地 (B)東北平原 (C)橫斷山脈 (D)嶺南丘陵。



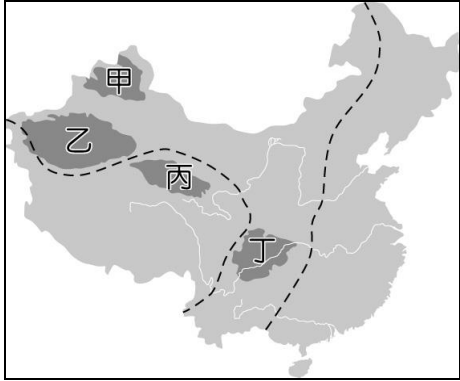
22. () 中國海岸以杭州灣為界，以北主要為沙岸，以南主要為岩岸。右圖為中國沙岸和岩岸分布圖。請問：圖中哪些代號的地區較容易發展航運，能夠有適合的港口從事捕撈漁業？
 (A)甲、乙 (B)甲、丙
 (C)丙、戊 (D)乙、戊。



23. () 中國黃河起源於青藏高原，經過黃土高原後，沖刷大量泥沙，使得河水黃濁，故有黃河的稱號。請問：這種現象說明黃河在行經黃土高原時，因土壤的特性而產生了哪種作用，造成黃土高原千溝萬壑的景象？ (A)侵蝕 (B)堆積 (C)搬運 (D)風化。
24. () 中國因地形影響，河川多東西流向，也因此運河多以南北向為主。京杭大運河連接五大水系，長約 1,800 公里，是世界最長、最古老的人工運河，亦帶動了運河沿岸城鎮的發展。請問：京杭大運河並未連接下列哪條河川？ (A)海河 (B)長江 (C)珠江 (D)錢塘江。

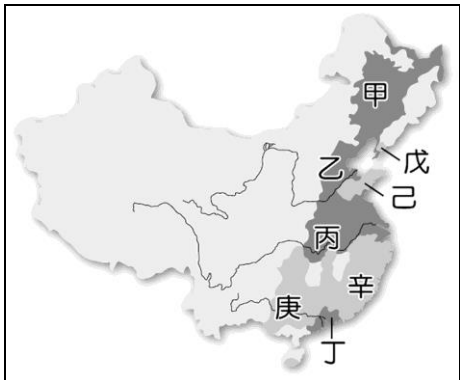
二、題組：24%（每題 2 分）

【題組一】附圖為中國四大盆地分布圖，請根據附圖回答下列問題：



25. () 此地群山環繞，形勢封閉，古人有「蜀道難，難於上青天」之嘆。有長江流經，灌溉便利；加上冬季北風受山脈阻擋，氣候溫暖；土壤肥沃，物產豐饒，農業發達，有「天府之國」美稱。請問：上述文字指的是圖中哪一個盆地？ (A)甲 (B)乙 (C)丙 (D)丁。
26. () 「塔克拉瑪干」是維吾爾語，原意是「有去無回之地」；早期交通不便，廣大的沙漠令人有種「進得去，出不來」的感受。請問：如果想一窺這個中國最大、僅次於撒哈拉的世界第二大沙漠，應前往圖中的哪個盆地？ (A)甲 (B)乙 (C)丙 (D)丁。
27. () 該地地名在蒙古語裡有兩種意思：一是，「鹽澤」，一是「遼闊的地方」，此處面積約為 25 萬平方公里，因為礦產資源豐富，而有「聚寶盆」之稱。請問：從上文敘述得知是哪一個盆地？ (A)甲 (B)乙 (C)丙 (D)丁。

【題組二】附圖為中國平原及丘陵分布圖。請根據附圖回答下列問題：



28. () 有關中國第三級階梯的敘述，何者正確？ (A)主要地形為平原、盆地 (B)因地勢西高東低，所以河川多向東流至太平洋 (C)河川下游主要的作用力是侵蝕 (D)此處地勢低窪，氣候炎熱，不宜人居，所以是人口稀疏地區。

29. () 中國人口主要分布於自然條件良好地帶，如：地勢平坦，氣候暖溼，有利於發展農業；如加上水陸運交通便利，就可成為工商業繁榮的精華區。請問：下列何處並非是人口稠密地區？ (A)甲 (B)丁 (C)辛 (D)丙。
30. () 東半部屬於人口密集區，因耕地不足，常在地形起伏的丘陵地開闢梯田，以增加耕地面積與糧食產量。請問：此土地利用方式最可能出現在圖中何處？ (A)甲 (B)乙 (C)丁 (D)庚。

【題組三】

香港政府因為一宗香港人在台灣殺害女友的案件，提出修改《逃犯條例》，讓引渡法律適用中國大陸、澳門和台灣。該條列爭議自 6 月 9 日開始觸發一連串的大規模示威抗議，從原本的和平大遊行，演變成暴力警民衝突（BBC News）。「反送中」議題延燒至今超過百日以上，卻仍無法找出解決之道；反而在不斷升高的警民衝突之下，重挫香港的經濟與國際名聲。



31. () 附圖是臺灣和中國東南沿海的地理位置圖。請問：香港位於何處？ (A)甲 (B)乙 (C)丙 (D)丁。
32. () 香港早期曾被哪一個國家統治，所以在生活型態、經濟發展上都與中國有較明顯的落差？ (A)美國 (B)英國 (C)西班牙 (D)葡萄牙。
33. () 因為香港的殖民背景影響，香港被歸類於何種省級行政區？ (A)特別行政區 (B)自治區 (C)直轄市 (D)省。

【題組四】

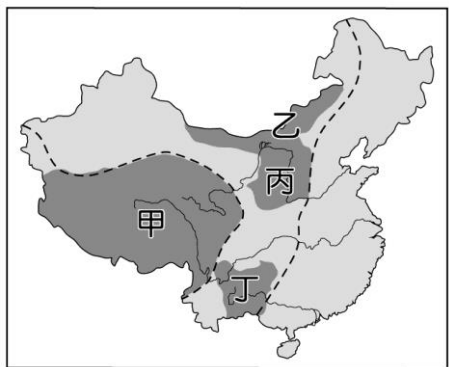
攀上世界第一高峰珠穆朗瑪峰（聖母峰）是所有登山客的夢想，基本上只要支付約 34 萬臺幣的費用，任何人都可以攀登聖母峰，而登山申請也成某國主要的旅遊業收入。但 2019 年登山季開始至今，已有 11 名登山者喪生或失蹤。為了避免憾事一再發生，某國官方提出：以後所有申請聖母峰許可證的登山者，都必須具備高海拔登山經驗，且受過相關的登山訓練之後，才能獲發許可證；另外登山者還必須提交身體健康證明，並由受過訓練的該國嚮導陪同，方可攀登聖母峰。（衛報）

34. () 如果要攀登珠穆朗瑪峰，應該前往哪兩國附近？ (A)中國與印度邊境 (B)中國與阿富汗邊境 (C)中國與尼泊爾邊境 (D)中國與越南邊境。
35. () 珠穆朗瑪峰位於下列哪一座山脈？ (A)崑崙山 (B)阿爾泰山 (C)阿爾卑斯山 (D)喜馬拉雅山。
36. () 承上題，該山系主要是受到哪兩個板塊擠壓造成的？ (A)歐亞板塊、印澳板塊 (B)太平洋板塊、歐亞板塊 (C)印澳板塊、太平洋板塊 (D)歐亞板塊、菲律賓板塊。

【背面尚有試題】

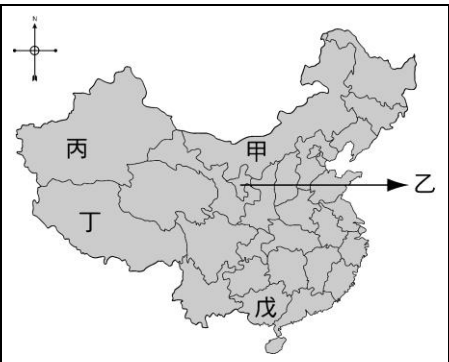
三、非選擇題：28%（每題 2 分）

【非選擇題一】請依代號寫出四大高原的名稱：



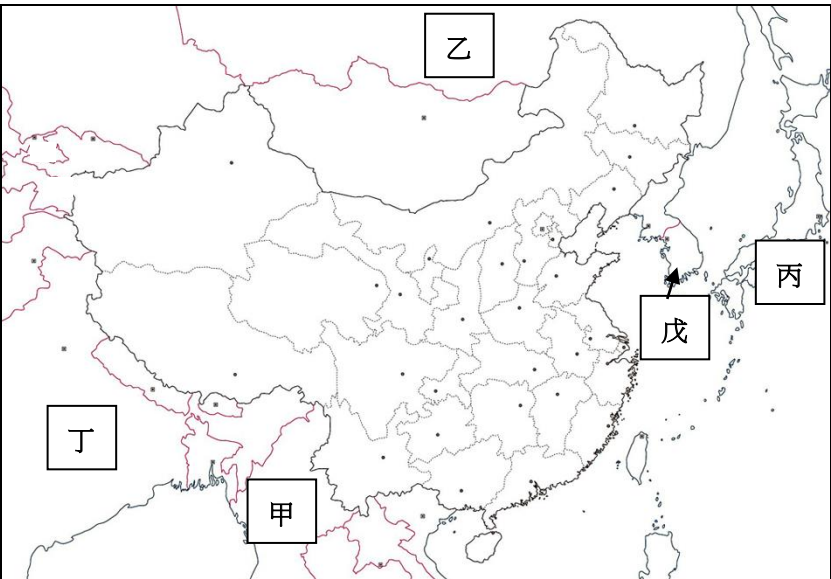
37. 甲：_____高原
38. 乙：_____高原
39. 丙：_____高原
40. 丁：_____高原

【非選擇題二】請依代號寫出自治區的名稱：



41. 甲：_____自治區
42. 乙：_____自治區
43. 丙：_____自治區
44. 丁：_____自治區
45. 戊：_____自治區

【非選擇題三】請依代號寫出鄰國的名稱：



46. 甲：_____
47. 乙：_____
48. 丙：_____
49. 丁：_____
50. 戊：_____

【試題結束，請仔細檢查是否每題均已作答。】